



Используйте числовые прямые для округления до сотни.

об)

4 028



1)

905



2)

4 915



3)

984



4)

6 410



5)

43 902



6)

20 088



7)

59 370



8)

815



9)

38 901



10)

4 908



Ответы

об. 4 000

1. _____

2. _____

3. _____

4. _____

5. _____

6. _____

7. _____

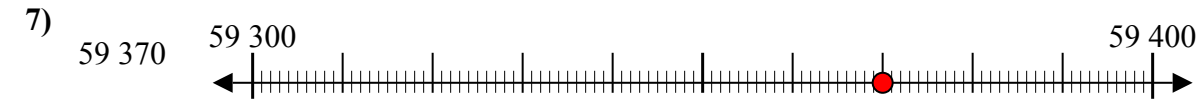
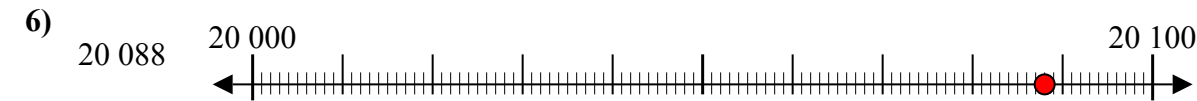
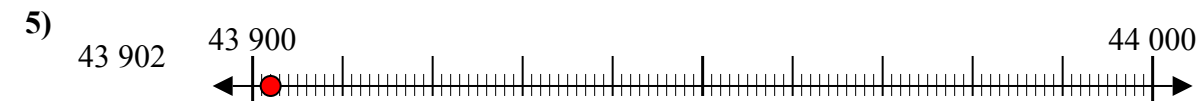
8. _____

9. _____

10. _____



Используйте числовые прямые для округления до сотни.



Ответы

об. 4 000

1. 900

2. 4 900

3. 1 000

4. 6 400

5. 43 900

6. 20 100

7. 59 400

8. 800

9. 38 900

10. 4 900