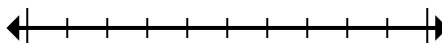




Обозначьте местоположение (приблизительное) на числовой прямой при решении.

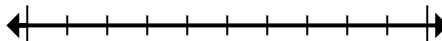
ОТВЕТЫ

1) Округлите 52 817 до ближайших десяти тысячных.



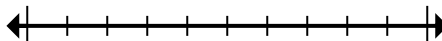
1. \_\_\_\_\_

2) Округлите 820 860 до ближайших сотых.



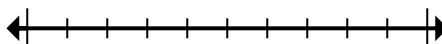
2. \_\_\_\_\_

3) Округлите 666 641 до ближайших десяти тысячных.



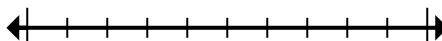
3. \_\_\_\_\_

4) Округлите 9 506 до ближайших тысячных.



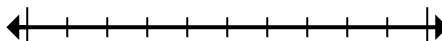
4. \_\_\_\_\_

5) Округлите 453 975 до ближайших ста тысячных.



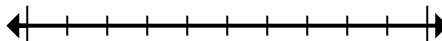
5. \_\_\_\_\_

6) Округлите 534 644 до ближайших ста тысячных.



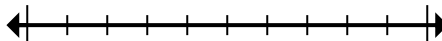
6. \_\_\_\_\_

7) Округлите 40 673 282 до ближайших ста тысячных.



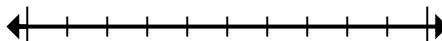
7. \_\_\_\_\_

8) Округлите 126 324 до ближайших десяти тысячных.



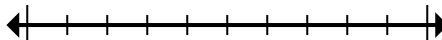
8. \_\_\_\_\_

9) Округлите 950 до ближайших сотых.



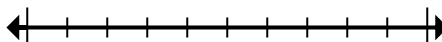
9. \_\_\_\_\_

10) Округлите 728 779 до ближайших тысячных.



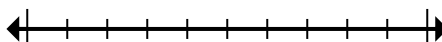
10. \_\_\_\_\_

11) Округлите 82 189 до ближайших десяти тысячных.



11. \_\_\_\_\_

12) Округлите 681 152 до ближайших тысячных.



12. \_\_\_\_\_



Обозначьте местоположение (приблизительное) на числовой прямой при решении.

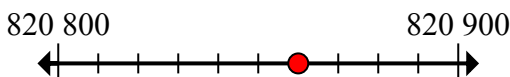
**ОТВЕТЫ**

1) Округлите 52 817 до ближайших десяти тысячных.



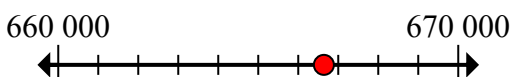
1. 50 000

2) Округлите 820 860 до ближайших сотых.



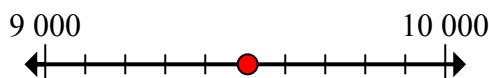
2. 820 900

3) Округлите 666 641 до ближайших десяти тысячных.



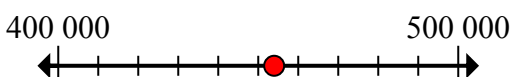
3. 670 000

4) Округлите 9 506 до ближайших тысячных.



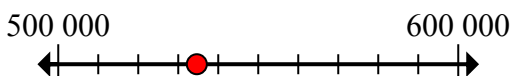
4. 10 000

5) Округлите 453 975 до ближайших ста тысячных.



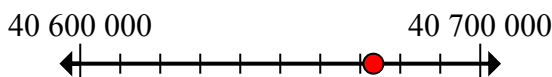
5. 500 000

6) Округлите 534 644 до ближайших ста тысячных.



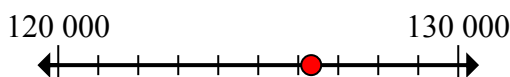
6. 500 000

7) Округлите 40 673 282 до ближайших ста тысячных.



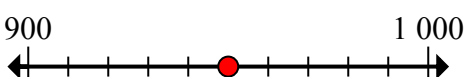
7. 40 700 000

8) Округлите 126 324 до ближайших десяти тысячных.



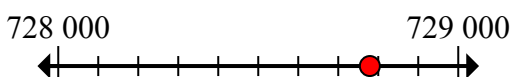
8. 130 000

9) Округлите 950 до ближайших сотых.



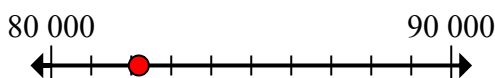
9. 1 000

10) Округлите 728 779 до ближайших тысячных.



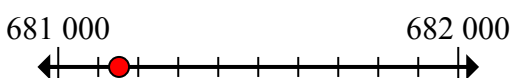
10. 729 000

11) Округлите 82 189 до ближайших десяти тысячных.



11. 80 000

12) Округлите 681 152 до ближайших тысячных.



12. 681 000

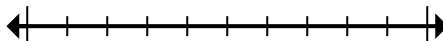


Обозначьте местоположение (приблизительное) на числовой прямой при решении.

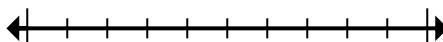
**Отвeты**

670 000	80 000	681 000	729 000
500 000	130 000	50 000	10 000
40 700 000	500 000	1 000	820 900

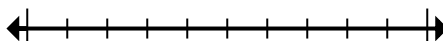
1) Округлите 52 817 до ближайших десяти тысячных.



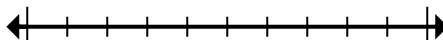
2) Округлите 820 860 до ближайших сотых.



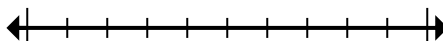
3) Округлите 666 641 до ближайших десяти тысячных.



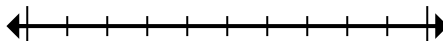
4) Округлите 9 506 до ближайших тысячных.



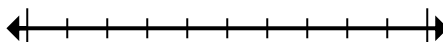
5) Округлите 453 975 до ближайших ста тысячных.



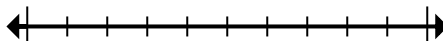
6) Округлите 534 644 до ближайших ста тысячных.



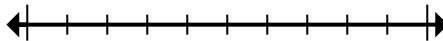
7) Округлите 40 673 282 до ближайших ста тысячных.



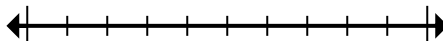
8) Округлите 126 324 до ближайших десяти тысячных.



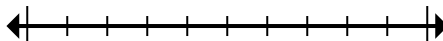
9) Округлите 950 до ближайших сотых.



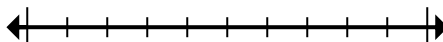
10) Округлите 728 779 до ближайших тысячных.



11) Округлите 82 189 до ближайших десяти тысячных.



12) Округлите 681 152 до ближайших тысячных.



1. \_\_\_\_\_
2. \_\_\_\_\_
3. \_\_\_\_\_
4. \_\_\_\_\_
5. \_\_\_\_\_
6. \_\_\_\_\_
7. \_\_\_\_\_
8. \_\_\_\_\_
9. \_\_\_\_\_
10. \_\_\_\_\_
11. \_\_\_\_\_
12. \_\_\_\_\_