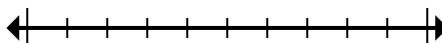




Обозначьте местоположение (приблизительное) на числовой прямой при решении.

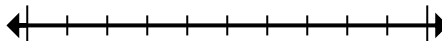
ОТВЕТЫ

1) Округлите 808 484 до ближайших десяти тысячных.



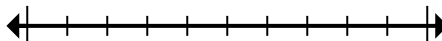
1. _____

2) Округлите 832 264 до ближайших тысячных.



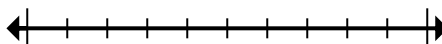
2. _____

3) Округлите 10 622 917 до ближайших ста тысячных.



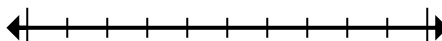
3. _____

4) Округлите 7 142 074 до ближайших десяти тысячных.



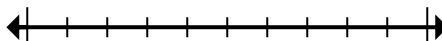
4. _____

5) Округлите 72 745 до ближайших десяти тысячных.



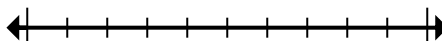
5. _____

6) Округлите 314 до ближайших сотых.



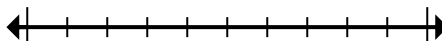
6. _____

7) Округлите 2 720 до ближайших тысячных.



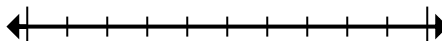
7. _____

8) Округлите 80 764 до ближайших десяти тысячных.



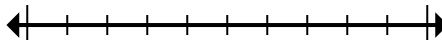
8. _____

9) Округлите 633 653 до ближайших тысячных.



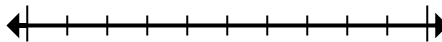
9. _____

10) Округлите 151 433 до ближайших сотых.



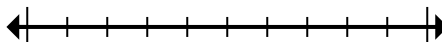
10. _____

11) Округлите 2 415 до ближайших сотых.



11. _____

12) Округлите 42 974 961 до ближайших ста тысячных.



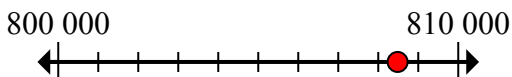
12. _____



Обозначьте местоположение (приблизительное) на числовой прямой при решении.

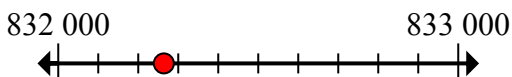
ОТВЕТЫ

1) Округлите 808 484 до ближайших десяти тысячных.



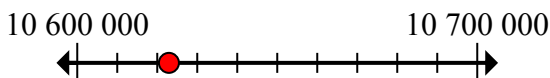
1. 810 000

2) Округлите 832 264 до ближайших тысячных.



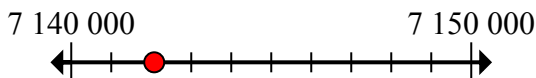
2. 832 000

3) Округлите 10 622 917 до ближайших ста тысячных.



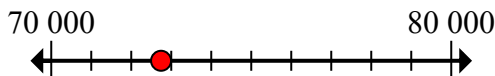
3. 10 600 000

4) Округлите 7 142 074 до ближайших десяти тысячных.



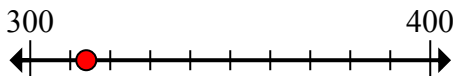
4. 7 140 000

5) Округлите 72 745 до ближайших десяти тысячных.



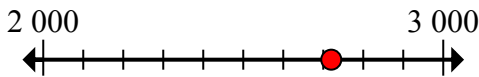
5. 70 000

6) Округлите 314 до ближайших сотых.



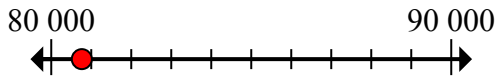
6. 300

7) Округлите 2 720 до ближайших тысячных.



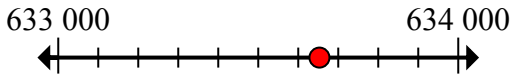
7. 3 000

8) Округлите 80 764 до ближайших десяти тысячных.



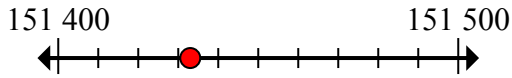
8. 80 000

9) Округлите 633 653 до ближайших тысячных.



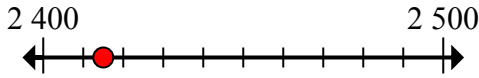
9. 634 000

10) Округлите 151 433 до ближайших сотых.



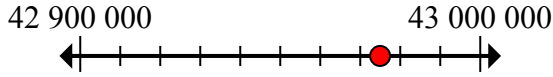
10. 151 400

11) Округлите 2 415 до ближайших сотых.



11. 2 400

12) Округлите 42 974 961 до ближайших ста тысячных.



12. 43 000 000

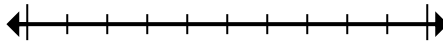


Обозначьте местоположение (приблизительное) на числовой прямой при решении.

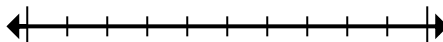
Ответы

| | | | |
|---------|---------|-----------|------------|
| 3 000 | 151 400 | 832 000 | 10 600 000 |
| 70 000 | 80 000 | 7 140 000 | 300 |
| 634 000 | 810 000 | 2 400 | 43 000 000 |

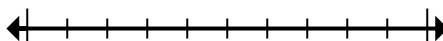
1) Округлите 808 484 до ближайших десяти тысячных.



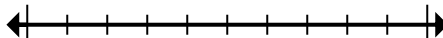
2) Округлите 832 264 до ближайших тысячных.



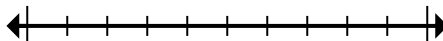
3) Округлите 10 622 917 до ближайших ста тысячных.



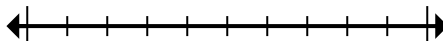
4) Округлите 7 142 074 до ближайших десяти тысячных.



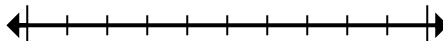
5) Округлите 72 745 до ближайших десяти тысячных.



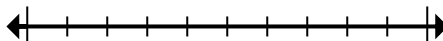
6) Округлите 314 до ближайших сотых.



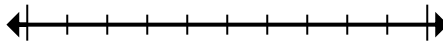
7) Округлите 2 720 до ближайших тысячных.



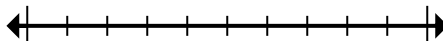
8) Округлите 80 764 до ближайших десяти тысячных.



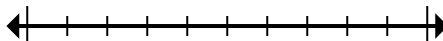
9) Округлите 633 653 до ближайших тысячных.



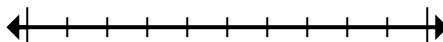
10) Округлите 151 433 до ближайших сотых.



11) Округлите 2 415 до ближайших сотых.



12) Округлите 42 974 961 до ближайших ста тысячных.



1. _____
2. _____
3. _____
4. _____
5. _____
6. _____
7. _____
8. _____
9. _____
10. _____
11. _____
12. _____