



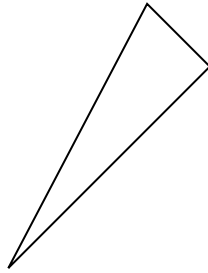
Определите, какая фигура изображена перед нами.

ОТВЕТЫ

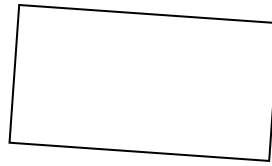
1)



2)



3)

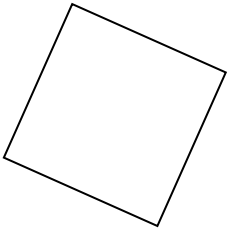


1. _____

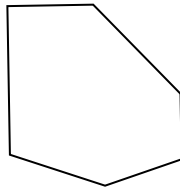
2. _____

3. _____

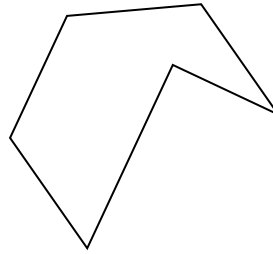
4)



5)



6)



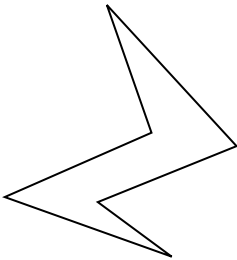
4. _____

5. _____

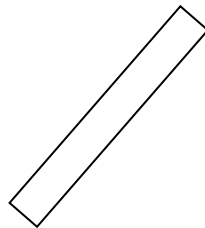
6. _____

7. _____

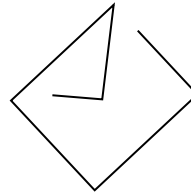
7)



8)



9)



8. _____

9. _____

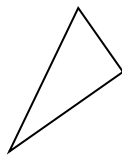
10. _____

11. _____

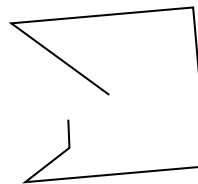
10)



11)



12)




12. _____

13. _____


14. _____

15. _____

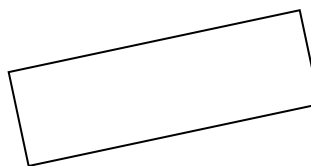
13)



14)



15)



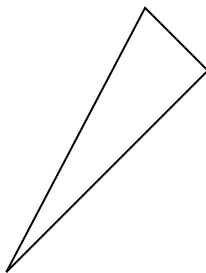


Определите, какая фигура изображена перед нами.

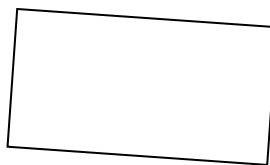
1)



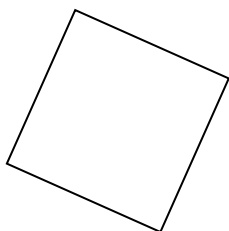
2)



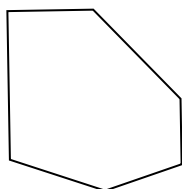
3)



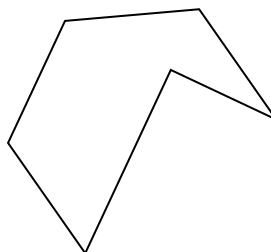
4)



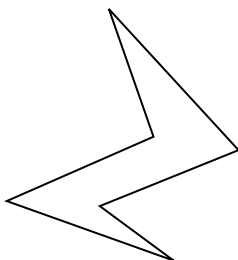
5)



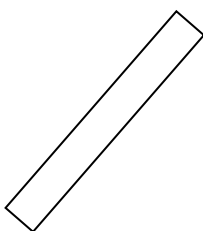
6)



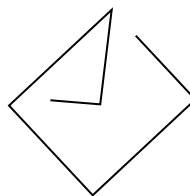
7)



8)



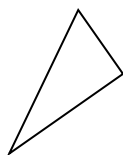
9)



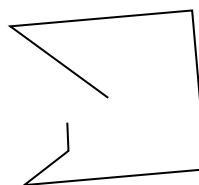
10)




11)




12)



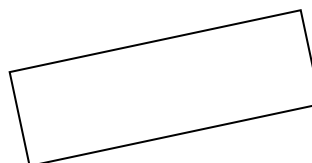
13)



14)



15)



ОТВЕТЫ

1. другая

2. треугольник

3. прямоугольник

4. квадрат

5. шестиугольник

6. шестиугольник

7. шестиугольник

8. прямоугольник

9. другая

10. треугольник

11. треугольник

12. другая

13. другая

14. треугольник

15. прямоугольник