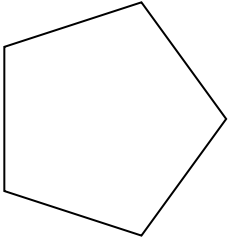




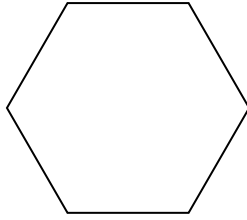
Определите, правильная или неправильная перед нами фигура.

ОТВЕТЫ

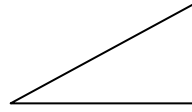
1)



2)

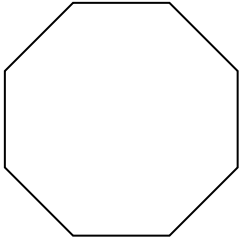


3)

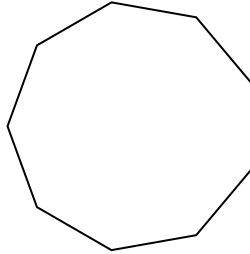


1. _____

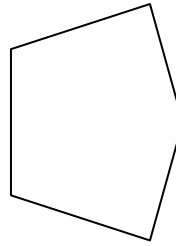
4)



5)

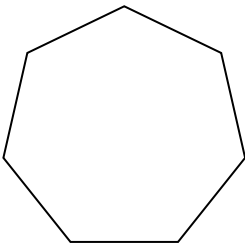


6)

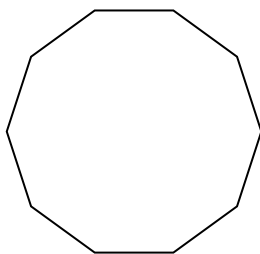


2. _____

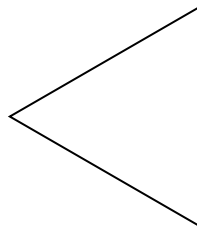
7)



8)




9)




3. _____

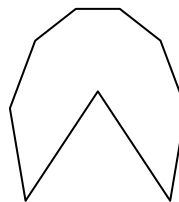
10)



11)




12)




4. _____

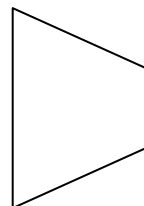
13)



14)



15)



5. _____

6. _____

7. _____

8. _____

9. _____

10. _____

11. _____

12. _____

13. _____

14. _____

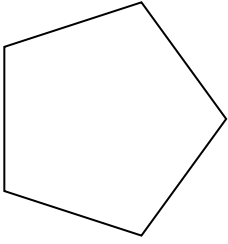
15. _____



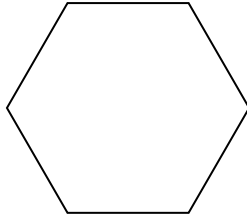
Определите, правильная или неправильная перед нами фигура.

ОТВЕТЫ

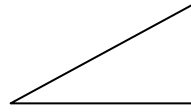
1)



2)

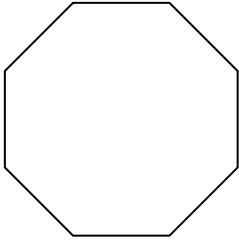


3)

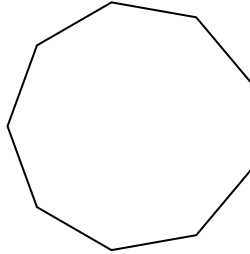


1. Правильная фигура

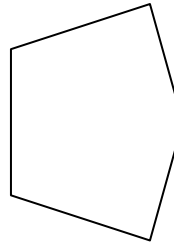
4)



5)



6)



2. Правильная фигура

3. Неправильная фигура

4. Правильная фигура

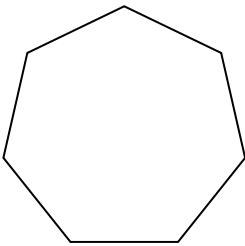
5. Правильная фигура

6. Неправильная фигура

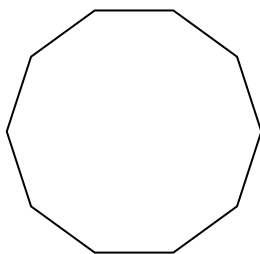
7. Правильная фигура

8. Правильная фигура

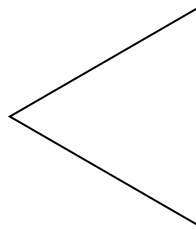
7)



8)



9)




9. Правильная фигура


10. Неправильная фигура

11. Правильная фигура

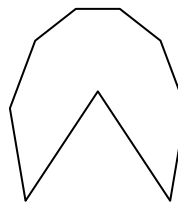
10)



11)



12)




12. Неправильная фигура


13. Неправильная фигура

14. Неправильная фигура

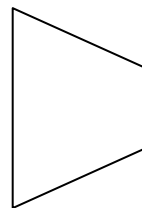
13)



14)



15)



15. Неправильная фигура