




Определите, является ли фигура сдвинутой, повернутой или отраженной.

ОТВЕТЫ


1)



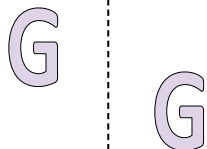
2)



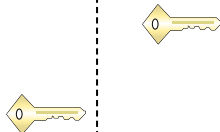
3)



4)



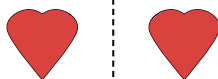
5)




6)




7)



8)



9)



10)



11)



12)



13)



14)



15)




1. \_\_\_\_\_
2. \_\_\_\_\_
3. \_\_\_\_\_
4. \_\_\_\_\_
5. \_\_\_\_\_
6. \_\_\_\_\_
7. \_\_\_\_\_
8. \_\_\_\_\_
9. \_\_\_\_\_
10. \_\_\_\_\_
11. \_\_\_\_\_
12. \_\_\_\_\_
13. \_\_\_\_\_
14. \_\_\_\_\_
15. \_\_\_\_\_



Определите, является ли фигура сдвинутой, повернутой или отраженной.

1)



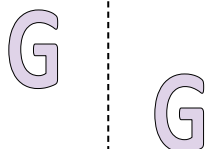
2)



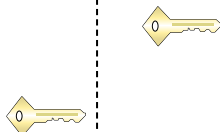
3)




4)



5)




6)




7)



8)



9)



10)



11)



12)



13)



14)



15)



ОТВЕТЫ

1. отраженная

2. сдвинутая

3. повернутая

4. сдвинутая

5. сдвинутая

6. повернутая

7. отраженная

8. отраженная

9. сдвинутая

10. сдвинутая

11. сдвинутая

12. отраженная

13. повернутая

14. повернутая

15. повернутая