




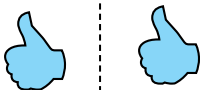
Определите, является ли фигура сдвинутой, повернутой или отраженной.

ОТВЕТЫ


1)



2)



3)



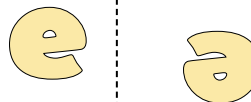
4)



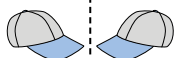
5)




6)



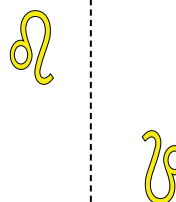
7)



8)



9)



10)



11)



12)



13)



14)



15)




1. \_\_\_\_\_
2. \_\_\_\_\_
3. \_\_\_\_\_
4. \_\_\_\_\_
5. \_\_\_\_\_
6. \_\_\_\_\_
7. \_\_\_\_\_
8. \_\_\_\_\_
9. \_\_\_\_\_
10. \_\_\_\_\_
11. \_\_\_\_\_
12. \_\_\_\_\_
13. \_\_\_\_\_
14. \_\_\_\_\_
15. \_\_\_\_\_

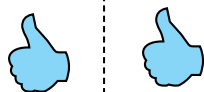


Определите, является ли фигура сдвинутой, повернутой или отраженной.

1)



2)



3)



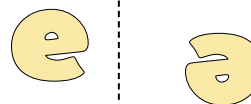
4)



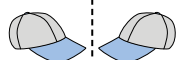
5)




6)



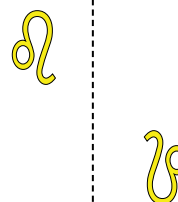
7)



8)



9)



10)



11)



12)



13)



14)



15)



**ОТВЕТЫ**

1. **повернутая**

2. **сдвинутая**

3. **отраженная**

4. **отраженная**

5. **отраженная**

6. **повернутая**

7. **отраженная**

8. **сдвинутая**

9. **повернутая**

10. **сдвинутая**

11. **отраженная**

12. **сдвинутая**

13. **повернутая**

14. **повернутая**

15. **сдвинутая**