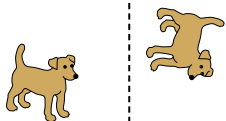




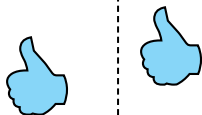
Определите, является ли фигура сдвинутой, повернутой или отраженной.

ОТВЕТЫ

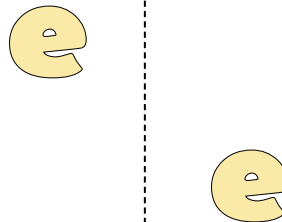
1)



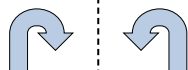
2)



3)




4)



5)



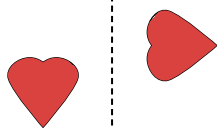
6)



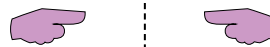
7)



8)




9)



10)



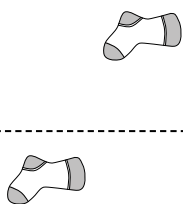
11)



12)



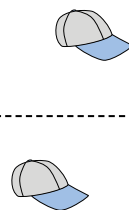
13)



14)



15)




1. \_\_\_\_\_
2. \_\_\_\_\_
3. \_\_\_\_\_
4. \_\_\_\_\_
5. \_\_\_\_\_
6. \_\_\_\_\_
7. \_\_\_\_\_
8. \_\_\_\_\_
9. \_\_\_\_\_
10. \_\_\_\_\_
11. \_\_\_\_\_
12. \_\_\_\_\_
13. \_\_\_\_\_
14. \_\_\_\_\_
15. \_\_\_\_\_

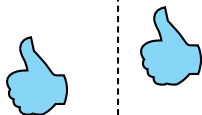


Определите, является ли фигура сдвинутой, повернутой или отраженной.

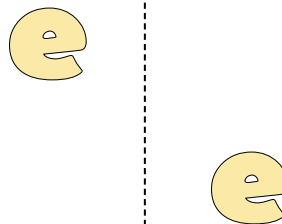
1)



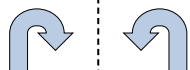
2)



3)




4)



5)



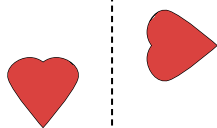
6)



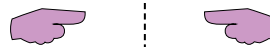
7)



8)




9)



10)



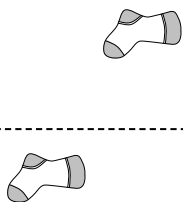
11)



12)



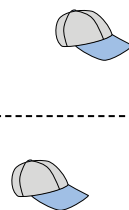
13)



14)



15)



ОТВЕТЫ

1. повернутая

2. сдвинутая

3. сдвинутая

4. отраженная

5. сдвинутая

6. повернутая

7. повернутая

8. повернутая

9. отраженная

10. отраженная

11. отраженная

12. отраженная

13. сдвинутая

14. сдвинутая

15. сдвинутая