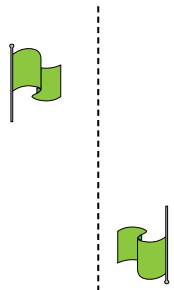




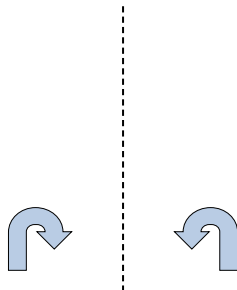
Определите, является ли фигура сдвинутой, повернутой или отраженной.

ОТВЕТЫ

1)



2)



3)



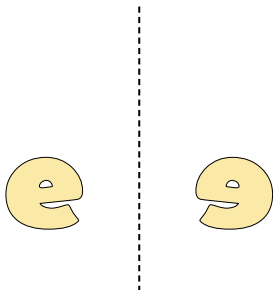
1. _____

2. _____


3. _____

4. _____

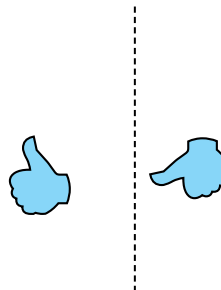
4)



5)



6)



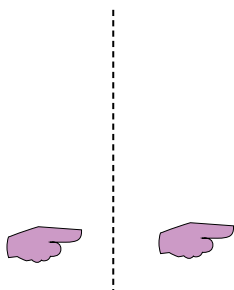
5. _____

6. _____

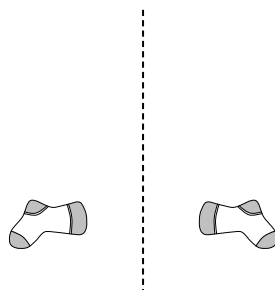
7. _____

8. _____

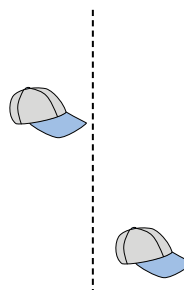
7)



8)



9)



9. _____

10. _____

11. _____

12. _____

10)



11)



12)

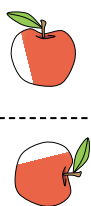


13. _____

14. _____

15. _____

13)



14)




15)





Определите, является ли фигура сдвинутой, повернутой или отраженной.

1)



2)



3)



4)



5)



6)



7)



8)



9)



10)



11)



12)



13)



14)



15)



ОТВЕТЫ

1. повернутая

2. отраженная

3. отраженная

4. отраженная

5. сдвинутая

6. повернутая

7. сдвинутая

8. отраженная

9. сдвинутая

10. сдвинутая

11. отраженная

12. повернутая

13. повернутая

14. сдвинутая

15. повернутая



Определите, является ли фигура сдвинутой, повернутой или отраженной.

ОТВЕТЫ

1)



2)



3)



4)



5)



6)



7)



8)



9)



10)



11)



12)



13)



14)



15)



1. _____
2. _____
3. _____
4. _____
5. _____
6. _____
7. _____
8. _____
9. _____
10. _____
11. _____
12. _____
13. _____
14. _____
15. _____



Определите, является ли фигура сдвинутой, повернутой или отраженной.

1)



2)



3)



4)



5)



6)



7)



8)



9)



10)



11)



12)



13)



14)



15)



ОТВЕТЫ

1. **повернутая**

2. **отраженная**

3. **повернутая**

4. **отраженная**

5. **сдвинутая**

6. **сдвинутая**

7. **сдвинутая**

8. **отраженная**

9. **отраженная**

10. **повернутая**

11. **повернутая**

12. **повернутая**

13. **отраженная**

14. **сдвинутая**

15. **сдвинутая**



Определите, является ли фигура сдвинутой, повернутой или отраженной.

ОТВЕТЫ

1)



2)



3)



4)



5)



6)



7)



8)



9)



10)



11)



12)



13)



14)



15)



1. _____

2. _____

3. _____

4. _____

5. _____

6. _____

7. _____

8. _____

9. _____

10. _____

11. _____

12. _____

13. _____

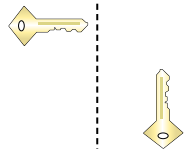
14. _____

15. _____



Определите, является ли фигура сдвинутой, повернутой или отраженной.

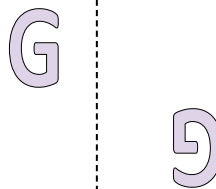
1)



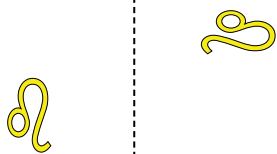
2)



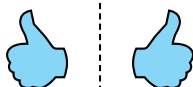
3)



4)



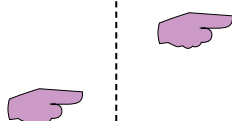
5)



6)



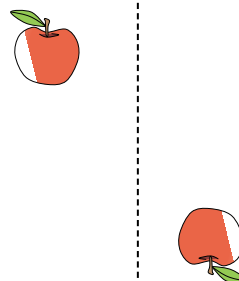
7)



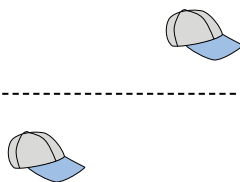
8)



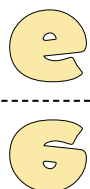
9)



10)



11)




12)



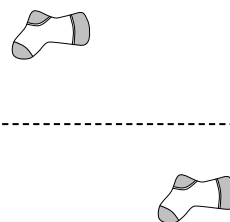
13)



14)



15)



ОТВЕТЫ

1. повернутая

2. сдвинутая

3. повернутая

4. повернутая

5. отраженная

6. отраженная

7. сдвинутая

8. отраженная

9. повернутая

10. сдвинутая

11. отраженная

12. сдвинутая

13. отраженная

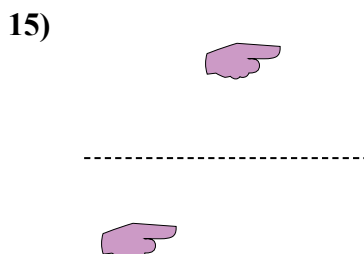

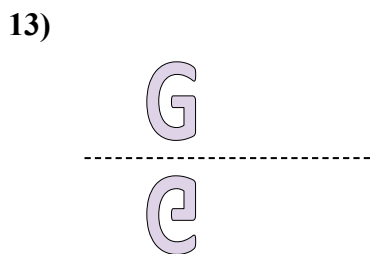

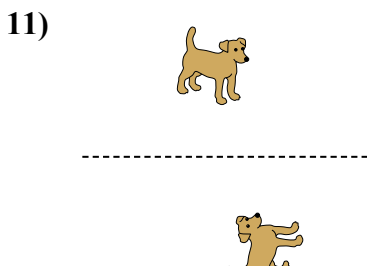
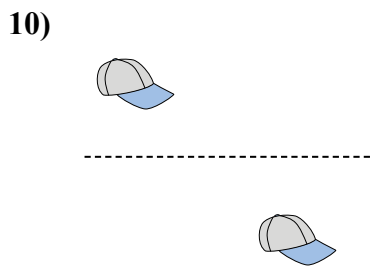
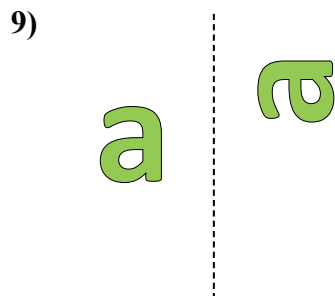
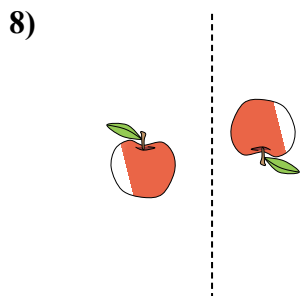
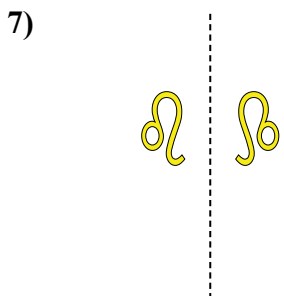
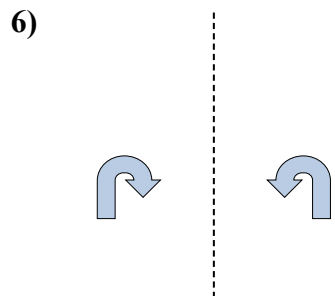
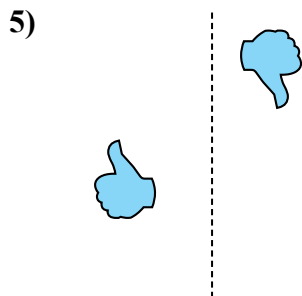
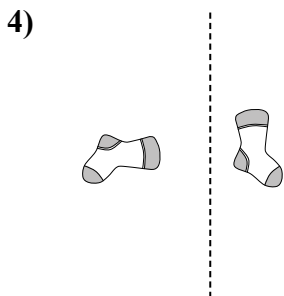
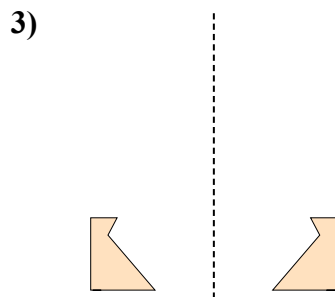
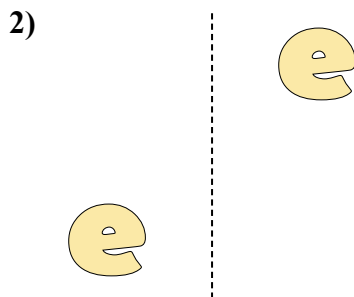
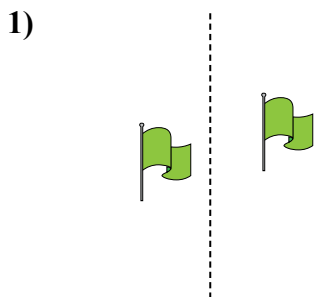
14. отраженная

15. сдвинутая



Определите, является ли фигура сдвинутой, повернутой или отраженной.

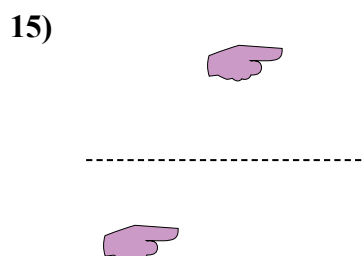
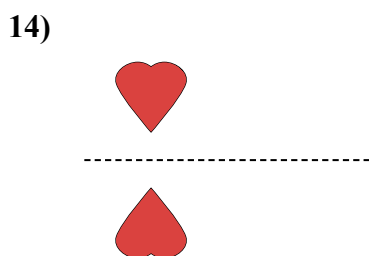
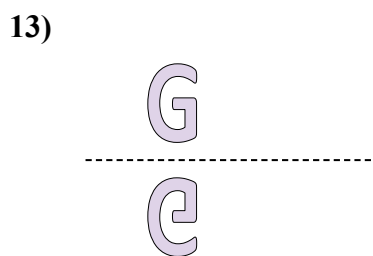
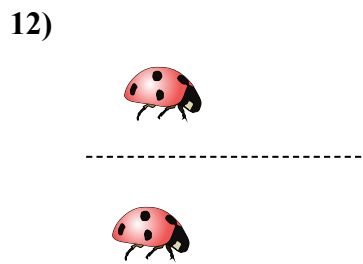
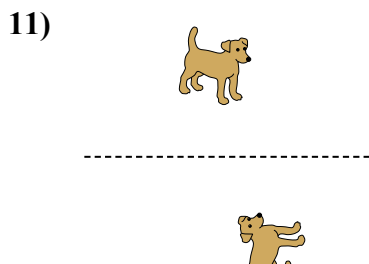
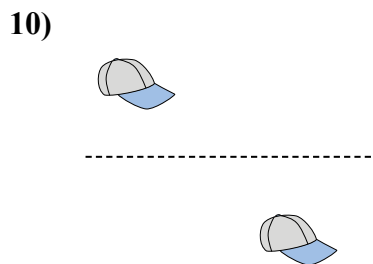
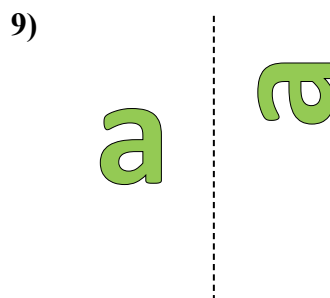
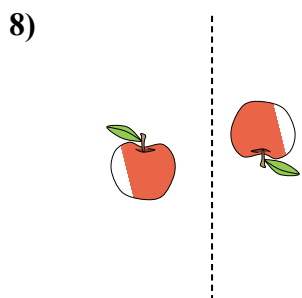
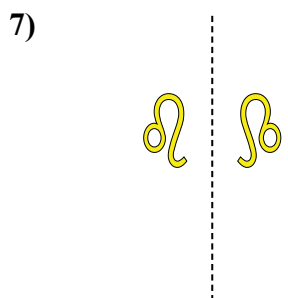
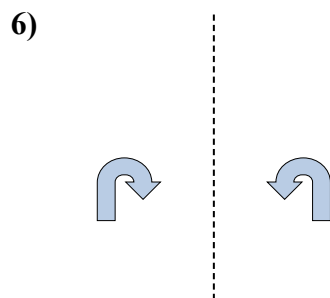
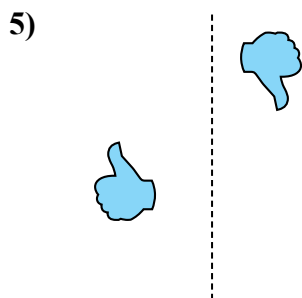
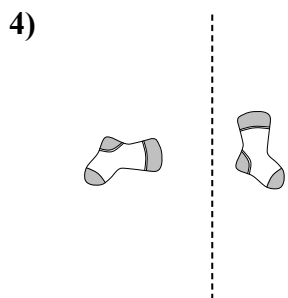
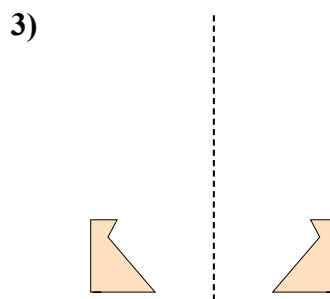
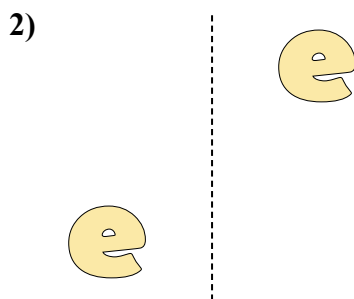
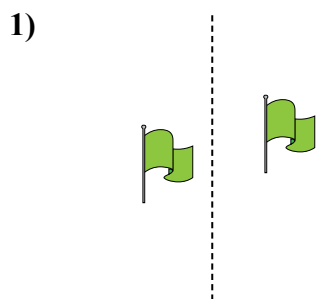
ОТВЕТЫ



1. _____
2. _____
3. _____
4. _____
5. _____
6. _____
7. _____
8. _____
9. _____
10. _____
11. _____
12. _____
13. _____
14. _____
15. _____



Определите, является ли фигура сдвинутой, повернутой или отраженной.



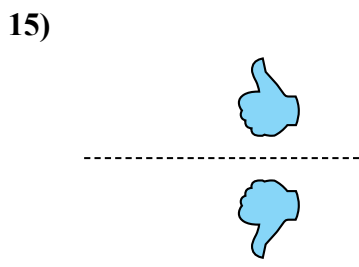
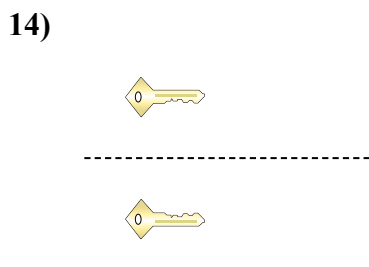
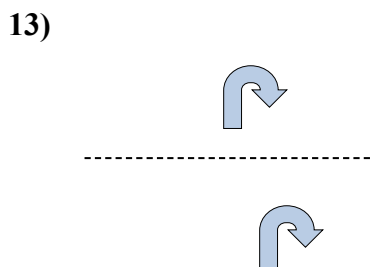
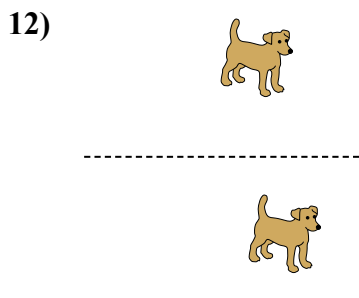
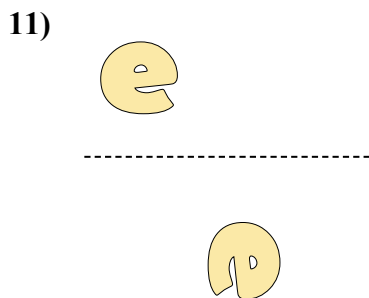
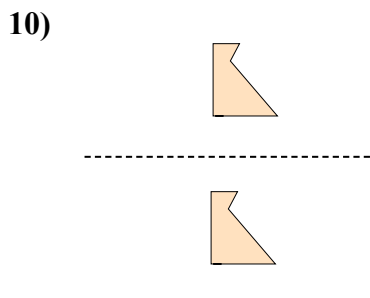
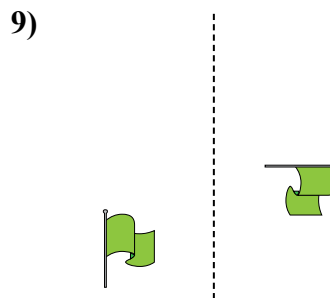
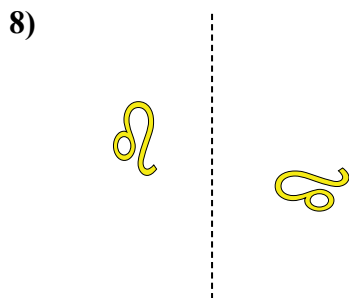
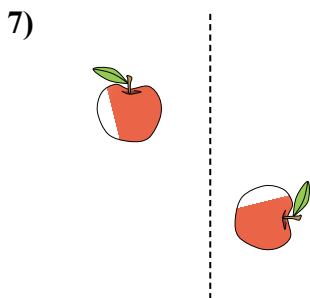
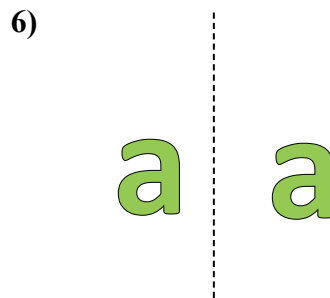
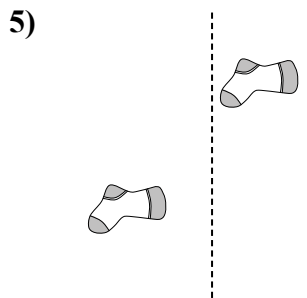
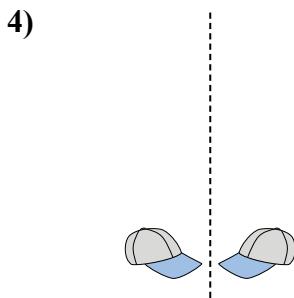
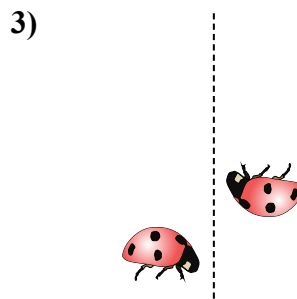
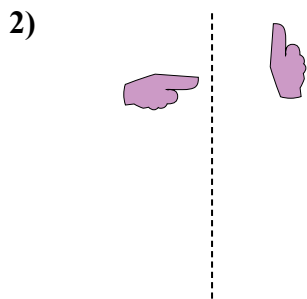
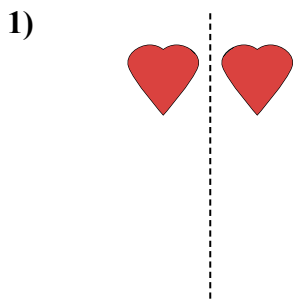
ОТВЕТЫ

1. сдвинутая
2. сдвинутая
3. отраженная
4. повернутая
5. повернутая
6. отраженная
7. отраженная
8. повернутая
9. повернутая
10. сдвинутая
11. повернутая
12. сдвинутая
13. отраженная
14. отраженная
15. сдвинутая



Определите, является ли фигура сдвинутой, повернутой или отраженной.

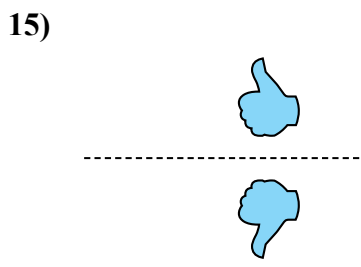
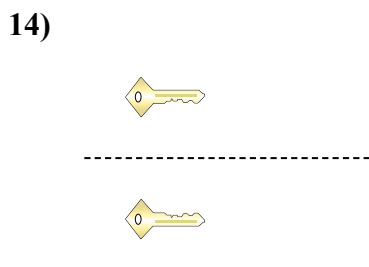
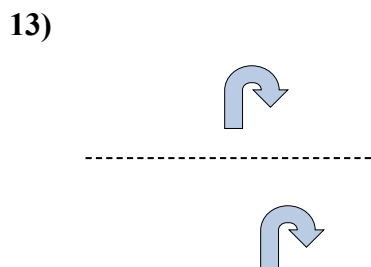
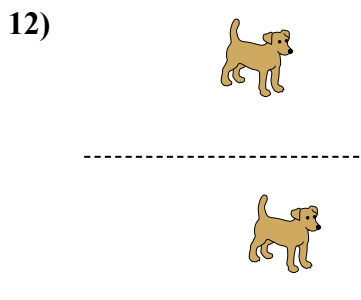
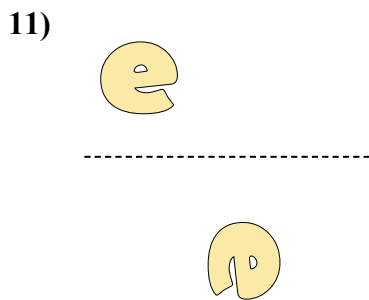
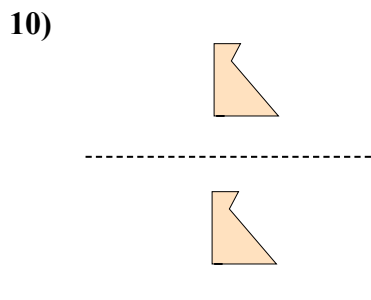
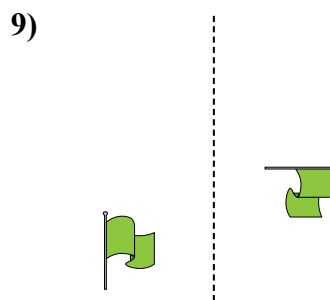
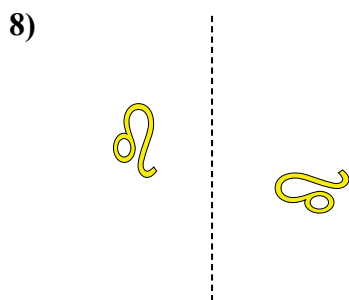
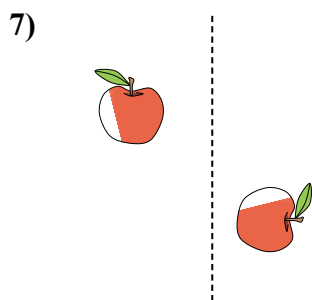
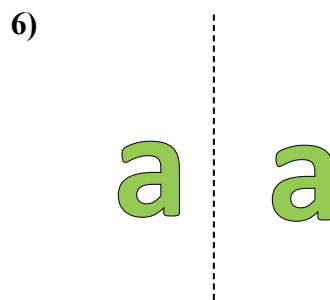
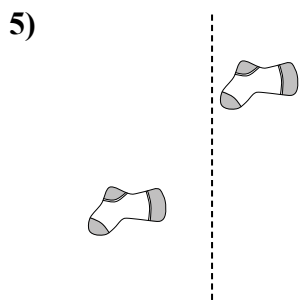
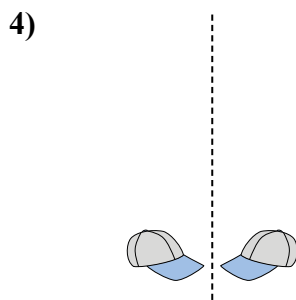
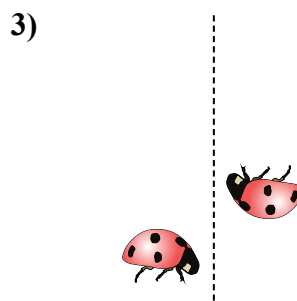
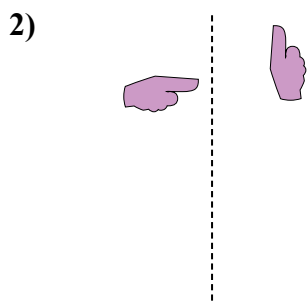
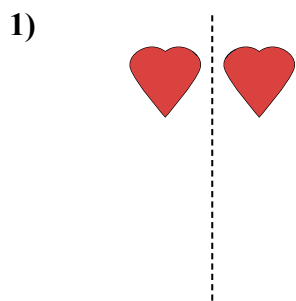
ОТВЕТЫ



1. _____
2. _____
3. _____
4. _____
5. _____
6. _____
7. _____
8. _____
9. _____
10. _____
11. _____
12. _____
13. _____
14. _____
15. _____



Определите, является ли фигура сдвинутой, повернутой или отраженной.



ОТВЕТЫ

1. отраженная

2. повернутая

3. повернутая

4. отраженная

5. сдвинутая

6. сдвинутая

7. повернутая

8. повернутая

9. повернутая

10. сдвинутая

11. повернутая

12. сдвинутая

13. сдвинутая

14. отраженная


15. отраженная



Определите, является ли фигура сдвинутой, повернутой или отраженной.

ОТВЕТЫ


1)



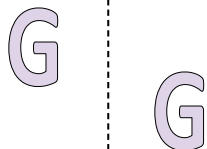
2)



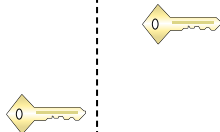
3)




4)



5)




6)




7)



8)



9)



10)



11)



12)



13)



14)



15)




1. _____
2. _____
3. _____
4. _____
5. _____
6. _____
7. _____
8. _____
9. _____
10. _____
11. _____
12. _____
13. _____
14. _____
15. _____



Определите, является ли фигура сдвинутой, повернутой или отраженной.

1)



2)



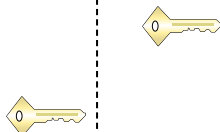
3)




4)



5)




6)




7)



8)



9)



10)



11)



12)



13)



14)



15)



ОТВЕТЫ

1. отраженная

2. сдвинутая

3. повернутая

4. сдвинутая

5. сдвинутая

6. повернутая

7. отраженная

8. отраженная

9. сдвинутая

10. сдвинутая

11. сдвинутая

12. отраженная

13. повернутая

14. повернутая

15. повернутая



Определите, является ли фигура сдвинутой, повернутой или отраженной.

ОТВЕТЫ

1)



2)



3)



4)



5)



6)



7)



8)



9)



10)



11)



12)



13)



14)



15)



1. _____

2. _____

3. _____

4. _____

5. _____

6. _____

7. _____

8. _____

9. _____

10. _____

11. _____

12. _____

13. _____

14. _____

15. _____



Определите, является ли фигура сдвинутой, повернутой или отраженной.

1)



2)



3)



4)



5)



6)



7)



8)



9)



10)



11)



12)



13)



14)



15)



ОТВЕТЫ

1. сдвинутая

2. сдвинутая

3. отраженная

4. повернутая

5. сдвинутая

6. повернутая

7. повернутая

8. отраженная

9. повернутая

10. отраженная

11. повернутая

12. повернутая

13. сдвинутая

14. отраженная


15. отраженная



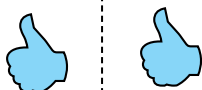
Определите, является ли фигура сдвинутой, повернутой или отраженной.

ОТВЕТЫ

1)



2)



3)



4)



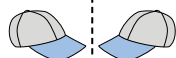
5)




6)



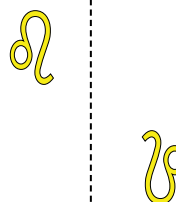
7)



8)



9)



10)



11)



12)



13)



14)



15)



1. _____
2. _____
3. _____
4. _____
5. _____
6. _____
7. _____
8. _____
9. _____
10. _____
11. _____
12. _____
13. _____
14. _____
15. _____

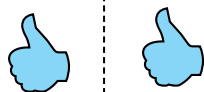


Определите, является ли фигура сдвинутой, повернутой или отраженной.

1)



2)



3)



4)



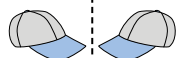
5)




6)



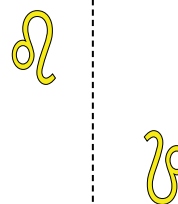
7)



8)



9)



10)



11)



12)



13)



14)



15)



ОТВЕТЫ

1. повернутая

2. сдвинутая

3. отраженная

4. отраженная

5. отраженная

6. повернутая

7. отраженная

8. сдвинутая

9. повернутая

10. сдвинутая

11. отраженная

12. сдвинутая

13. повернутая

14. повернутая

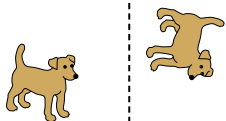
15. сдвинутая



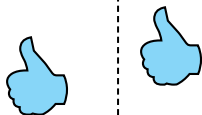
Определите, является ли фигура сдвинутой, повернутой или отраженной.

ОТВЕТЫ

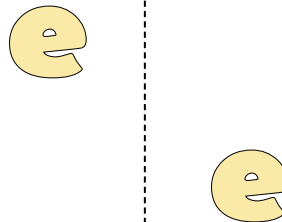
1)



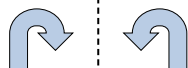
2)



3)




4)



5)



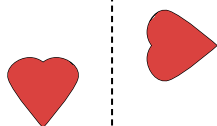
6)



7)



8)




9)



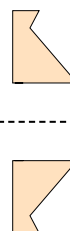
10)



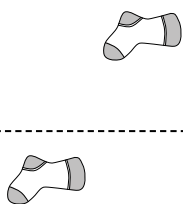
11)



12)



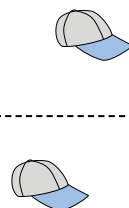
13)



14)



15)




1. _____
2. _____
3. _____
4. _____
5. _____
6. _____
7. _____
8. _____
9. _____
10. _____
11. _____
12. _____
13. _____
14. _____
15. _____

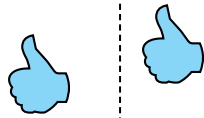


Определите, является ли фигура сдвинутой, повернутой или отраженной.

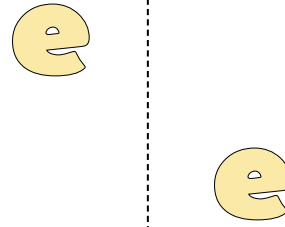
1)



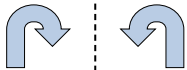
2)



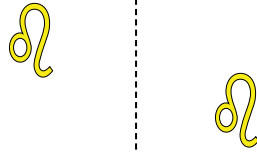
3)




4)



5)



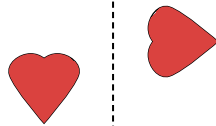
6)



7)



8)




9)




10)



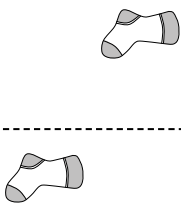
11)



12)



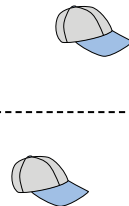
13)



14)



15)



ОТВЕТЫ

1. повернутая

2. сдвинутая

3. сдвинутая

4. отраженная

5. сдвинутая

6. повернутая

7. повернутая

8. повернутая

9. отраженная

10. отраженная

11. отраженная

12. отраженная

13. сдвинутая

14. сдвинутая

15. сдвинутая



Определите, является ли фигура сдвинутой, повернутой или отраженной.

ОТВЕТЫ

1)



2)



3)



4)



5)



6)



7)



8)



9)



10)



11)



12)



13)



14)



15)



1. _____
2. _____
3. _____
4. _____
5. _____
6. _____
7. _____
8. _____
9. _____
10. _____
11. _____
12. _____
13. _____
14. _____
15. _____



Определите, является ли фигура сдвинутой, повернутой или отраженной.

1)



2)



3)



4)



5)



6)



7)



8)



9)



10)



11)



12)



13)



14)



15)



ОТВЕТЫ

1. сдвинутая

2. повернутая

3. сдвинутая

4. отраженная

5. повернутая

6. сдвинутая

7. отраженная

8. сдвинутая

9. отраженная

10. сдвинутая

11. сдвинутая

12. повернутая

13. повернутая

14. повернутая

15. отраженная