




Определите, является ли фигура сдвинутой, повернутой или отраженной.

ОТВЕТЫ

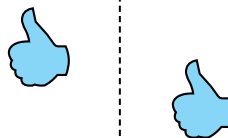
1)



2)



3)



4)




5)




6)



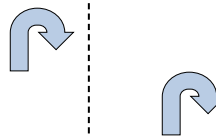
7)



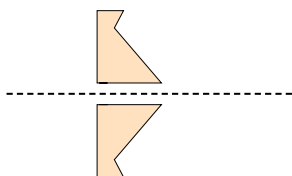
8)



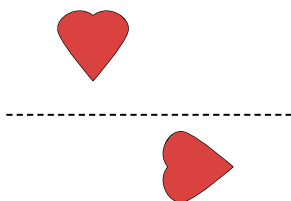
9)



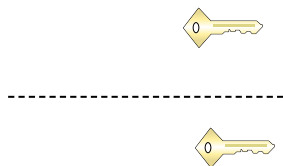
10)



11)



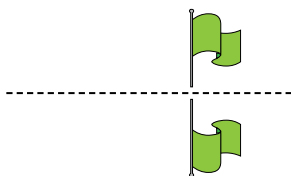
12)



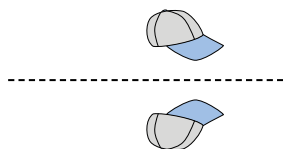
13)



14)



15)




1. \_\_\_\_\_
2. \_\_\_\_\_
3. \_\_\_\_\_
4. \_\_\_\_\_
5. \_\_\_\_\_
6. \_\_\_\_\_
7. \_\_\_\_\_
8. \_\_\_\_\_
9. \_\_\_\_\_
10. \_\_\_\_\_
11. \_\_\_\_\_
12. \_\_\_\_\_
13. \_\_\_\_\_
14. \_\_\_\_\_
15. \_\_\_\_\_



Определите, является ли фигура сдвинутой, повернутой или отраженной.

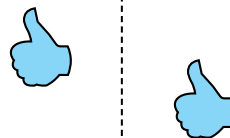
1)



2)




3)



4)




5)



6)



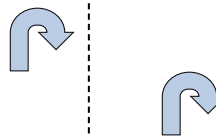
7)



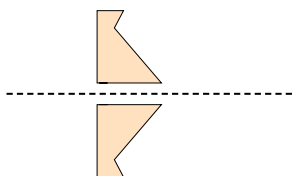
8)



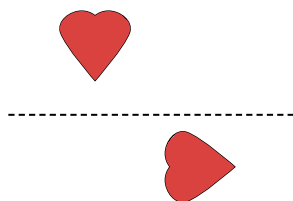
9)



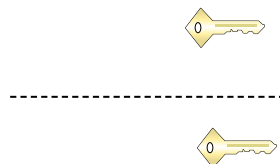
10)



11)



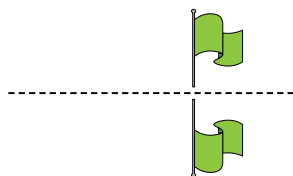
12)



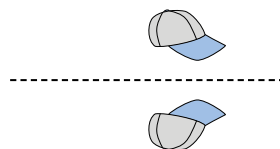
13)



14)



15)



ОТВЕТЫ

1. отраженная

2. повернутая

3. сдвинутая

4. повернутая

5. повернутая

6. сдвинутая

7. сдвинутая

8. отраженная

9. сдвинутая

10. отраженная

11. повернутая

12. сдвинутая

13. сдвинутая

14. отраженная

15. отраженная