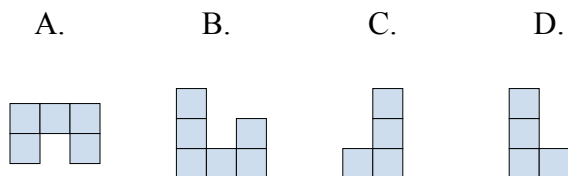
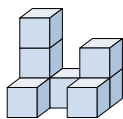




Решите каждую задачу.

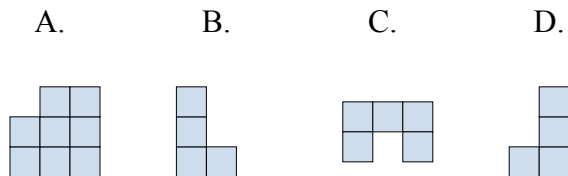
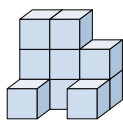
ОТВЕТЫ

- 1) Если вы посмотрите на фигуру 3d сверху, то что вы увидите?



1. _____

- 2) Если вы посмотрите на фигуру 3d сверху, то что вы увидите?



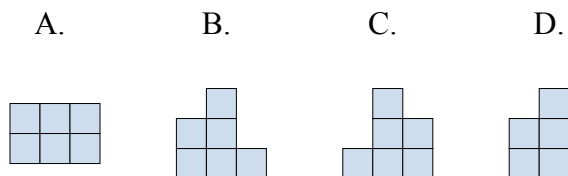
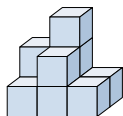
2. _____

3. _____

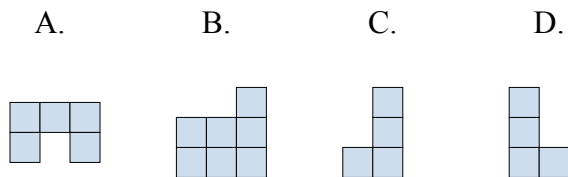
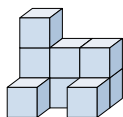
4. _____

5. _____

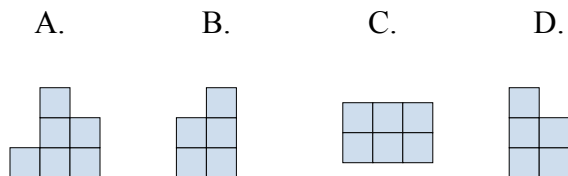
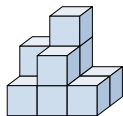
- 3) Если вы посмотрите на фигуру 3d с правой стороны, то что вы увидите?



- 4) Если вы посмотрите на фигуру 3d сверху, то что вы увидите?



- 5) Если вы посмотрите на фигуру 3d сверху, то что вы увидите?

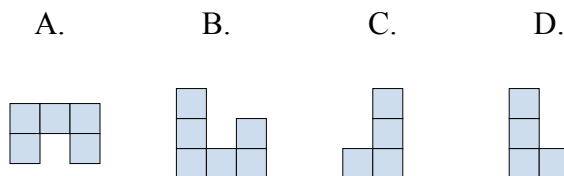
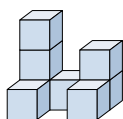




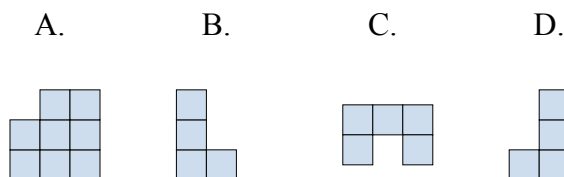
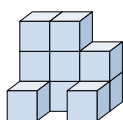
Решите каждую задачу.

ОТВЕТЫ

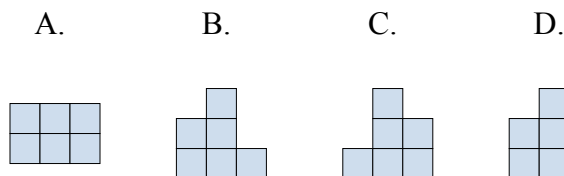
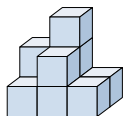
- 1) Если вы посмотрите на фигуру 3d сверху, то что вы увидите?

1. **A**

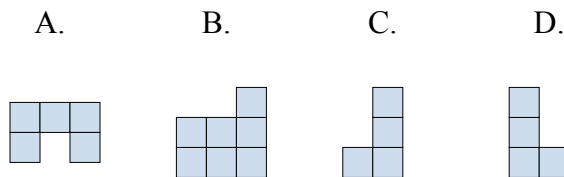
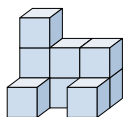
- 2) Если вы посмотрите на фигуру 3d сверху, то что вы увидите?

2. **C**

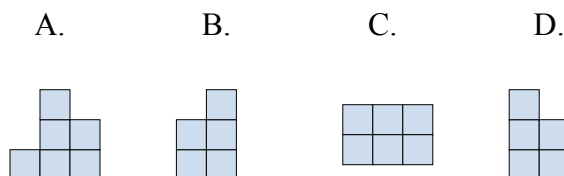
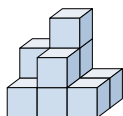
- 3) Если вы посмотрите на фигуру 3d с правой стороны, то что вы увидите?

3. **D**

- 4) Если вы посмотрите на фигуру 3d сверху, то что вы увидите?

4. **A**

- 5) Если вы посмотрите на фигуру 3d сверху, то что вы увидите?

5. **C**