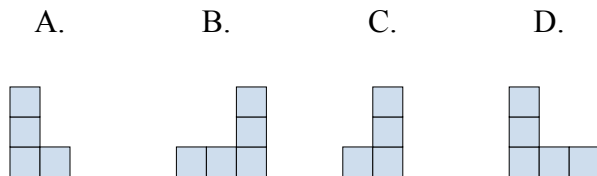
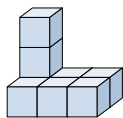




Решите каждую задачу.

**ОТВЕТЫ**

- 1) Если вы посмотрите на фигуру 3d с правой стороны, то что вы увидите?



1. \_\_\_\_\_

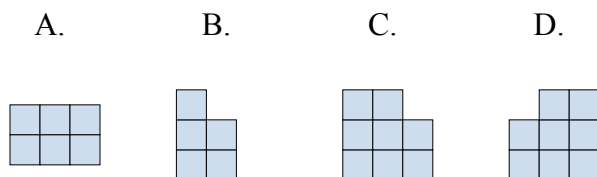
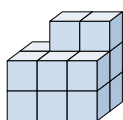
2. \_\_\_\_\_

3. \_\_\_\_\_

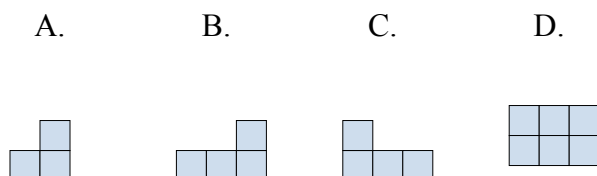
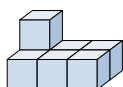
4. \_\_\_\_\_

5. \_\_\_\_\_

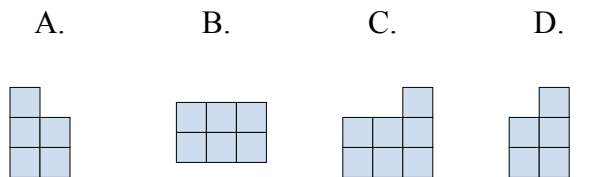
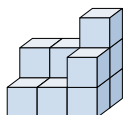
- 2) Если вы посмотрите на фигуру 3d сзади, то что вы увидите?



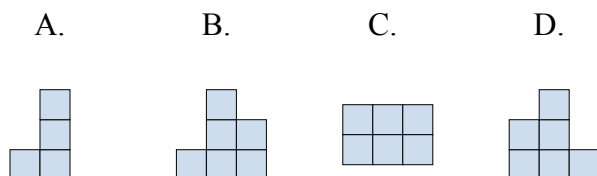
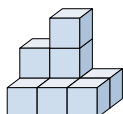
- 3) Если вы посмотрите на фигуру 3d с правой стороны, то что вы увидите?



- 4) Если вы посмотрите на фигуру 3d сверху, то что вы увидите?



- 5) Если вы посмотрите на фигуру 3d сзади, то что вы увидите?

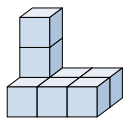




Решите каждую задачу.

**ОТВЕТЫ**

- 1) Если вы посмотрите на фигуру 3d с правой стороны, то что вы увидите?



A.



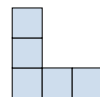
B.



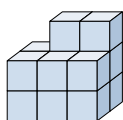
C.



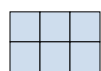
D.

1. **C**

- 2) Если вы посмотрите на фигуру 3d сзади, то что вы увидите?



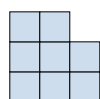
A.



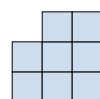
B.



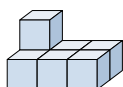
C.



D.

2. **C**3. **A**4. **B**5. **B**

- 3) Если вы посмотрите на фигуру 3d с правой стороны, то что вы увидите?




A.



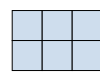
B.



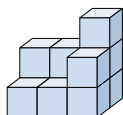
C.



D.



- 4) Если вы посмотрите на фигуру 3d сверху, то что вы увидите?



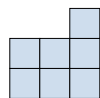
A.



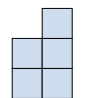
B.



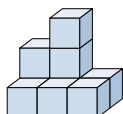
C.



D.



- 5) Если вы посмотрите на фигуру 3d сзади, то что вы увидите?



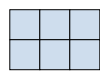
A.



B.



C.



D.

