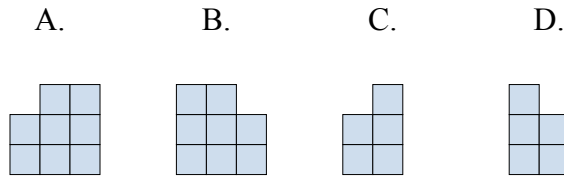
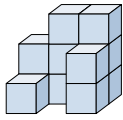




Решите каждую задачу.

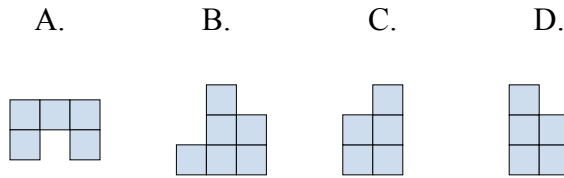
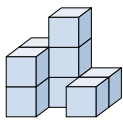
ОТВЕТЫ

1) Если вы посмотрите на фигуру 3d сзади, то что вы увидите?



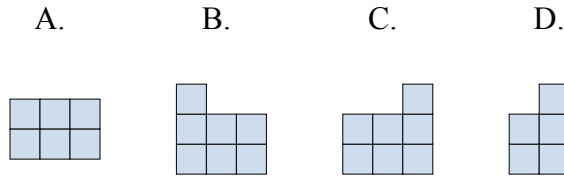
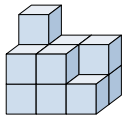
1. _____

2) Если вы посмотрите на фигуру 3d сзади, то что вы увидите?



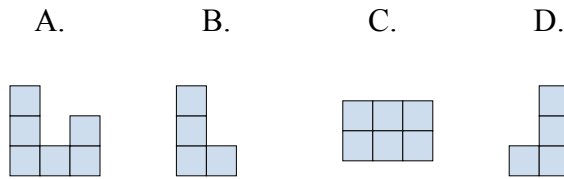
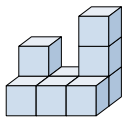
2. _____

3) Если вы посмотрите на фигуру 3d сзади, то что вы увидите?



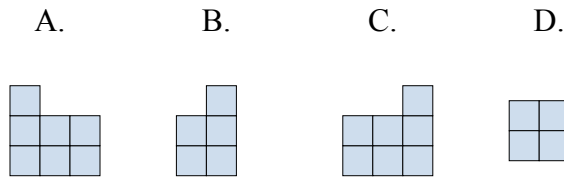
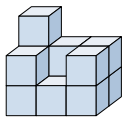
3. _____

4) Если вы посмотрите на фигуру 3d с левой стороны, то что вы увидите?



4. _____

5) Если вы посмотрите на фигуру 3d сзади, то что вы увидите?



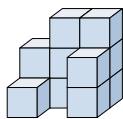
5. _____



Решите каждую задачу.

ОТВЕТЫ

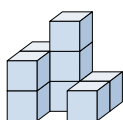
- 1) Если вы посмотрите на фигуру 3d сзади, то что вы увидите?



A. B. C. D.

1. **B**

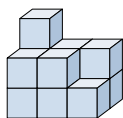
- 2) Если вы посмотрите на фигуру 3d сзади, то что вы увидите?



A. B. C. D.

2. **B**3. **C**4. **B**5. **C**

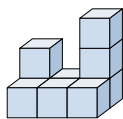
- 3) Если вы посмотрите на фигуру 3d сзади, то что вы увидите?



A. B. C. D.



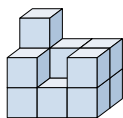
- 4) Если вы посмотрите на фигуру 3d с левой стороны, то что вы увидите?



A. B. C. D.



- 5) Если вы посмотрите на фигуру 3d сзади, то что вы увидите?



A. B. C. D.

