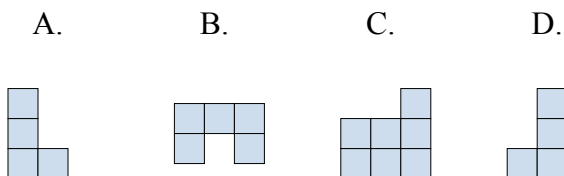
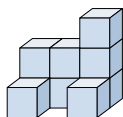




Решите каждую задачу.

ОТВЕТЫ

- 1) Если вы посмотрите на фигуру 3d сверху, то что вы увидите?



1. _____

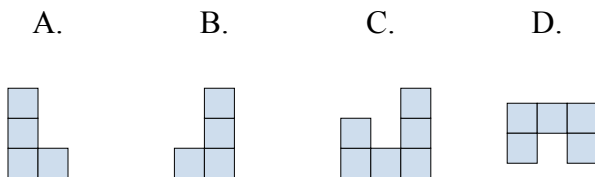
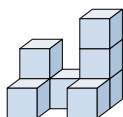
2. _____

3. _____

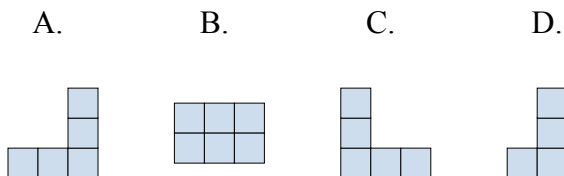
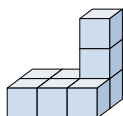
4. _____

5. _____

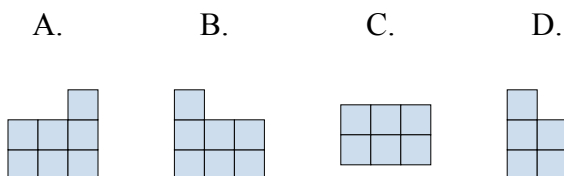
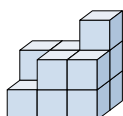
- 2) Если вы посмотрите на фигуру 3d с левой стороны, то что вы увидите?



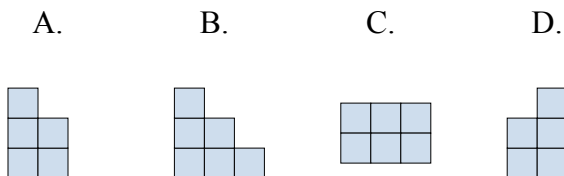
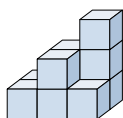
- 3) Если вы посмотрите на фигуру 3d сверху, то что вы увидите?



- 4) Если вы посмотрите на фигуру 3d с левой стороны, то что вы увидите?



- 5) Если вы посмотрите на фигуру 3d с правой стороны, то что вы увидите?

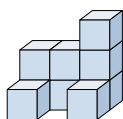




Решите каждую задачу.

ОТВЕТЫ

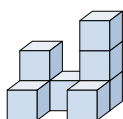
- 1) Если вы посмотрите на фигуру 3d сверху, то что вы увидите?



A. B. C. D.

1. **B**

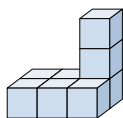
- 2) Если вы посмотрите на фигуру 3d с левой стороны, то что вы увидите?



A. B. C. D.

2. **A**3. **B**4. **D**5. **D**

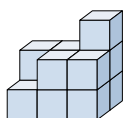
- 3) Если вы посмотрите на фигуру 3d сверху, то что вы увидите?



A. B. C. D.



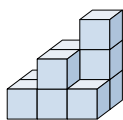
- 4) Если вы посмотрите на фигуру 3d с левой стороны, то что вы увидите?



A. B. C. D.



- 5) Если вы посмотрите на фигуру 3d с правой стороны, то что вы увидите?



A. B. C. D.

