



Выразите каждое число с помощью меток.

1) 56

---

2) 62

---

3) 23

---

4) 69

---

5) 49

---

6) 60

---

7) 28

---

8) 25

---

9) 16

---

10) 93

---

11) 61

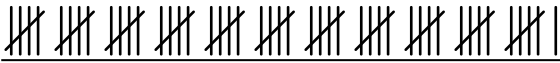



---

12) 27

---



Выразите каждое число с помощью меток.

1) 56 2) 62 3) 23 4) 69 5) 49 6) 60 7) 28 8) 25 9) 16 10) 93 11) 61 12) 27 