



Выразите каждое число с помощью меток.

1) 22

2) 51

3) 71

4) 54

5) 16

6) 7

7) 13

8) 61

9) 19

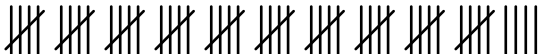



10) 6

11) 37

12) 34



Выразите каждое число с помощью меток.

1) 22 2) 51 3) 71 4) 54 5) 16 6) 7 7) 13 8) 61 9) 19 10) 6 11) 37 12) 34 