



Выразите каждое число с помощью меток.

1) 16

2) 21

3) 89

4) 70

5) 61

6) 72

7) 58

8) 44

9) 55

10) 94


11) 62

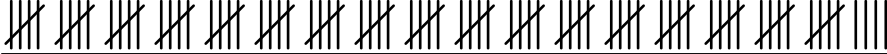
12) 95



Выразите каждое число с помощью меток.

1) 16 

2) 21 

3) 89 

4) 70 

5) 61 


6) 72 

7) 58 

8) 44 

9) 55 

10) 94 

11) 62 

12) 95 