



Выразите каждое число с помощью меток.

1) 54

---

2) 10

---

3) 85

---

4) 77

---

5) 83

---

6) 84

---

7) 86

---

8) 28

---

9) 19

---

10) 72

---

11) 44


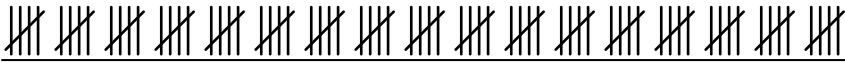

---

12) 52

---



Выразите каждое число с помощью меток.

1) 54 2) 10 3) 85 4) 77 5) 83 6) 84 7) 86 8) 28 9) 19 10) 72 11) 44 12) 52 