



Выразите каждое число с помощью меток.

1) 81

2) 91

3) 45

4) 63

5) 64

6) 18

7) 59

8) 71

9) 37


10) 79

11) 31

12) 80



Выразите каждое число с помощью меток.

1) 81  _____2) 91  _____3) 45  _____4) 63  _____5) 64  _____6) 18  _____7) 59  _____8) 71  _____9) 37  _____10) 79  _____11) 31  _____12) 80  _____



Выразите каждое число с помощью меток.

1) 79

2) 25

3) 80

4) 73

5) 72

6) 64

7) 90

8) 63

9) 52

10) 84

11) 92

12) 56



Выразите каждое число с помощью меток.

1) 79  _____2) 25  _____3) 80  _____4) 73  _____5) 72  _____6) 64  _____7) 90  _____8) 63  _____9) 52  _____10) 84  _____11) 92  _____12) 56  _____



Выразите каждое число с помощью меток.

1) 56

2) 62

3) 23

4) 69

5) 49

6) 60

7) 28

8) 25

9) 16

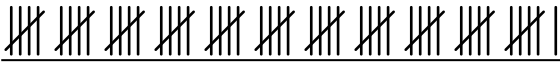





10) 93

11) 61

12) 27



Выразите каждое число с помощью меток.

1) 56 2) 62 3) 23 4) 69 5) 49 6) 60 7) 28 8) 25 9) 16 10) 93 11) 61 12) 27 



Выразите каждое число с помощью меток.

1) 26

2) 36

3) 47

4) 21

5) 19

6) 30

7) 91

8) 98

9) 70


10) 97

11) 22

12) 35



Выразите каждое число с помощью меток.

1) 26 

2) 36 

3) 47 

4) 21 


5) 19 

6) 30 

7) 91 

8) 98 

9) 70 

10) 97 

11) 22 

12) 35 



Выразите каждое число с помощью меток.

1) 22

2) 51

3) 71

4) 54

5) 16

6) 7

7) 13

8) 61

9) 19

10) 6

11) 37

12) 34



Выразите каждое число с помощью меток.

1) 22 

2) 51 

3) 71 


4) 54 

5) 16 

6) 7 

7) 13 

8) 61 

9) 19 

10) 6 

11) 37 

12) 34 



Выразите каждое число с помощью меток.

1) 88

2) 95

3) 21

4) 22

5) 44

6) 73

7) 15

8) 34

9) 96



10) 6

11) 23

12) 100



Выразите каждое число с помощью меток.

1) 88  _____2) 95  _____3) 21  _____4) 22  _____5) 44  _____6) 73  _____7) 15  _____8) 34  _____9) 96  _____10) 6  _____11) 23  _____12) 100  _____



Выразите каждое число с помощью меток.

1) 16

2) 21

3) 89

4) 70

5) 61

6) 72

7) 58

8) 44

9) 55


10) 94

11) 62


12) 95



Выразите каждое число с помощью меток.

1) 16 

2) 21 

3) 89 

4) 70 


5) 61 

6) 72 

7) 58 

8) 44 

9) 55 

10) 94 

11) 62 

12) 95 



Выразите каждое число с помощью меток.

1) 43

2) 23

3) 71

4) 19

5) 47

6) 7

7) 69

8) 74

9) 64

10) 78

11) 32

12) 65



Выразите каждое число с помощью меток.

1) 43 

2) 23 

3) 71 

4) 19 

5) 47 

6) 7 

7) 69 

8) 74 

9) 64 

10) 78 

11) 32 

12) 65 



Выразите каждое число с помощью меток.

1) 54

2) 10

3) 85

4) 77

5) 83

6) 84

7) 86

8) 28

9) 19



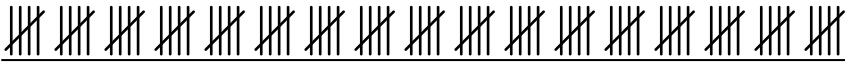

10) 72

11) 44

12) 52



Выразите каждое число с помощью меток.

1) 54 2) 10 3) 85 4) 77 5) 83 6) 84 7) 86 8) 28 9) 19 10) 72 11) 44 12) 52 



Выразите каждое число с помощью меток.

1) 61

2) 35

3) 49

4) 15

5) 52

6) 16

7) 75

8) 12

9) 11


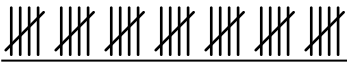
10) 31

11) 37

12) 87



Выразите каждое число с помощью меток.

1) 61 2) 35 3) 49 4) 15 5) 52 6) 16 7) 75 8) 12 9) 11 10) 31 11) 37 12) 87 