



Сопоставьте каждую таблицу с соответствующим графиком.

**ОТВЕТЫ**

1)

Имя	Банки из вторсырья
Аллен	
Бет	
Рик	
Андреа	
Дол	

2)

Имя	Банки из вторсырья
Аллен	
Бет	
Рик	
Андреа	
Дол	

3)

Имя	Банки из вторсырья
Аллен	
Бет	
Рик	
Андреа	
Дол	

4)

Имя	Банки из вторсырья
Аллен	
Бет	
Рик	
Андреа	
Дол	

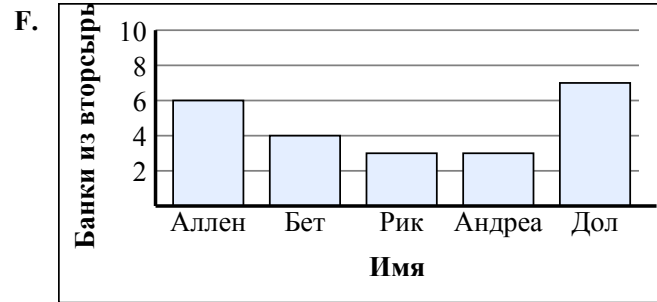
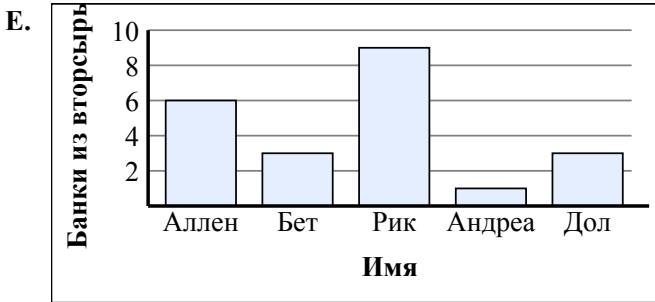
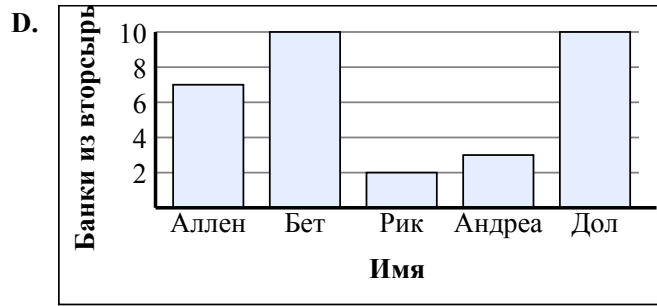
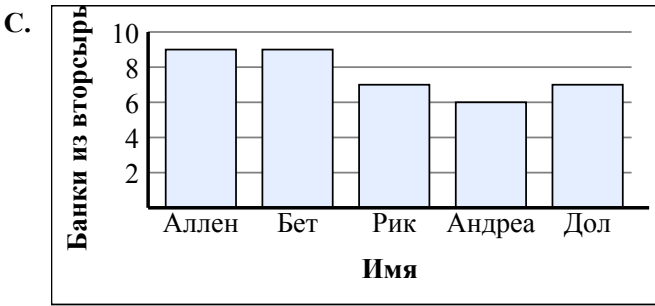
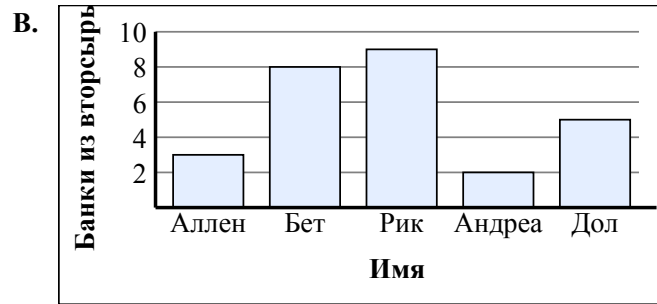
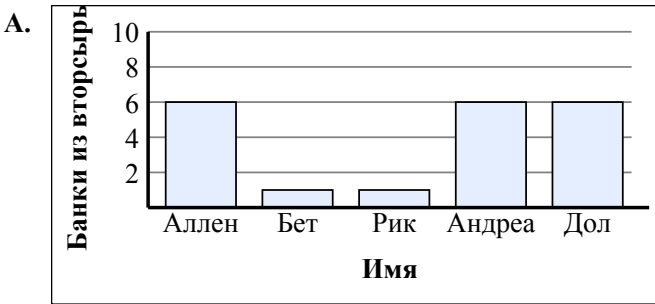
5)

Имя	Банки из вторсырья
Аллен	
Бет	
Рик	
Андреа	
Дол	

6)

Имя	Банки из вторсырья
Аллен	
Бет	
Рик	
Андреа	
Дол	

1. \_\_\_\_\_
2. \_\_\_\_\_
3. \_\_\_\_\_
4. \_\_\_\_\_
5. \_\_\_\_\_
6. \_\_\_\_\_





Сопоставьте каждую таблицу с соответствующим графиком.

**ОТВЕТЫ**

1)

Имя	Банки из вторсырья
Аллен	
Бет	
Рик	
Андреа	
Дол	

2)

Имя	Банки из вторсырья
Аллен	
Бет	
Рик	
Андреа	
Дол	

3)

Имя	Банки из вторсырья
Аллен	
Бет	
Рик	
Андреа	
Дол	

4)

Имя	Банки из вторсырья
Аллен	
Бет	
Рик	
Андреа	
Дол	

5)

Имя	Банки из вторсырья
Аллен	
Бет	
Рик	
Андреа	
Дол	

6)

Имя	Банки из вторсырья
Аллен	
Бет	
Рик	
Андреа	
Дол	

1. E
2. F
3. B
4. A
5. C
6. D

