

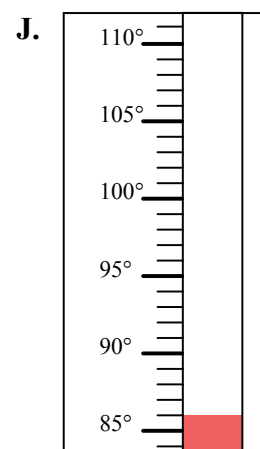
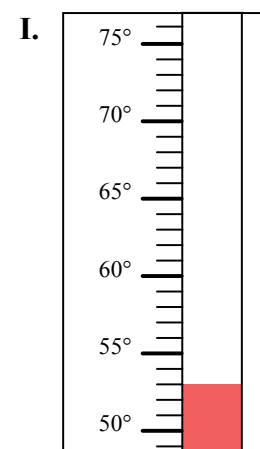
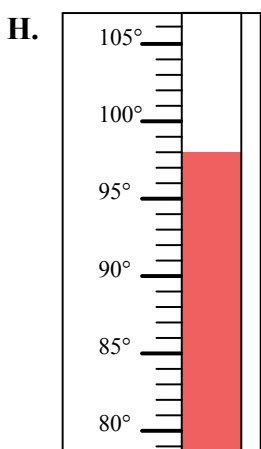
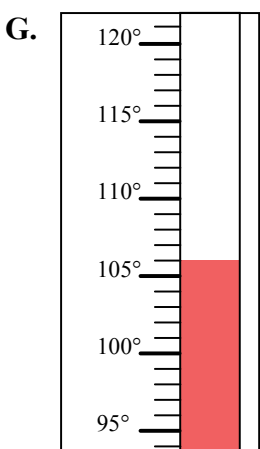
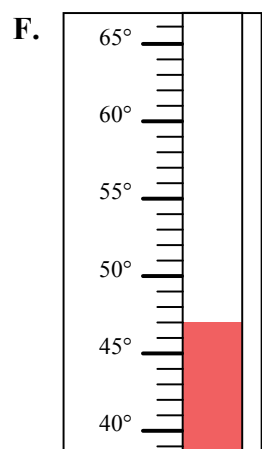
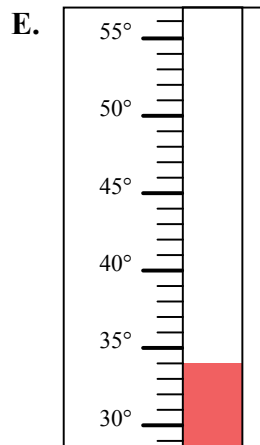
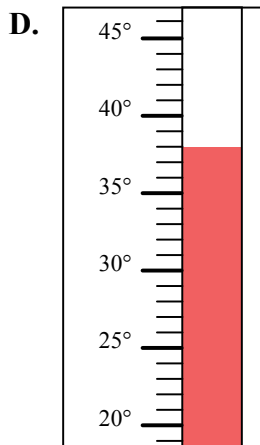
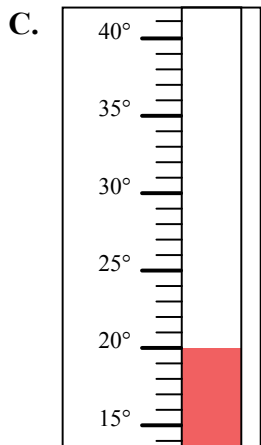
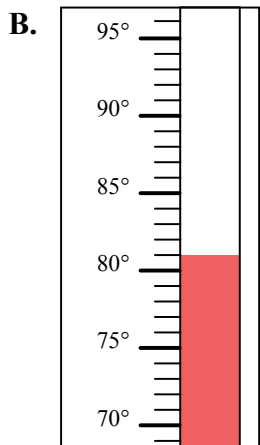
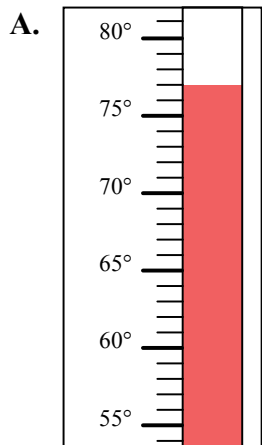


Определите под какой буквой находится правильный ответ.

**ОТВЕТЫ**

- 1) Какой термометр наилучшим образом показывает температуру 53°?
- 2) Какой термометр наилучшим образом показывает температуру 98°?
- 3) Какой термометр наилучшим образом показывает температуру 77°?
- 4) Какой термометр наилучшим образом показывает температуру 106°?
- 5) Какой термометр наилучшим образом показывает температуру 47°?
- 6) Какой термометр наилучшим образом показывает температуру 86°?
- 7) Какой термометр наилучшим образом показывает температуру 34°?
- 8) Какой термометр наилучшим образом показывает температуру 81°?
- 9) Какой термометр наилучшим образом показывает температуру 20°?
- 10) Какой термометр наилучшим образом показывает температуру 38°?

1. \_\_\_\_\_
2. \_\_\_\_\_
3. \_\_\_\_\_
4. \_\_\_\_\_
5. \_\_\_\_\_
6. \_\_\_\_\_
7. \_\_\_\_\_
8. \_\_\_\_\_
9. \_\_\_\_\_
10. \_\_\_\_\_

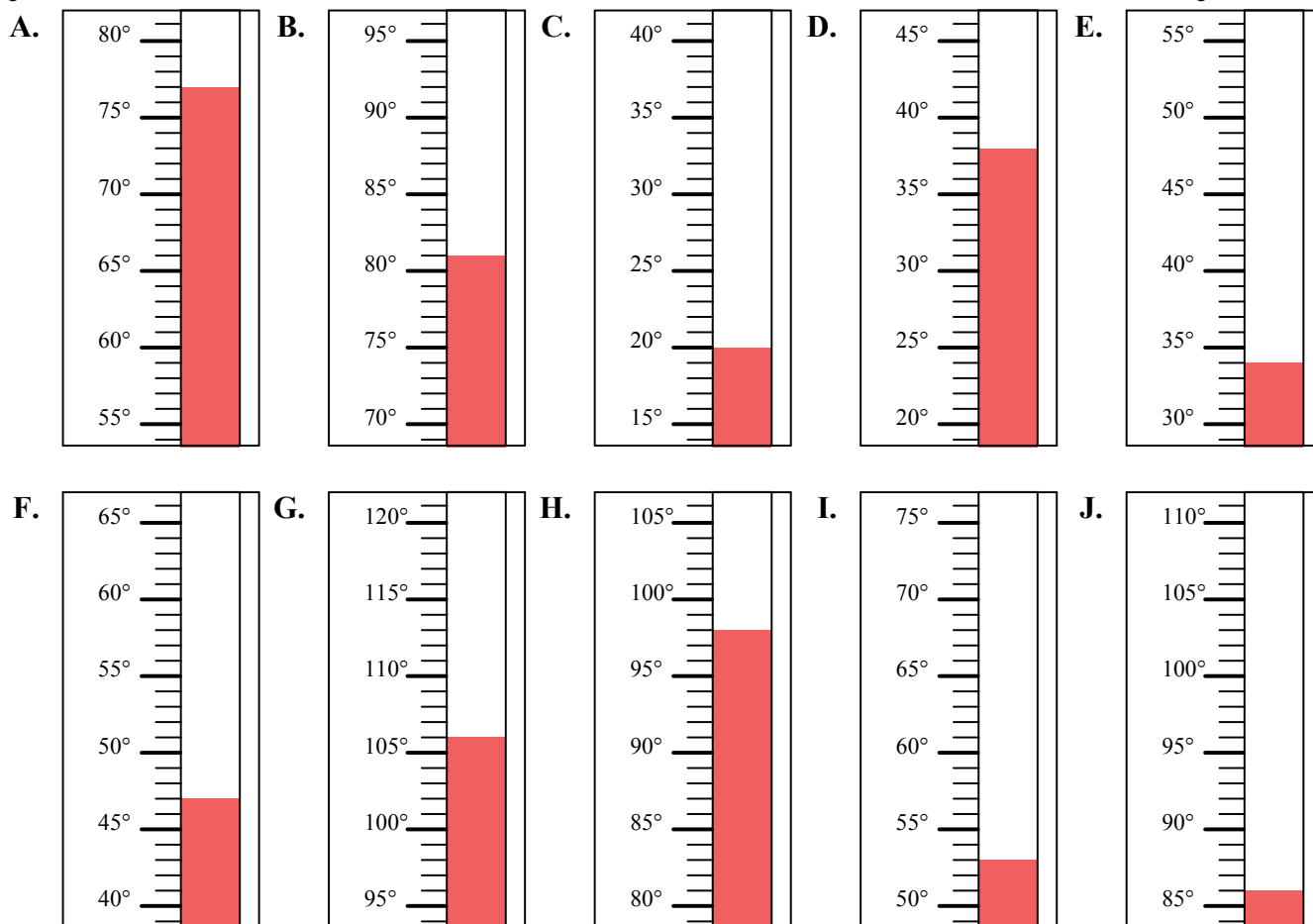




Определите под какой буквой находится правильный ответ.

**ОТВЕТЫ**

- 1) Какой термометр наилучшим образом показывает температуру  $53^{\circ}$ ?
- 2) Какой термометр наилучшим образом показывает температуру  $98^{\circ}$ ?
- 3) Какой термометр наилучшим образом показывает температуру  $77^{\circ}$ ?
- 4) Какой термометр наилучшим образом показывает температуру  $106^{\circ}$ ?
- 5) Какой термометр наилучшим образом показывает температуру  $47^{\circ}$ ?
- 6) Какой термометр наилучшим образом показывает температуру  $86^{\circ}$ ?
- 7) Какой термометр наилучшим образом показывает температуру  $34^{\circ}$ ?
- 8) Какой термометр наилучшим образом показывает температуру  $81^{\circ}$ ?
- 9) Какой термометр наилучшим образом показывает температуру  $20^{\circ}$ ?
- 10) Какой термометр наилучшим образом показывает температуру  $38^{\circ}$ ?



1. I
2. H
3. A
4. G
5. F
6. J
7. E
8. B
9. C
10. D