

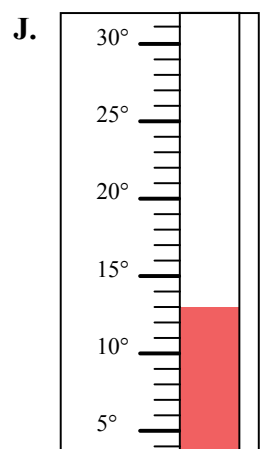
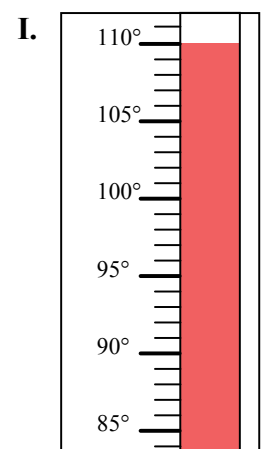
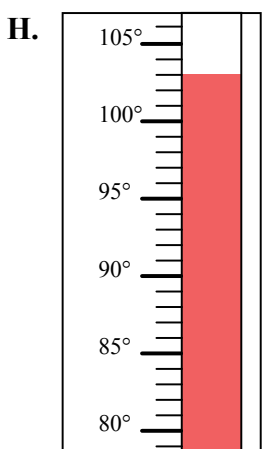
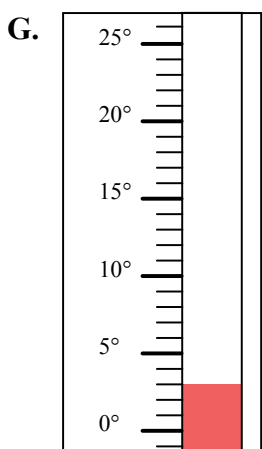
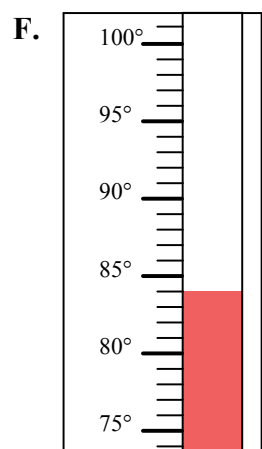
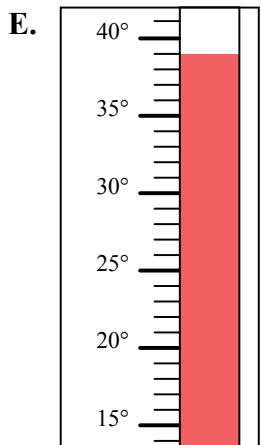
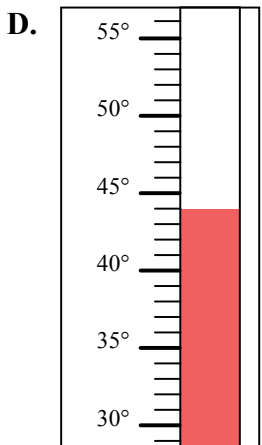
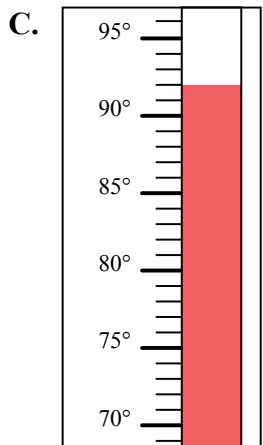
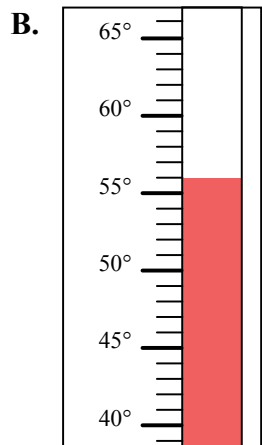
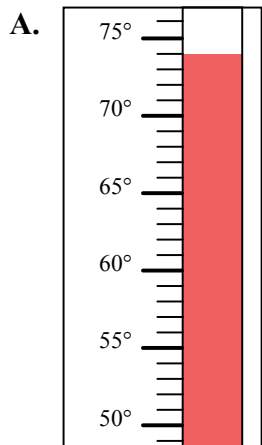


Определите под какой буквой находится правильный ответ.

ОТВЕТЫ

- 1) Какой термометр наилучшим образом показывает температуру 92° ?
- 2) Какой термометр наилучшим образом показывает температуру 84° ?
- 3) Какой термометр наилучшим образом показывает температуру 56° ?
- 4) Какой термометр наилучшим образом показывает температуру 110° ?
- 5) Какой термометр наилучшим образом показывает температуру 13° ?
- 6) Какой термометр наилучшим образом показывает температуру 39° ?
- 7) Какой термометр наилучшим образом показывает температуру 3° ?
- 8) Какой термометр наилучшим образом показывает температуру 44° ?
- 9) Какой термометр наилучшим образом показывает температуру 74° ?
- 10) Какой термометр наилучшим образом показывает температуру 103° ?

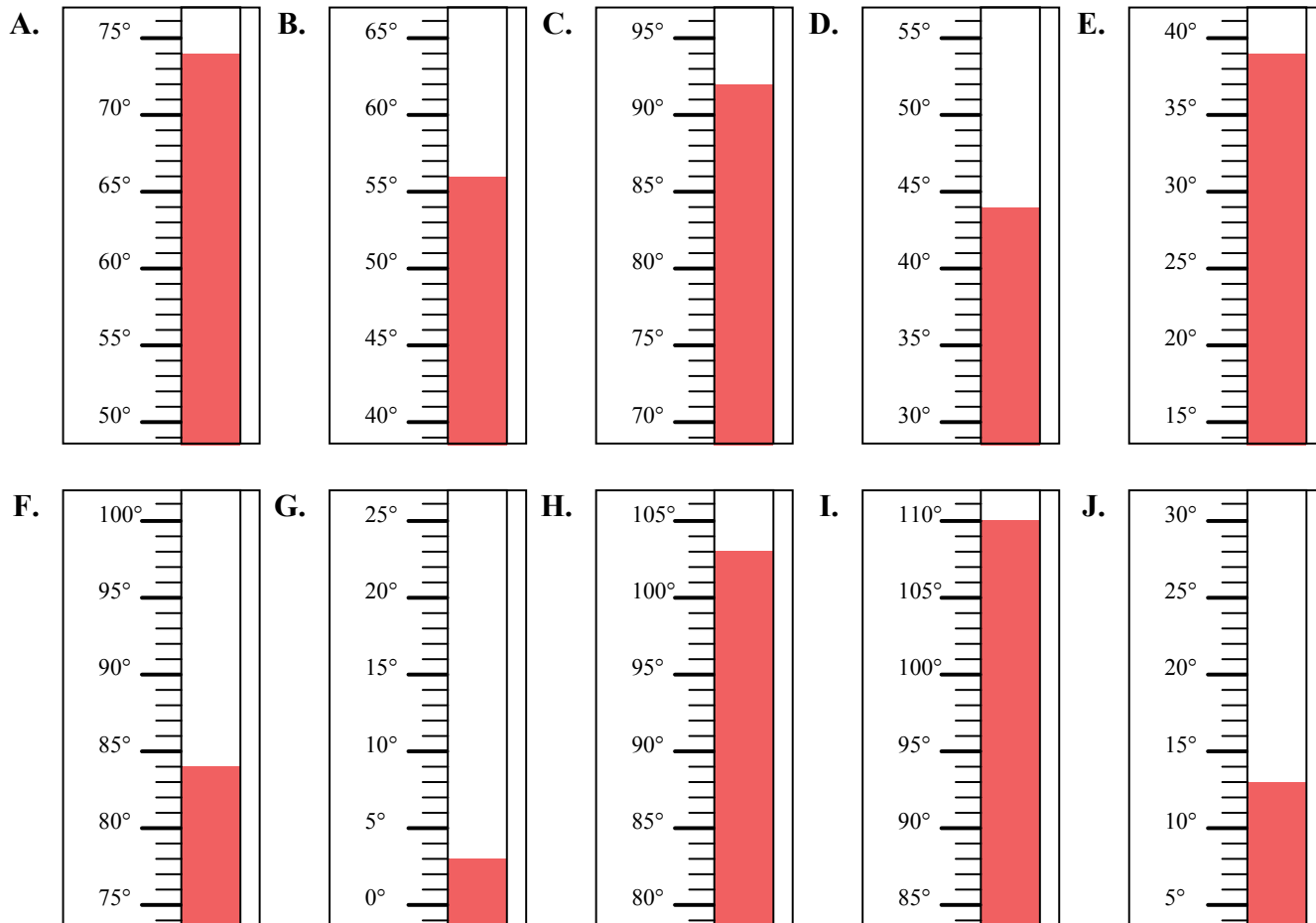
1. _____
2. _____
3. _____
4. _____
5. _____
6. _____
7. _____
8. _____
9. _____
10. _____





Определите под какой буквой находится правильный ответ.

- 1) Какой термометр наилучшим образом показывает температуру 92°?
- 2) Какой термометр наилучшим образом показывает температуру 84°?
- 3) Какой термометр наилучшим образом показывает температуру 56°?
- 4) Какой термометр наилучшим образом показывает температуру 110°?
- 5) Какой термометр наилучшим образом показывает температуру 13°?
- 6) Какой термометр наилучшим образом показывает температуру 39°?
- 7) Какой термометр наилучшим образом показывает температуру 3°?
- 8) Какой термометр наилучшим образом показывает температуру 44°?
- 9) Какой термометр наилучшим образом показывает температуру 74°?
- 10) Какой термометр наилучшим образом показывает температуру 103°?



ОТВЕТЫ

1. C
2. F
3. B
4. I
5. J
6. E
7. G
8. D
9. A
10. H