

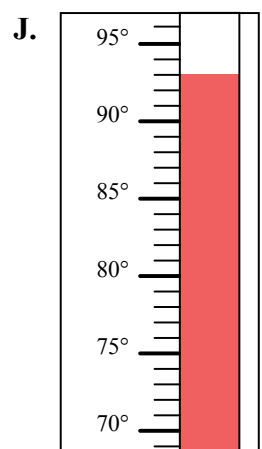
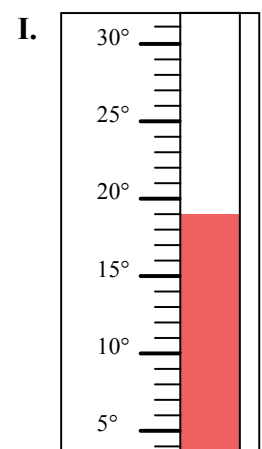
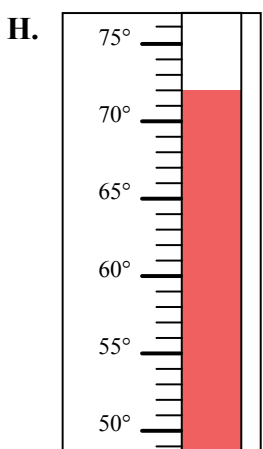
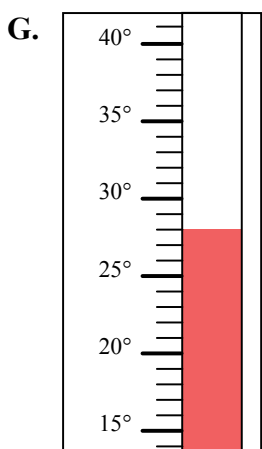
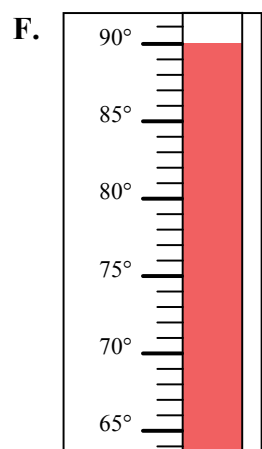
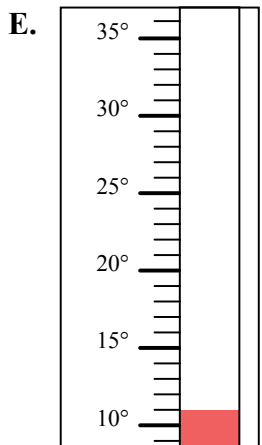
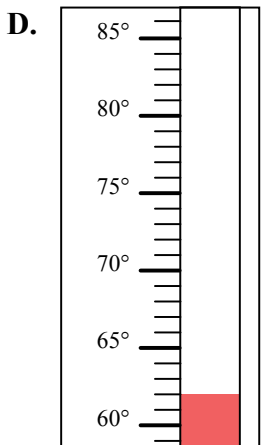
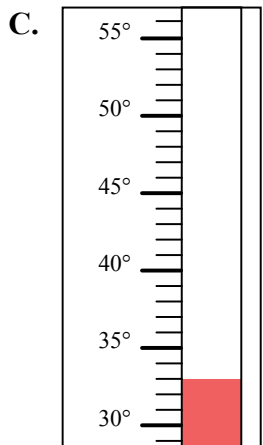
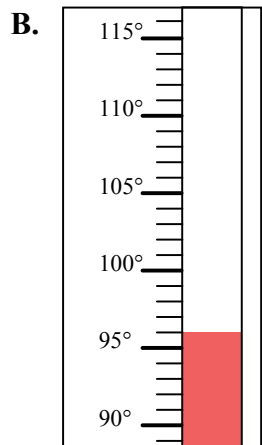
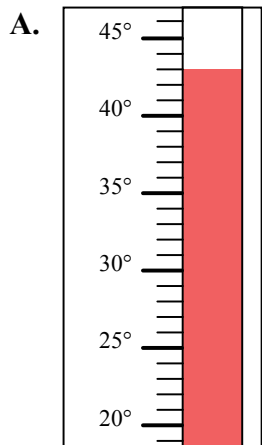


Определите под какой буквой находится правильный ответ.

ОТВЕТЫ

- 1) Какой термометр наилучшим образом показывает температуру 62° ?
- 2) Какой термометр наилучшим образом показывает температуру 43° ?
- 3) Какой термометр наилучшим образом показывает температуру 72° ?
- 4) Какой термометр наилучшим образом показывает температуру 33° ?
- 5) Какой термометр наилучшим образом показывает температуру 11° ?
- 6) Какой термометр наилучшим образом показывает температуру 93° ?
- 7) Какой термометр наилучшим образом показывает температуру 96° ?
- 8) Какой термометр наилучшим образом показывает температуру 19° ?
- 9) Какой термометр наилучшим образом показывает температуру 28° ?
- 10) Какой термометр наилучшим образом показывает температуру 90° ?

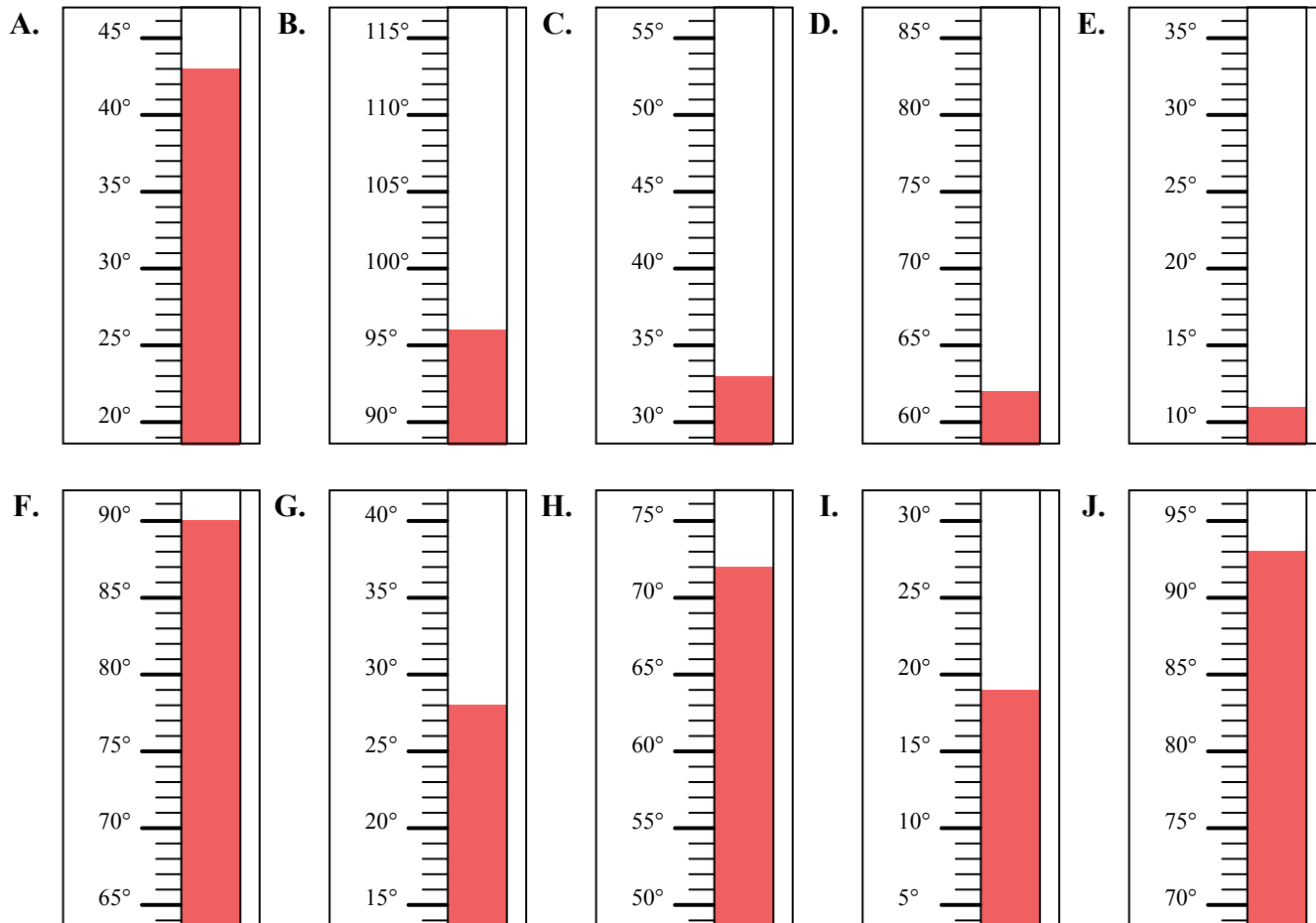
1. _____
2. _____
3. _____
4. _____
5. _____
6. _____
7. _____
8. _____
9. _____
10. _____





Определите под какой буквой находится правильный ответ.

- 1) Какой термометр наилучшим образом показывает температуру 62°?
- 2) Какой термометр наилучшим образом показывает температуру 43°?
- 3) Какой термометр наилучшим образом показывает температуру 72°?
- 4) Какой термометр наилучшим образом показывает температуру 33°?
- 5) Какой термометр наилучшим образом показывает температуру 11°?
- 6) Какой термометр наилучшим образом показывает температуру 93°?
- 7) Какой термометр наилучшим образом показывает температуру 96°?
- 8) Какой термометр наилучшим образом показывает температуру 19°?
- 9) Какой термометр наилучшим образом показывает температуру 28°?
- 10) Какой термометр наилучшим образом показывает температуру 90°?



ОТВЕТЫ

1. D
2. A
3. H
4. C
5. E
6. J
7. B
8. I
9. G
10. F