

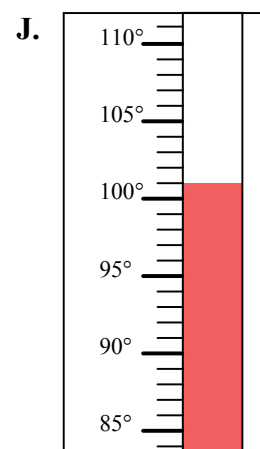
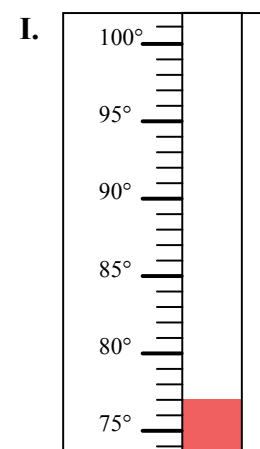

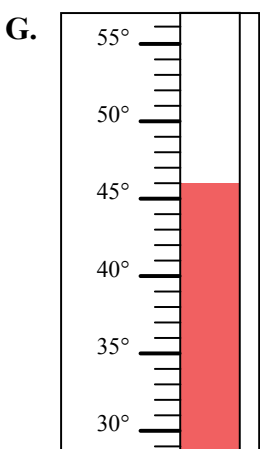
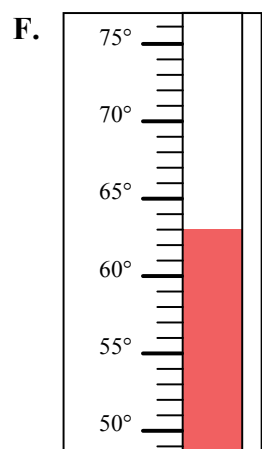
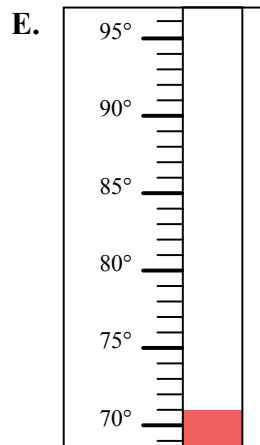
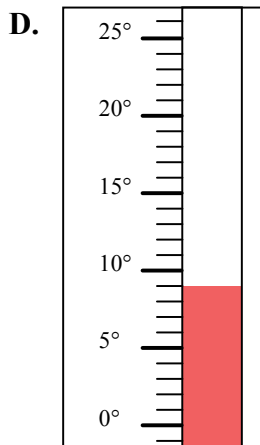
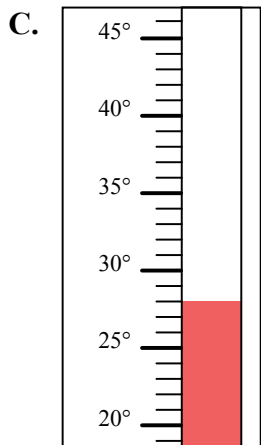
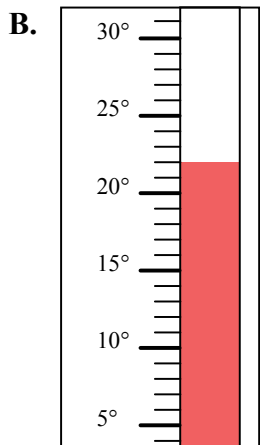
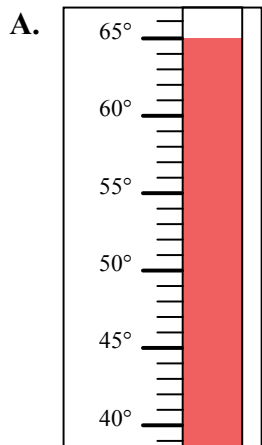


Определите под какой буквой находится правильный ответ.

ОТВЕТЫ

- 1) Какой термометр наилучшим образом показывает температуру 63° ?
- 2) Какой термометр наилучшим образом показывает температуру 46° ?
- 3) Какой термометр наилучшим образом показывает температуру 65° ?
- 4) Какой термометр наилучшим образом показывает температуру 110° ?
- 5) Какой термометр наилучшим образом показывает температуру 77° ?
- 6) Какой термометр наилучшим образом показывает температуру 22° ?
- 7) Какой термометр наилучшим образом показывает температуру 71° ?
- 8) Какой термометр наилучшим образом показывает температуру 28° ?
- 9) Какой термометр наилучшим образом показывает температуру 9° ?
- 10) Какой термометр наилучшим образом показывает температуру 101° ?

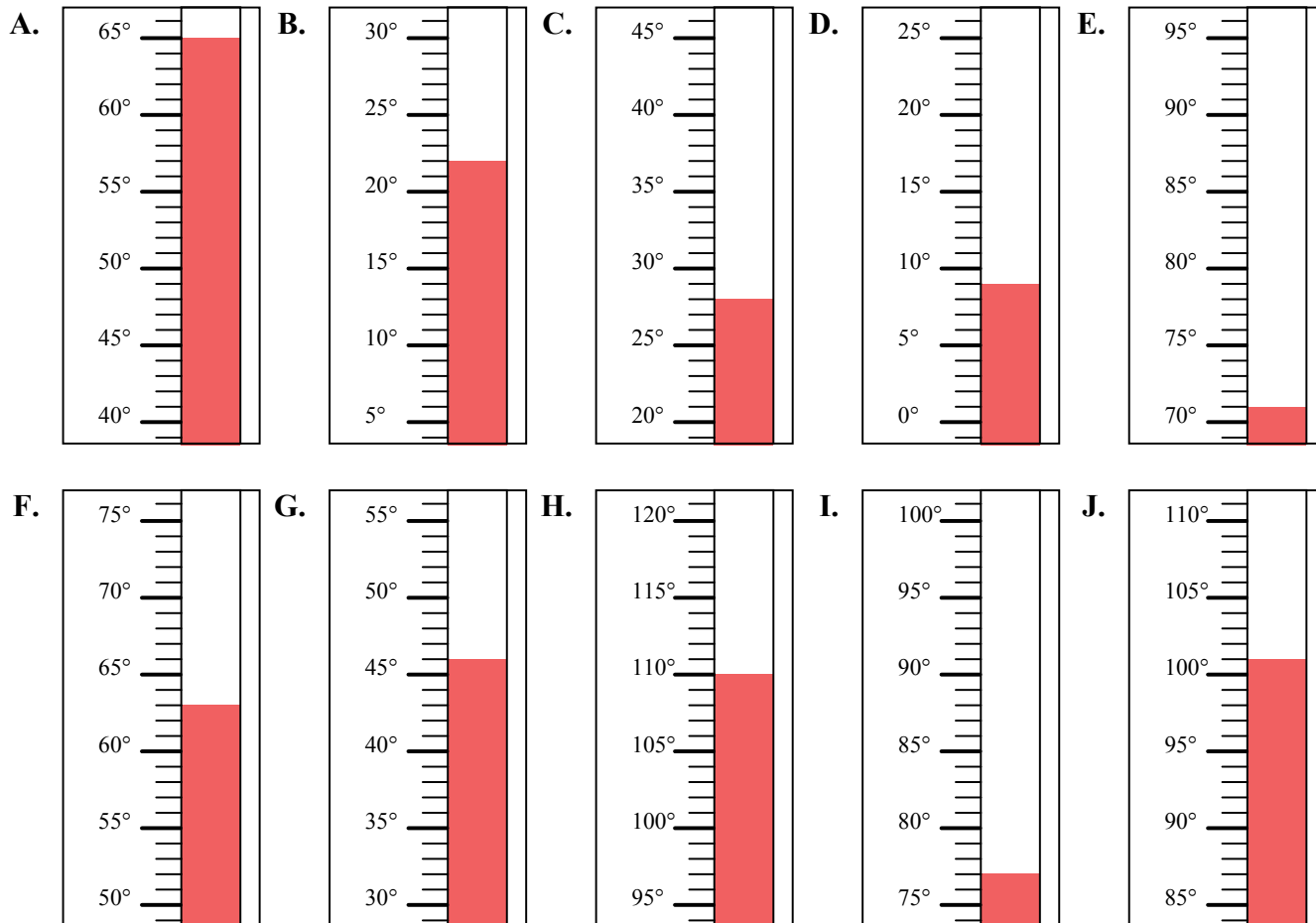
1. _____
2. _____
3. _____
4. _____
5. _____
6. _____
7. _____
8. _____
9. _____
10. _____





Определите под какой буквой находится правильный ответ.

- 1) Какой термометр наилучшим образом показывает температуру 63°?
- 2) Какой термометр наилучшим образом показывает температуру 46°?
- 3) Какой термометр наилучшим образом показывает температуру 65°?
- 4) Какой термометр наилучшим образом показывает температуру 110°?
- 5) Какой термометр наилучшим образом показывает температуру 77°?
- 6) Какой термометр наилучшим образом показывает температуру 22°?
- 7) Какой термометр наилучшим образом показывает температуру 71°?
- 8) Какой термометр наилучшим образом показывает температуру 28°?
- 9) Какой термометр наилучшим образом показывает температуру 9°?
- 10) Какой термометр наилучшим образом показывает температуру 101°?



ОТВЕТЫ

1. **F**
2. **G**
3. **A**
4. **H**
5. **I**
6. **B**
7. **E**
8. **C**
9. **D**
10. **J**