

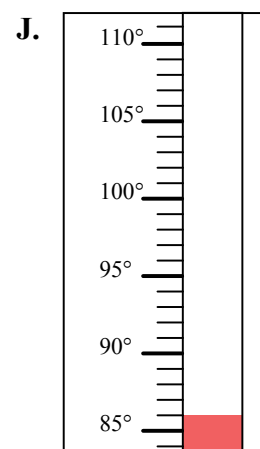
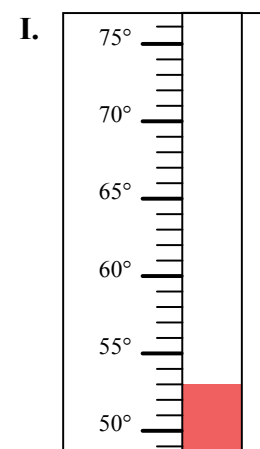
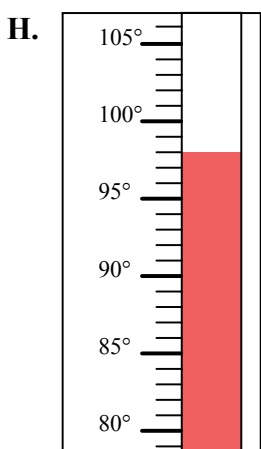
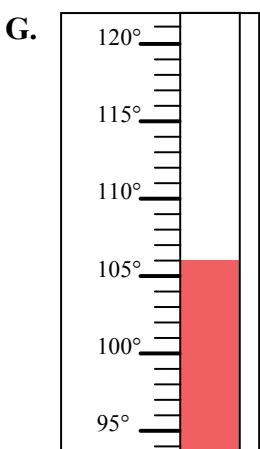
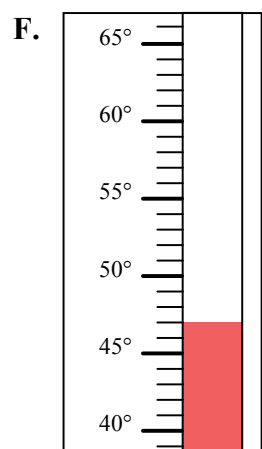
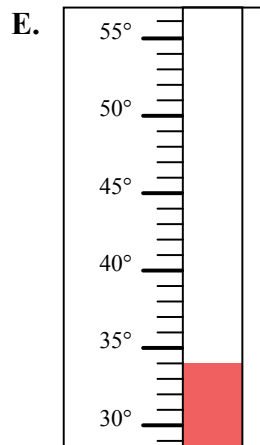
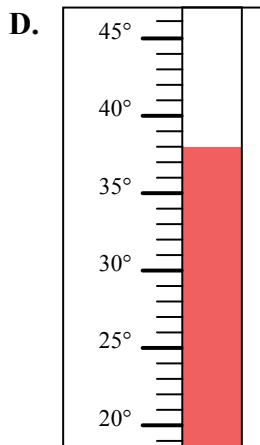
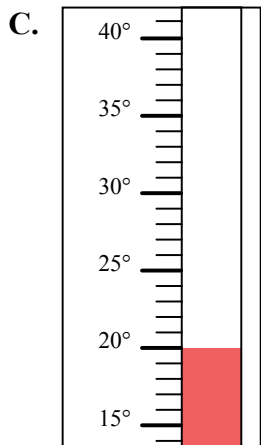
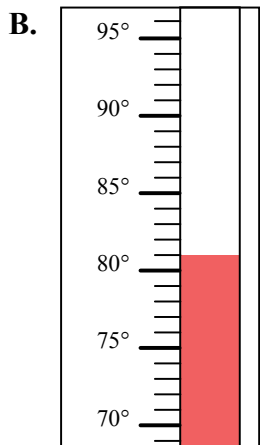
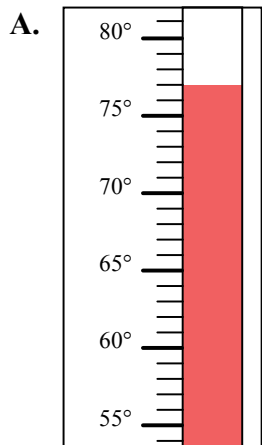


Определите под какой буквой находится правильный ответ.

ОТВЕТЫ

- 1) Какой термометр наилучшим образом показывает температуру 53° ?
- 2) Какой термометр наилучшим образом показывает температуру 98° ?
- 3) Какой термометр наилучшим образом показывает температуру 77° ?
- 4) Какой термометр наилучшим образом показывает температуру 106° ?
- 5) Какой термометр наилучшим образом показывает температуру 47° ?
- 6) Какой термометр наилучшим образом показывает температуру 86° ?
- 7) Какой термометр наилучшим образом показывает температуру 34° ?
- 8) Какой термометр наилучшим образом показывает температуру 81° ?
- 9) Какой термометр наилучшим образом показывает температуру 20° ?
- 10) Какой термометр наилучшим образом показывает температуру 38° ?

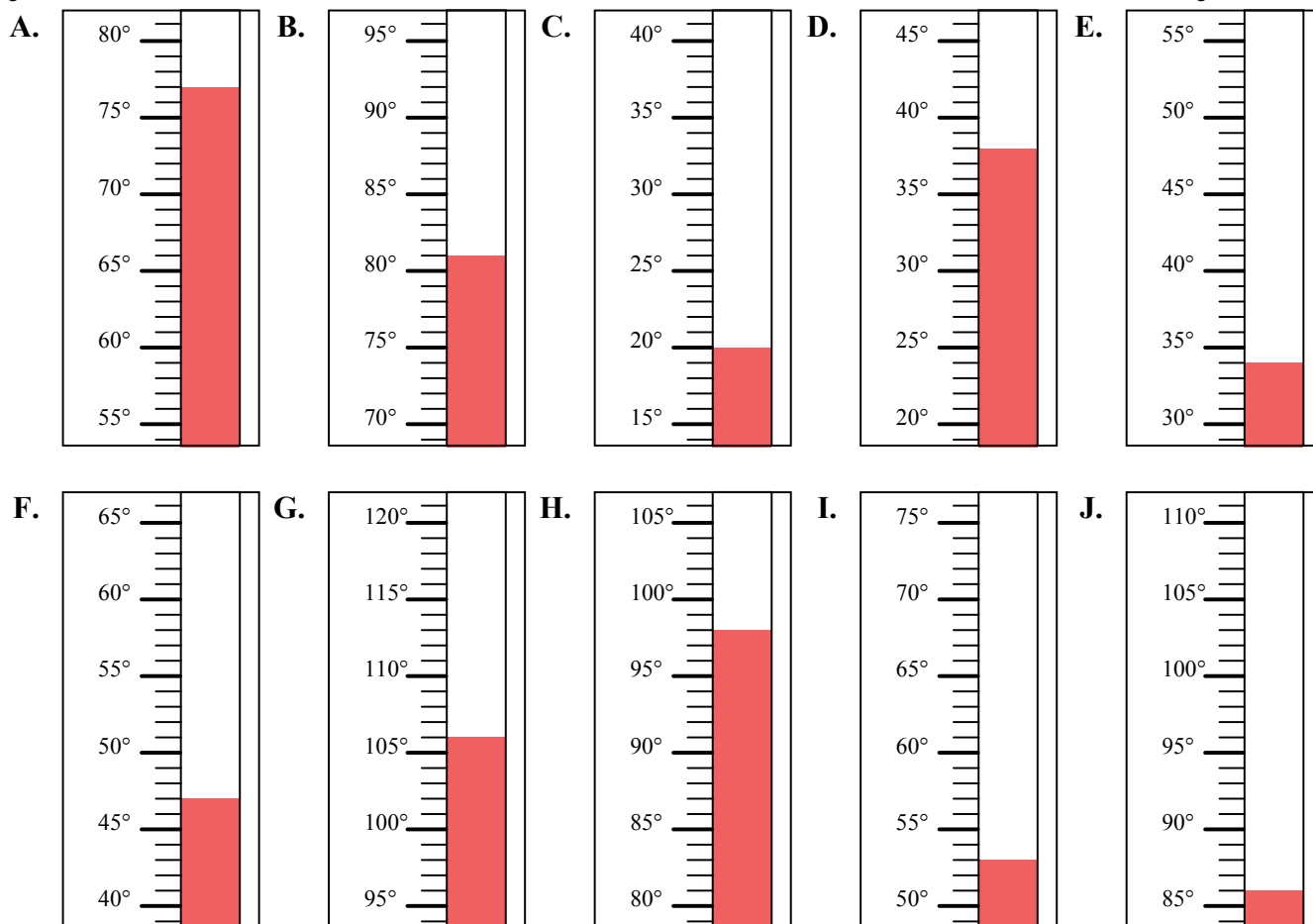
1. _____
2. _____
3. _____
4. _____
5. _____
6. _____
7. _____
8. _____
9. _____
10. _____





Определите под какой буквой находится правильный ответ.

- 1) Какой термометр наилучшим образом показывает температуру 53° ?
- 2) Какой термометр наилучшим образом показывает температуру 98° ?
- 3) Какой термометр наилучшим образом показывает температуру 77° ?
- 4) Какой термометр наилучшим образом показывает температуру 106° ?
- 5) Какой термометр наилучшим образом показывает температуру 47° ?
- 6) Какой термометр наилучшим образом показывает температуру 86° ?
- 7) Какой термометр наилучшим образом показывает температуру 34° ?
- 8) Какой термометр наилучшим образом показывает температуру 81° ?
- 9) Какой термометр наилучшим образом показывает температуру 20° ?
- 10) Какой термометр наилучшим образом показывает температуру 38° ?



ОТВЕТЫ

1. I
2. H
3. A
4. G
5. F
6. J
7. E
8. B
9. C
10. D

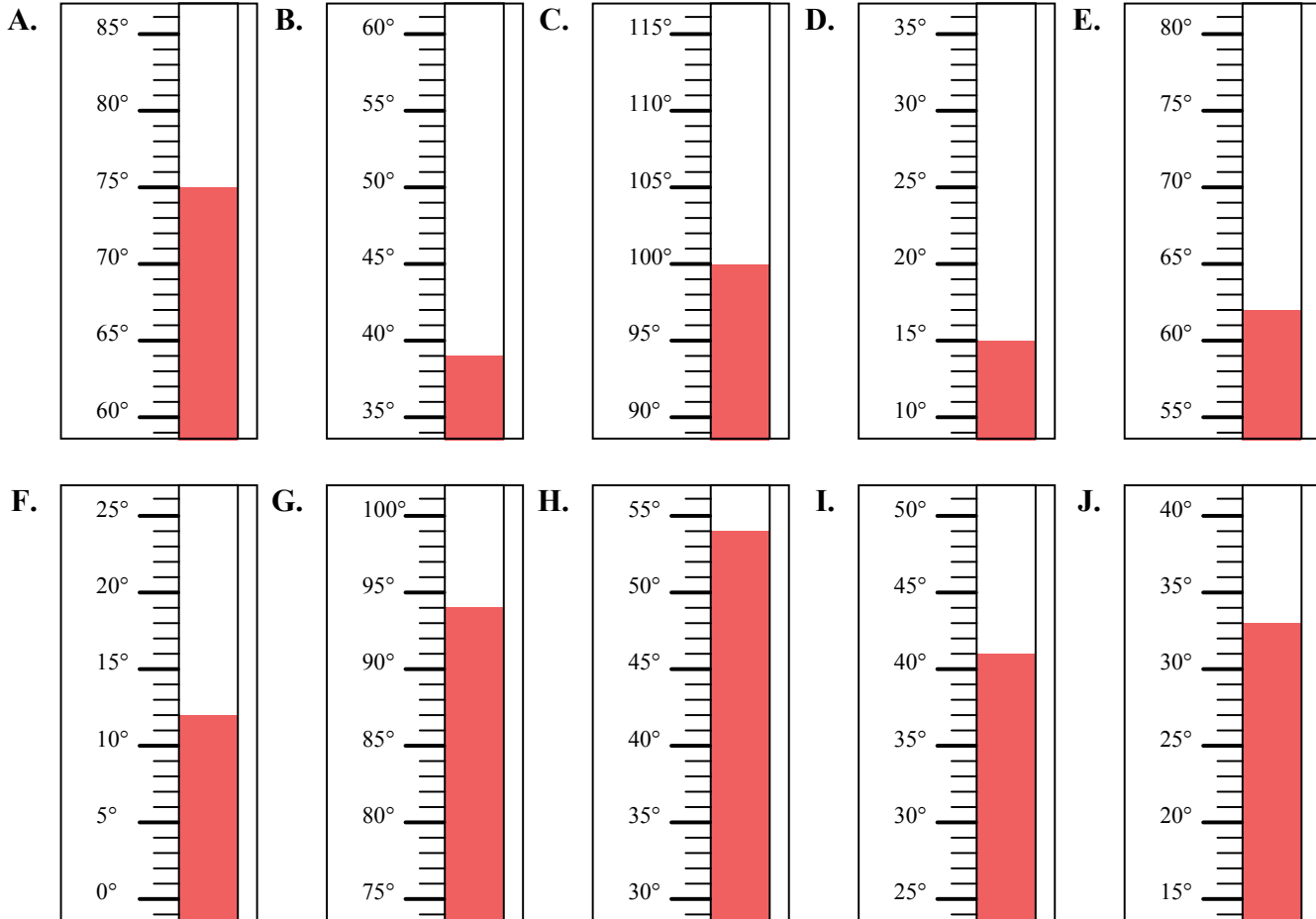


Определите под какой буквой находится правильный ответ.

ОТВЕТЫ

- 1) Какой термометр наилучшим образом показывает температуру 39°?
- 2) Какой термометр наилучшим образом показывает температуру 12°?
- 3) Какой термометр наилучшим образом показывает температуру 75°?
- 4) Какой термометр наилучшим образом показывает температуру 100°?
- 5) Какой термометр наилучшим образом показывает температуру 33°?
- 6) Какой термометр наилучшим образом показывает температуру 15°?
- 7) Какой термометр наилучшим образом показывает температуру 94°?
- 8) Какой термометр наилучшим образом показывает температуру 54°?
- 9) Какой термометр наилучшим образом показывает температуру 62°?
- 10) Какой термометр наилучшим образом показывает температуру 41°?

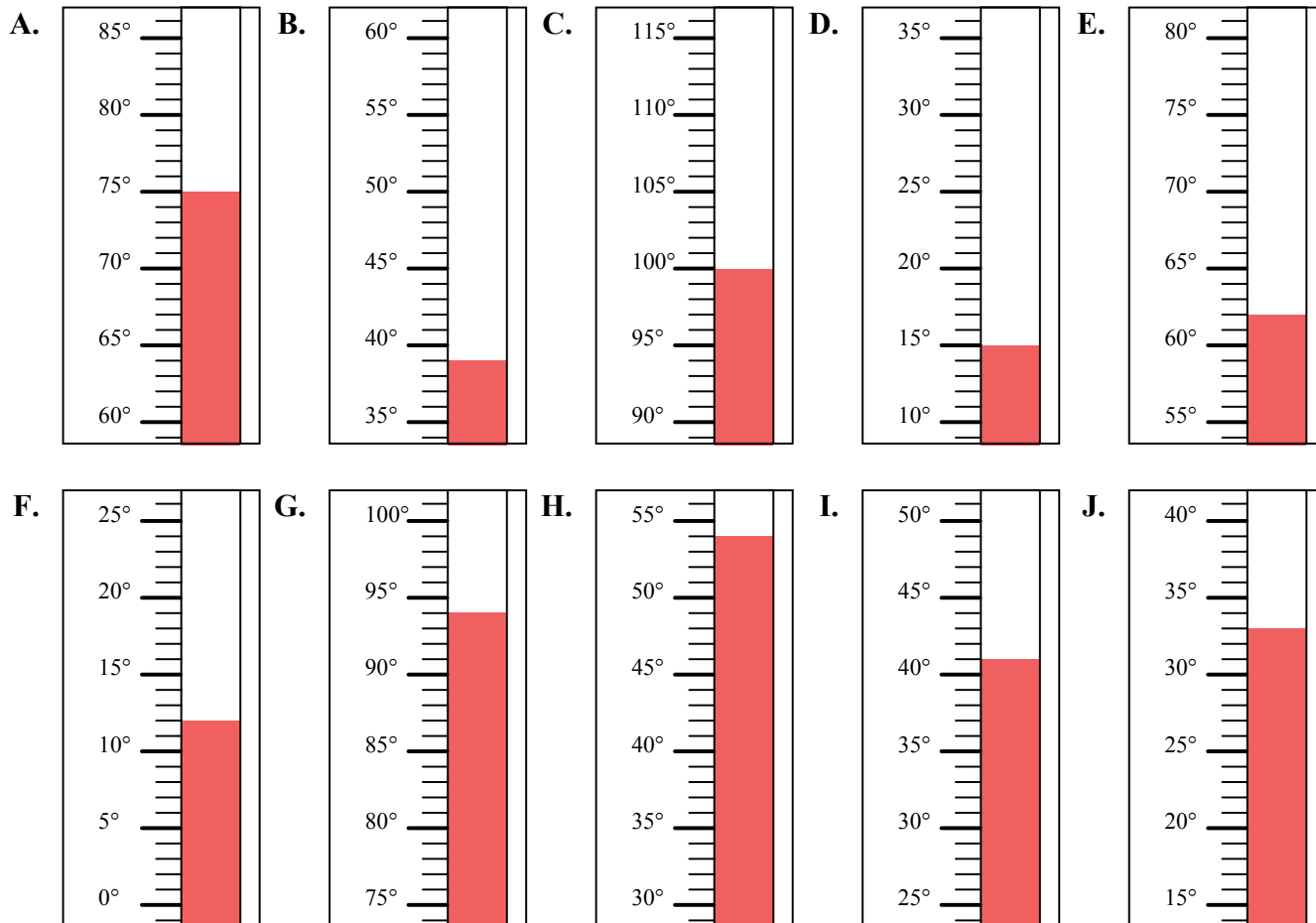
1. _____
2. _____
3. _____
4. _____
5. _____
6. _____
7. _____
8. _____
9. _____
10. _____





Определите под какой буквой находится правильный ответ.

- 1) Какой термометр наилучшим образом показывает температуру 39°?
- 2) Какой термометр наилучшим образом показывает температуру 12°?
- 3) Какой термометр наилучшим образом показывает температуру 75°?
- 4) Какой термометр наилучшим образом показывает температуру 100°?
- 5) Какой термометр наилучшим образом показывает температуру 33°?
- 6) Какой термометр наилучшим образом показывает температуру 15°?
- 7) Какой термометр наилучшим образом показывает температуру 94°?
- 8) Какой термометр наилучшим образом показывает температуру 54°?
- 9) Какой термометр наилучшим образом показывает температуру 62°?
- 10) Какой термометр наилучшим образом показывает температуру 41°?



ОТВЕТЫ

1. В
2. F
3. A
4. C
5. J
6. D
7. G
8. H
9. E
10. I

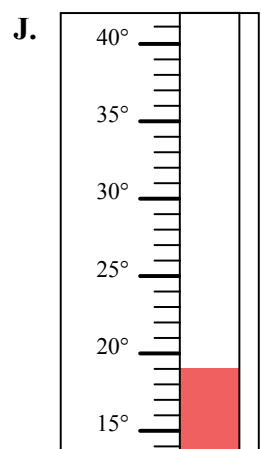
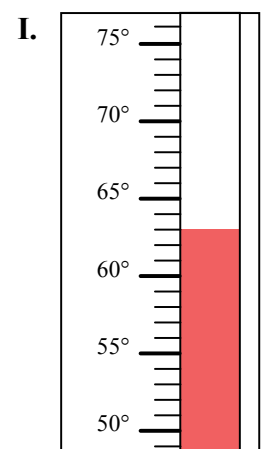
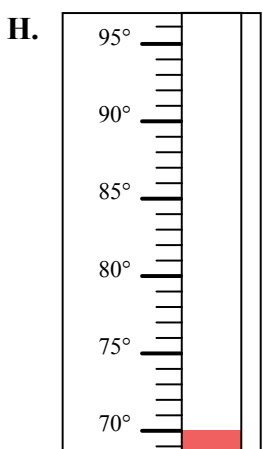
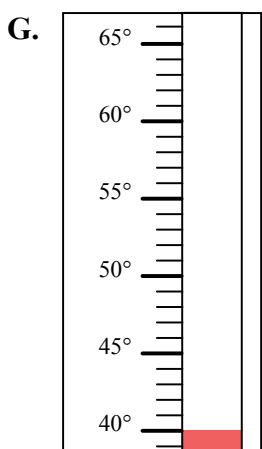
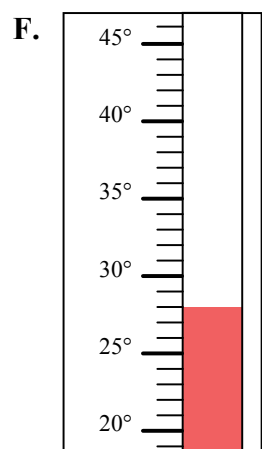
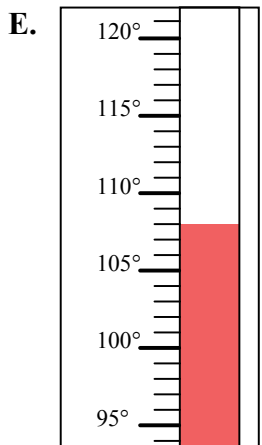
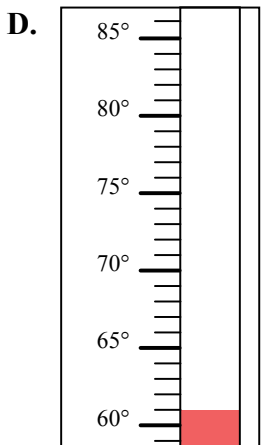
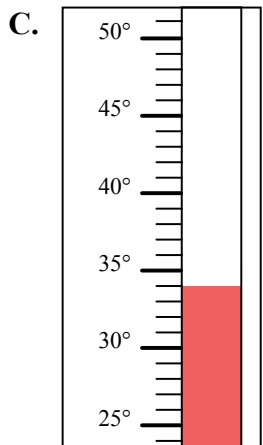
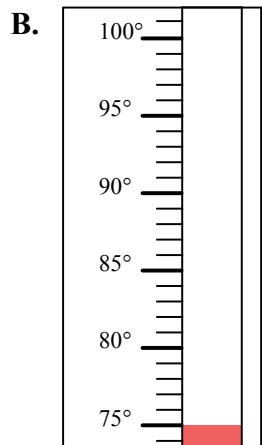
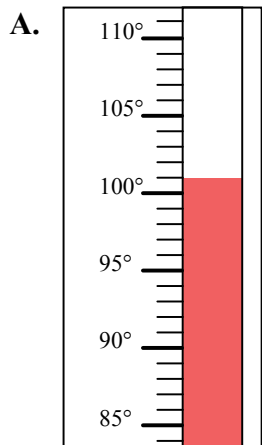


Определите под какой буквой находится правильный ответ.

ОТВЕТЫ

- 1) Какой термометр наилучшим образом показывает температуру 101° ?
- 2) Какой термометр наилучшим образом показывает температуру 34° ?
- 3) Какой термометр наилучшим образом показывает температуру 63° ?
- 4) Какой термометр наилучшим образом показывает температуру 108° ?
- 5) Какой термометр наилучшим образом показывает температуру 61° ?
- 6) Какой термометр наилучшим образом показывает температуру 75° ?
- 7) Какой термометр наилучшим образом показывает температуру 40° ?
- 8) Какой термометр наилучшим образом показывает температуру 28° ?
- 9) Какой термометр наилучшим образом показывает температуру 70° ?
- 10) Какой термометр наилучшим образом показывает температуру 19° ?

1. _____
2. _____
3. _____
4. _____
5. _____
6. _____
7. _____
8. _____
9. _____
10. _____





Определите под какой буквой находится правильный ответ.

ОТВЕТЫ

- 1) Какой термометр наилучшим образом показывает температуру 101°?
- 2) Какой термометр наилучшим образом показывает температуру 34°?
- 3) Какой термометр наилучшим образом показывает температуру 63°?
- 4) Какой термометр наилучшим образом показывает температуру 108°?
- 5) Какой термометр наилучшим образом показывает температуру 61°?
- 6) Какой термометр наилучшим образом показывает температуру 75°?
- 7) Какой термометр наилучшим образом показывает температуру 40°?
- 8) Какой термометр наилучшим образом показывает температуру 28°?
- 9) Какой термометр наилучшим образом показывает температуру 70°?
- 10) Какой термометр наилучшим образом показывает температуру 19°?

1. A

2. C

3. I

4. E

5. D

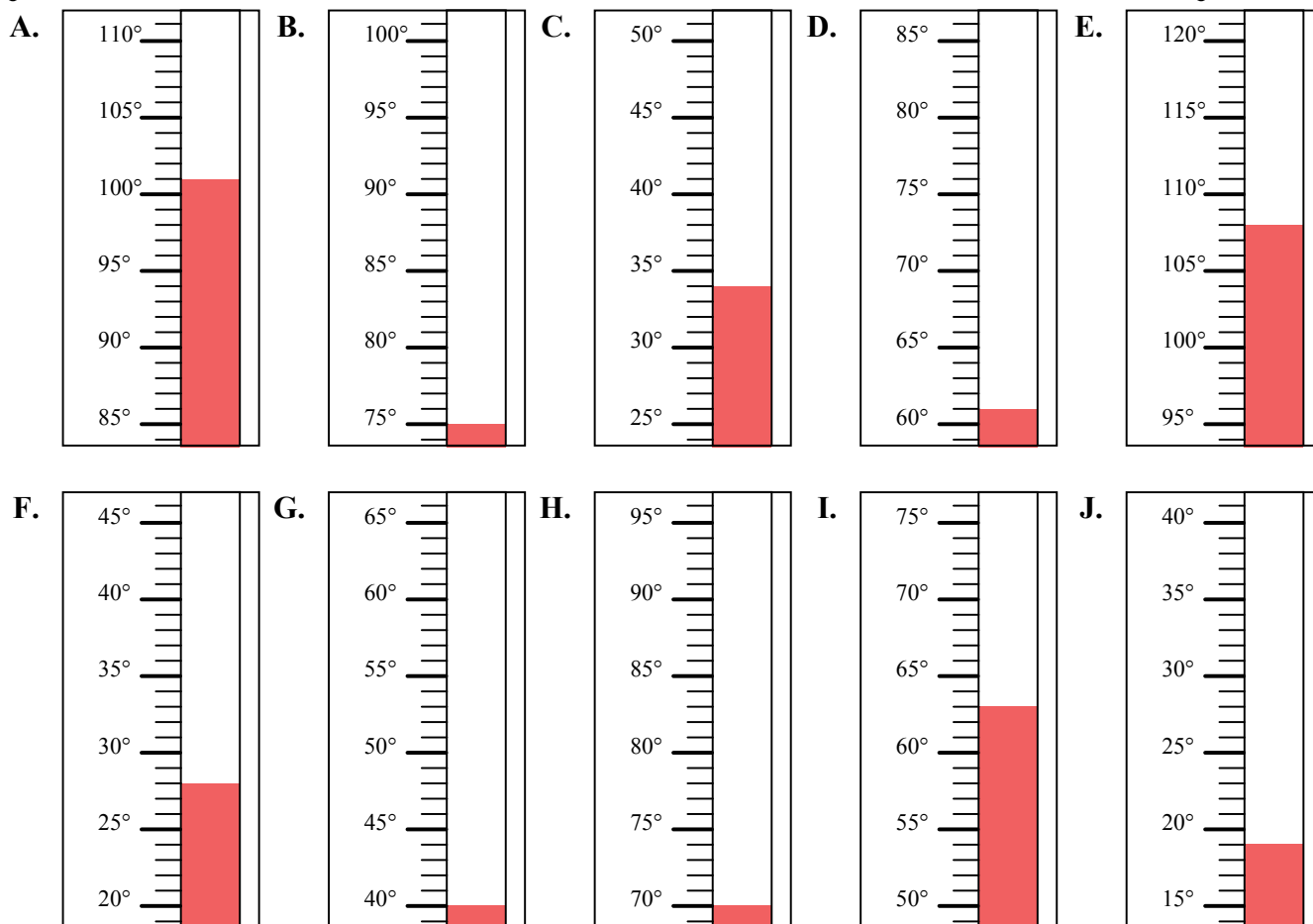
6. B

7. G

8. F

9. H

10. J



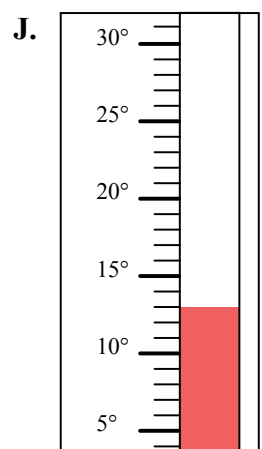
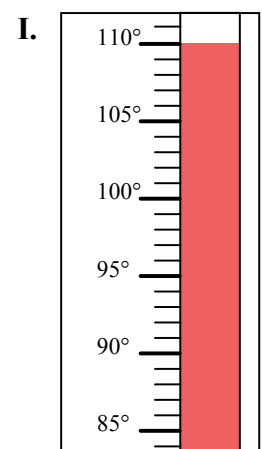
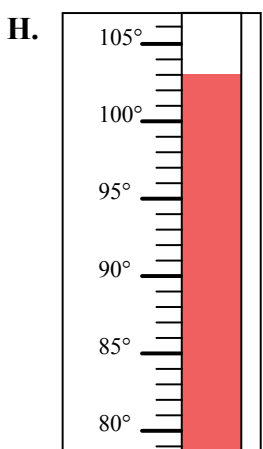
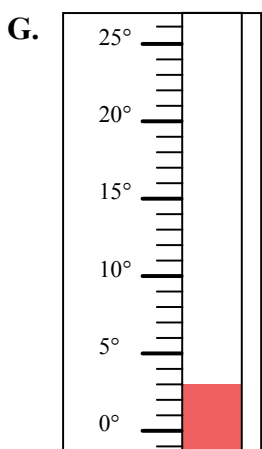
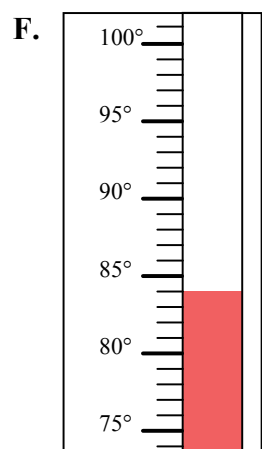
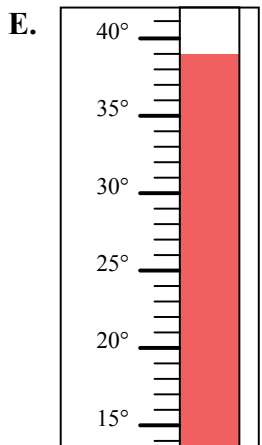
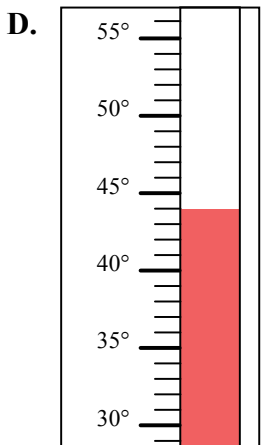
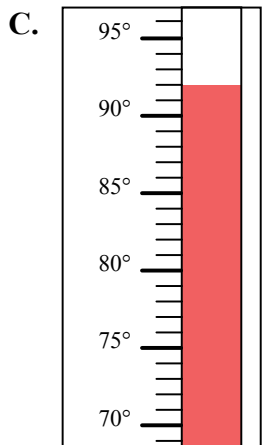
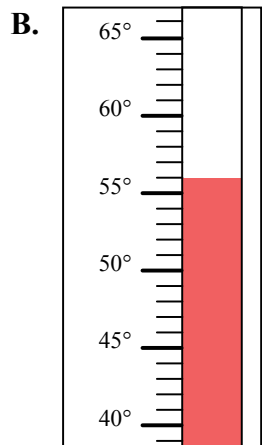
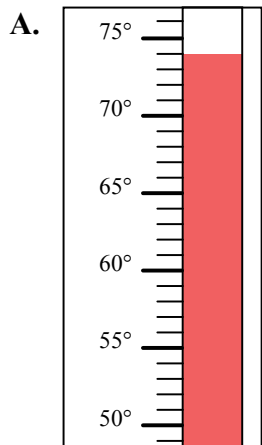


Определите под какой буквой находится правильный ответ.

ОТВЕТЫ

- 1) Какой термометр наилучшим образом показывает температуру 92°?
- 2) Какой термометр наилучшим образом показывает температуру 84°?
- 3) Какой термометр наилучшим образом показывает температуру 56°?
- 4) Какой термометр наилучшим образом показывает температуру 110°?
- 5) Какой термометр наилучшим образом показывает температуру 13°?
- 6) Какой термометр наилучшим образом показывает температуру 39°?
- 7) Какой термометр наилучшим образом показывает температуру 3°?
- 8) Какой термометр наилучшим образом показывает температуру 44°?
- 9) Какой термометр наилучшим образом показывает температуру 74°?
- 10) Какой термометр наилучшим образом показывает температуру 103°?

1. _____
2. _____
3. _____
4. _____
5. _____
6. _____
7. _____
8. _____
9. _____
10. _____



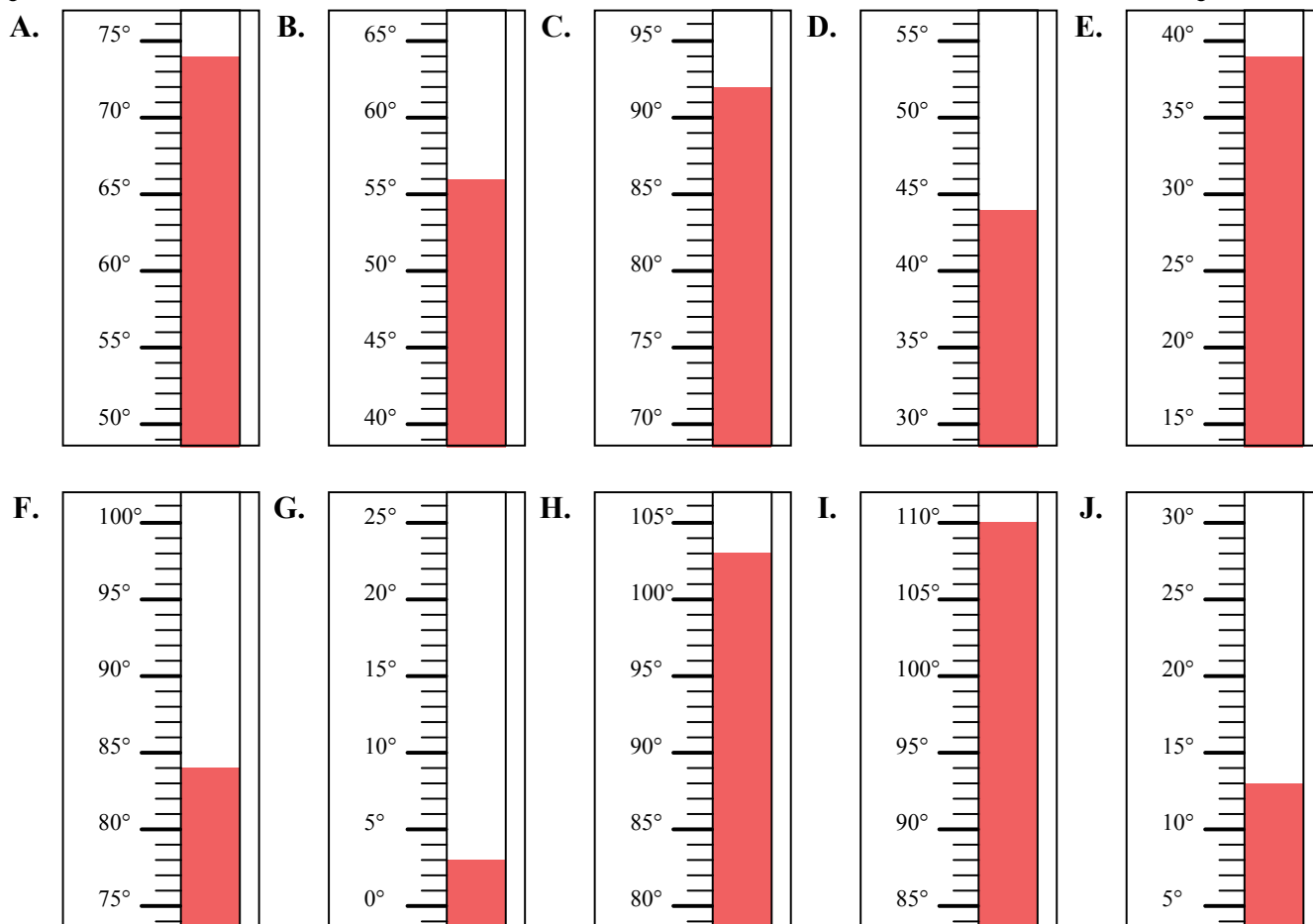


Определите под какой буквой находится правильный ответ.

ОТВЕТЫ

- 1) Какой термометр наилучшим образом показывает температуру 92°?
- 2) Какой термометр наилучшим образом показывает температуру 84°?
- 3) Какой термометр наилучшим образом показывает температуру 56°?
- 4) Какой термометр наилучшим образом показывает температуру 110°?
- 5) Какой термометр наилучшим образом показывает температуру 13°?
- 6) Какой термометр наилучшим образом показывает температуру 39°?
- 7) Какой термометр наилучшим образом показывает температуру 3°?
- 8) Какой термометр наилучшим образом показывает температуру 44°?
- 9) Какой термометр наилучшим образом показывает температуру 74°?
- 10) Какой термометр наилучшим образом показывает температуру 103°?

1. C
2. F
3. B
4. I
5. J
6. E
7. G
8. D
9. A
10. H



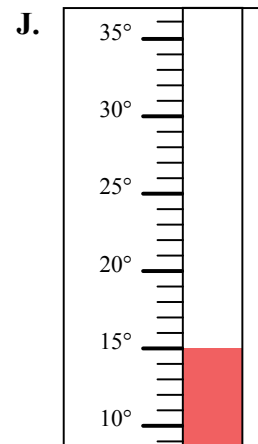
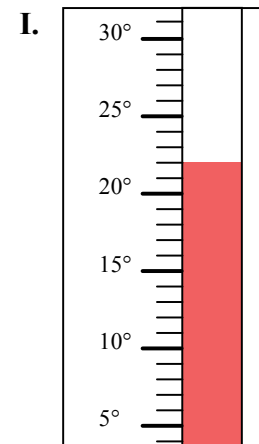
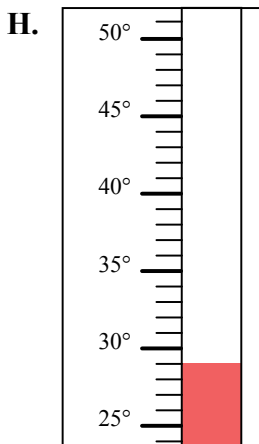
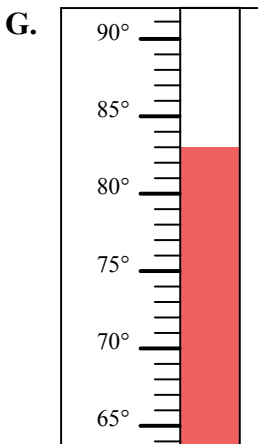
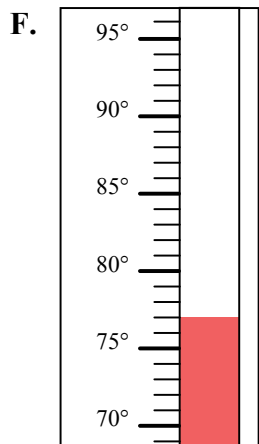
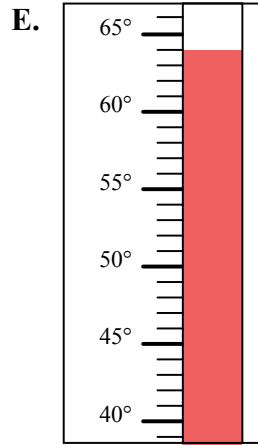
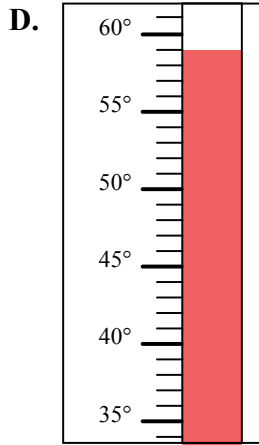
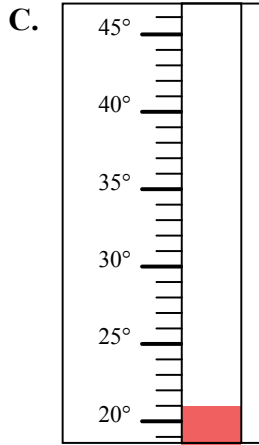
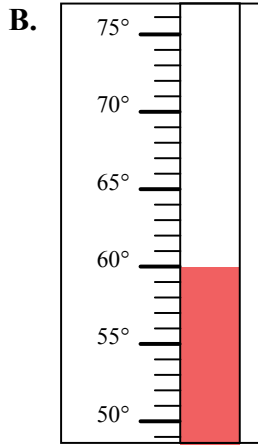
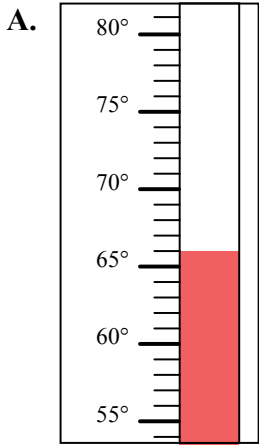


Определите под какой буквой находится правильный ответ.

ОТВЕТЫ

- 1) Какой термометр наилучшим образом показывает температуру 22°?
- 2) Какой термометр наилучшим образом показывает температуру 66°?
- 3) Какой термометр наилучшим образом показывает температуру 15°?
- 4) Какой термометр наилучшим образом показывает температуру 83°?
- 5) Какой термометр наилучшим образом показывает температуру 21°?
- 6) Какой термометр наилучшим образом показывает температуру 59°?
- 7) Какой термометр наилучшим образом показывает температуру 60°?
- 8) Какой термометр наилучшим образом показывает температуру 77°?
- 9) Какой термометр наилучшим образом показывает температуру 64°?
- 10) Какой термометр наилучшим образом показывает температуру 29°?

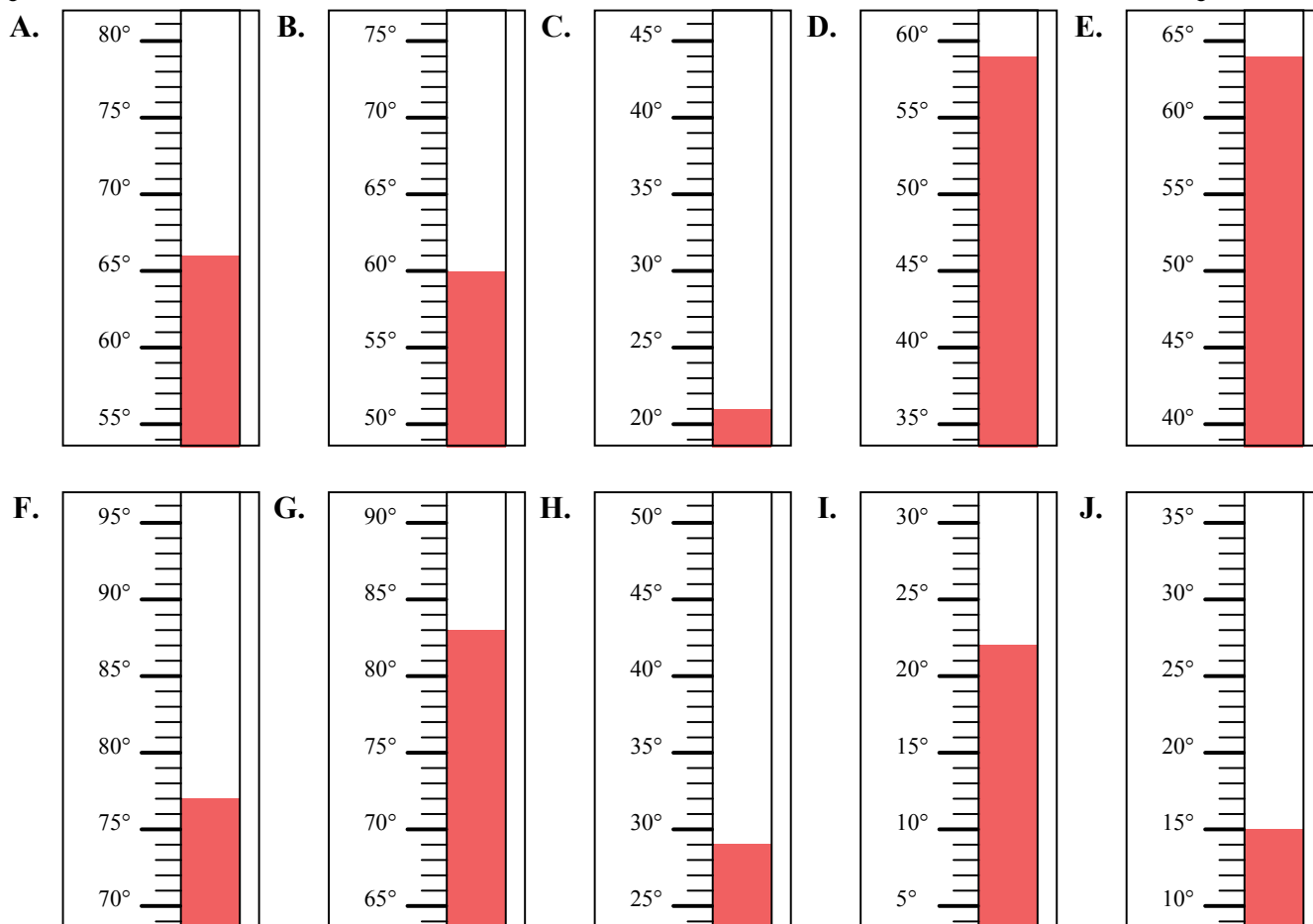
1. _____
2. _____
3. _____
4. _____
5. _____
6. _____
7. _____
8. _____
9. _____
10. _____





Определите под какой буквой находится правильный ответ.

- 1) Какой термометр наилучшим образом показывает температуру 22°?
- 2) Какой термометр наилучшим образом показывает температуру 66°?
- 3) Какой термометр наилучшим образом показывает температуру 15°?
- 4) Какой термометр наилучшим образом показывает температуру 83°?
- 5) Какой термометр наилучшим образом показывает температуру 21°?
- 6) Какой термометр наилучшим образом показывает температуру 59°?
- 7) Какой термометр наилучшим образом показывает температуру 60°?
- 8) Какой термометр наилучшим образом показывает температуру 77°?
- 9) Какой термометр наилучшим образом показывает температуру 64°?
- 10) Какой термометр наилучшим образом показывает температуру 29°?



ОТВЕТЫ

1. I
2. A
3. J
4. G
5. C
6. D
7. B
8. F
9. E
10. H

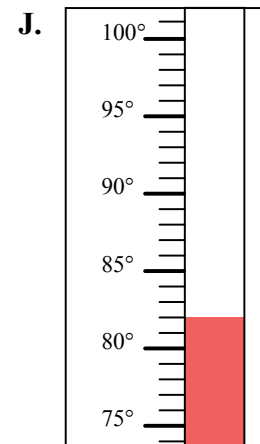
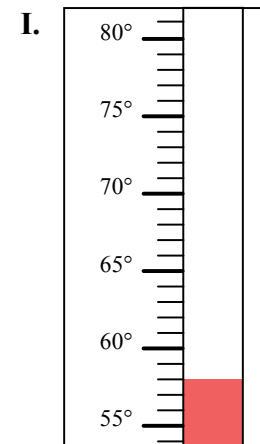
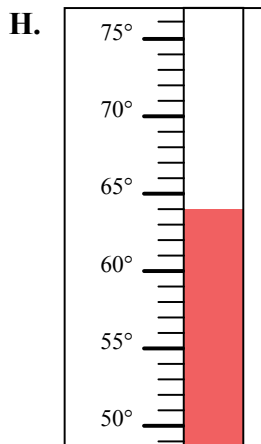
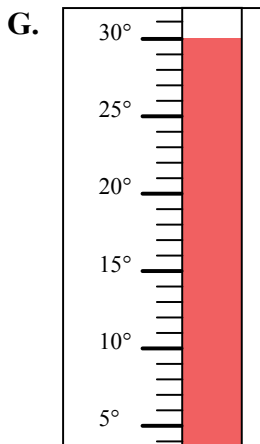
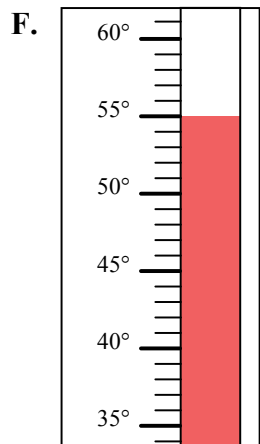
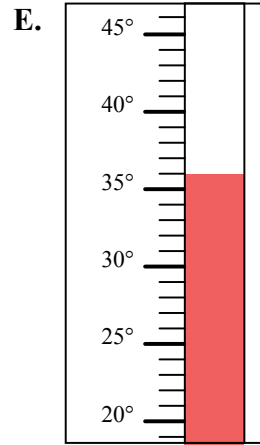
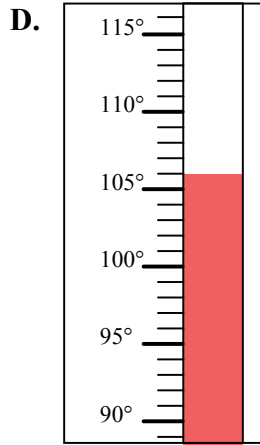
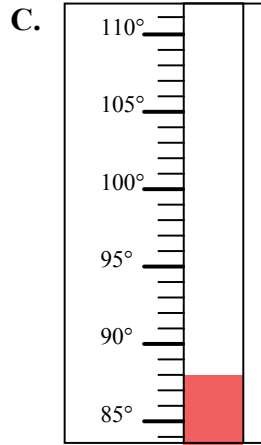
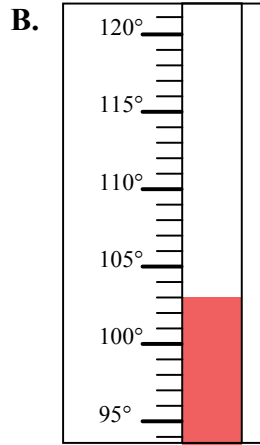
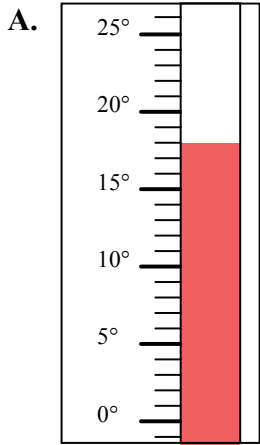


Определите под какой буквой находится правильный ответ.

ОТВЕТЫ

- 1) Какой термометр наилучшим образом показывает температуру 82°?
- 2) Какой термометр наилучшим образом показывает температуру 64°?
- 3) Какой термометр наилучшим образом показывает температуру 58°?
- 4) Какой термометр наилучшим образом показывает температуру 106°?
- 5) Какой термометр наилучшим образом показывает температуру 88°?
- 6) Какой термометр наилучшим образом показывает температуру 36°?
- 7) Какой термометр наилучшим образом показывает температуру 18°?
- 8) Какой термометр наилучшим образом показывает температуру 30°?
- 9) Какой термометр наилучшим образом показывает температуру 55°?
- 10) Какой термометр наилучшим образом показывает температуру 103°?

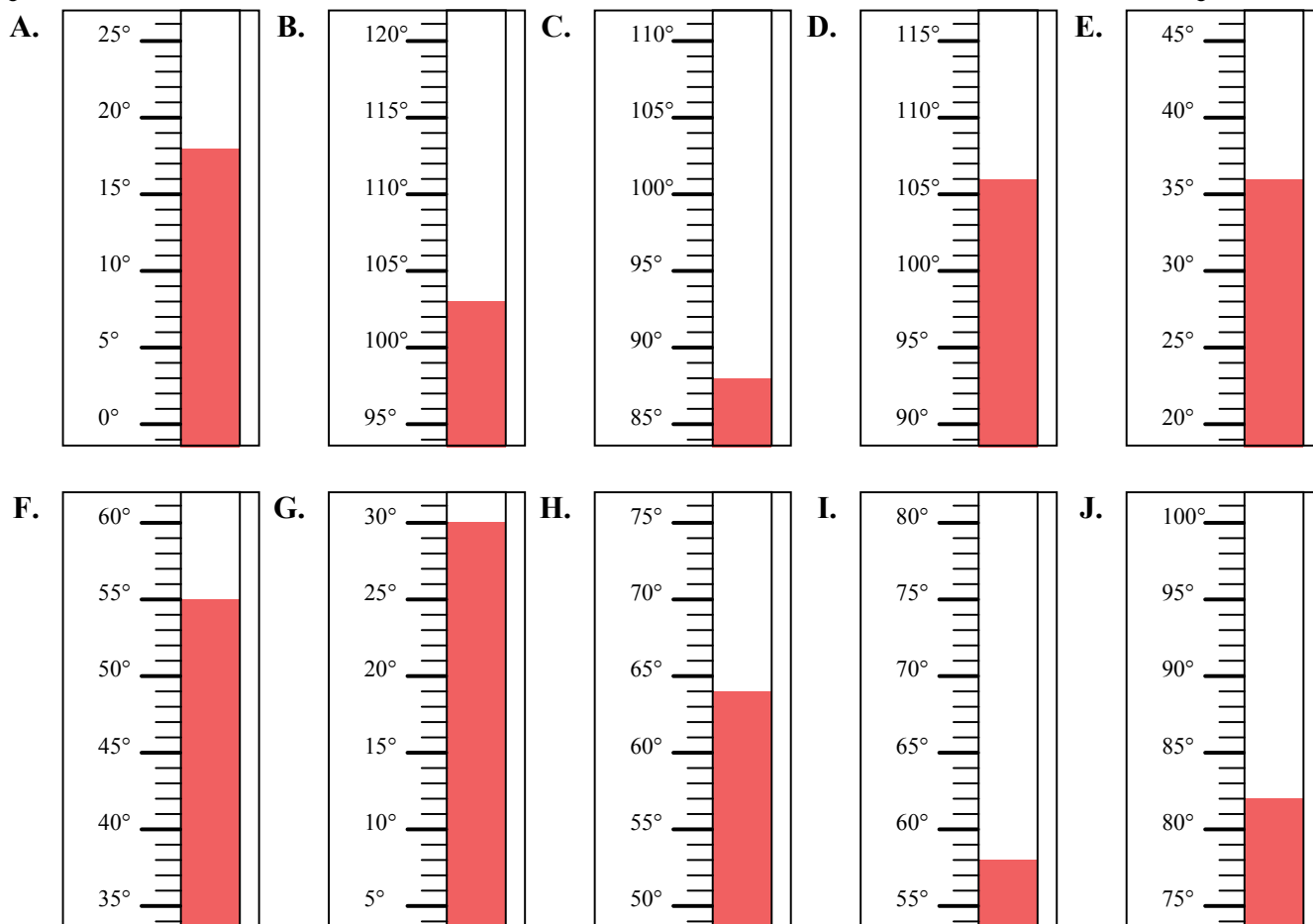
1. _____
2. _____
3. _____
4. _____
5. _____
6. _____
7. _____
8. _____
9. _____
10. _____





Определите под какой буквой находится правильный ответ.

- 1) Какой термометр наилучшим образом показывает температуру 82° ?
- 2) Какой термометр наилучшим образом показывает температуру 64° ?
- 3) Какой термометр наилучшим образом показывает температуру 58° ?
- 4) Какой термометр наилучшим образом показывает температуру 106° ?
- 5) Какой термометр наилучшим образом показывает температуру 88° ?
- 6) Какой термометр наилучшим образом показывает температуру 36° ?
- 7) Какой термометр наилучшим образом показывает температуру 18° ?
- 8) Какой термометр наилучшим образом показывает температуру 30° ?
- 9) Какой термометр наилучшим образом показывает температуру 55° ?
- 10) Какой термометр наилучшим образом показывает температуру 103° ?

**ОТВЕТЫ**

1. **J**
2. **H**
3. **I**
4. **D**
5. **C**
6. **E**
7. **A**
8. **G**
9. **F**
10. **B**

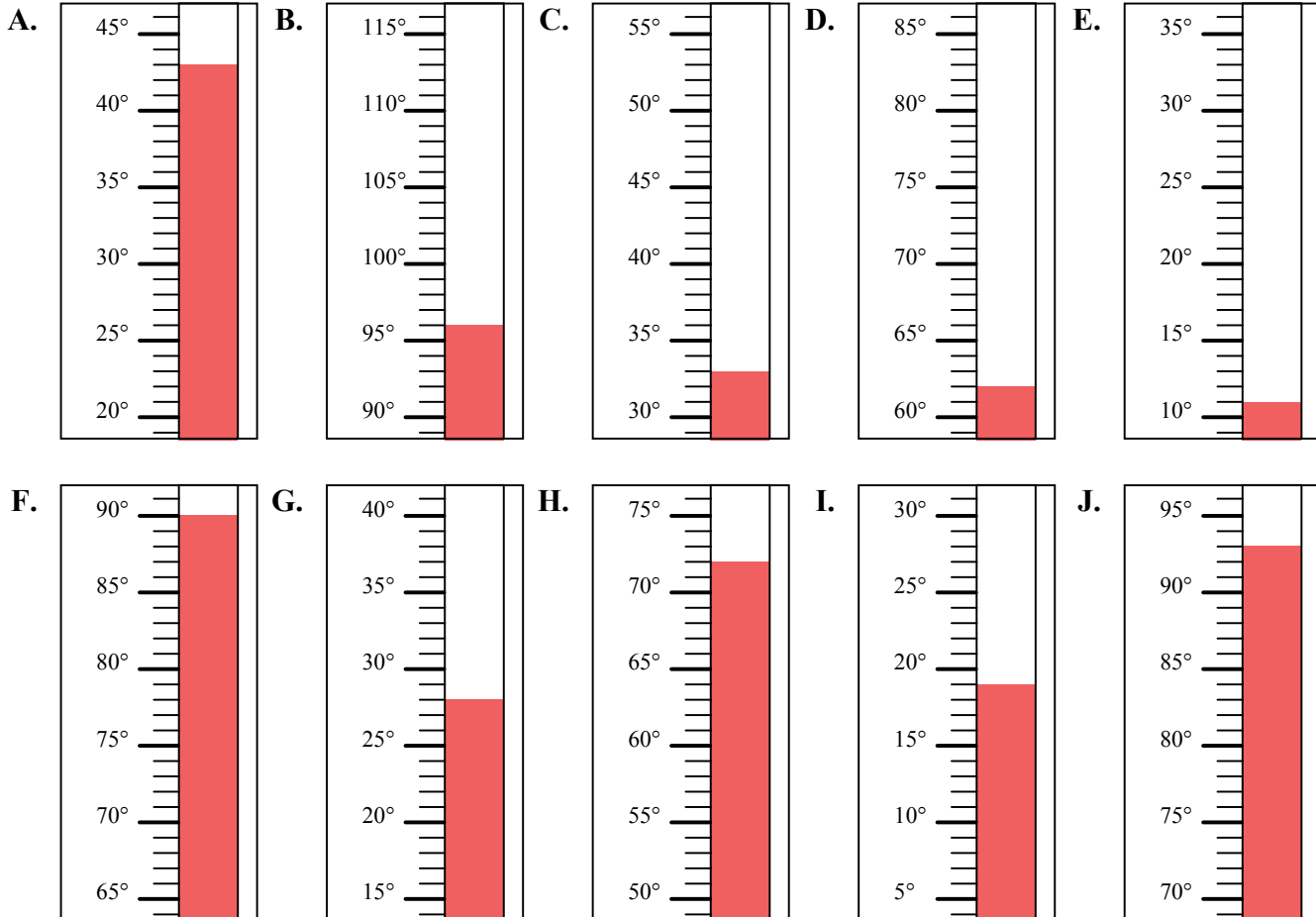


Определите под какой буквой находится правильный ответ.

ОТВЕТЫ

- 1) Какой термометр наилучшим образом показывает температуру 62° ?
- 2) Какой термометр наилучшим образом показывает температуру 43° ?
- 3) Какой термометр наилучшим образом показывает температуру 72° ?
- 4) Какой термометр наилучшим образом показывает температуру 33° ?
- 5) Какой термометр наилучшим образом показывает температуру 11° ?
- 6) Какой термометр наилучшим образом показывает температуру 93° ?
- 7) Какой термометр наилучшим образом показывает температуру 96° ?
- 8) Какой термометр наилучшим образом показывает температуру 19° ?
- 9) Какой термометр наилучшим образом показывает температуру 28° ?
- 10) Какой термометр наилучшим образом показывает температуру 90° ?

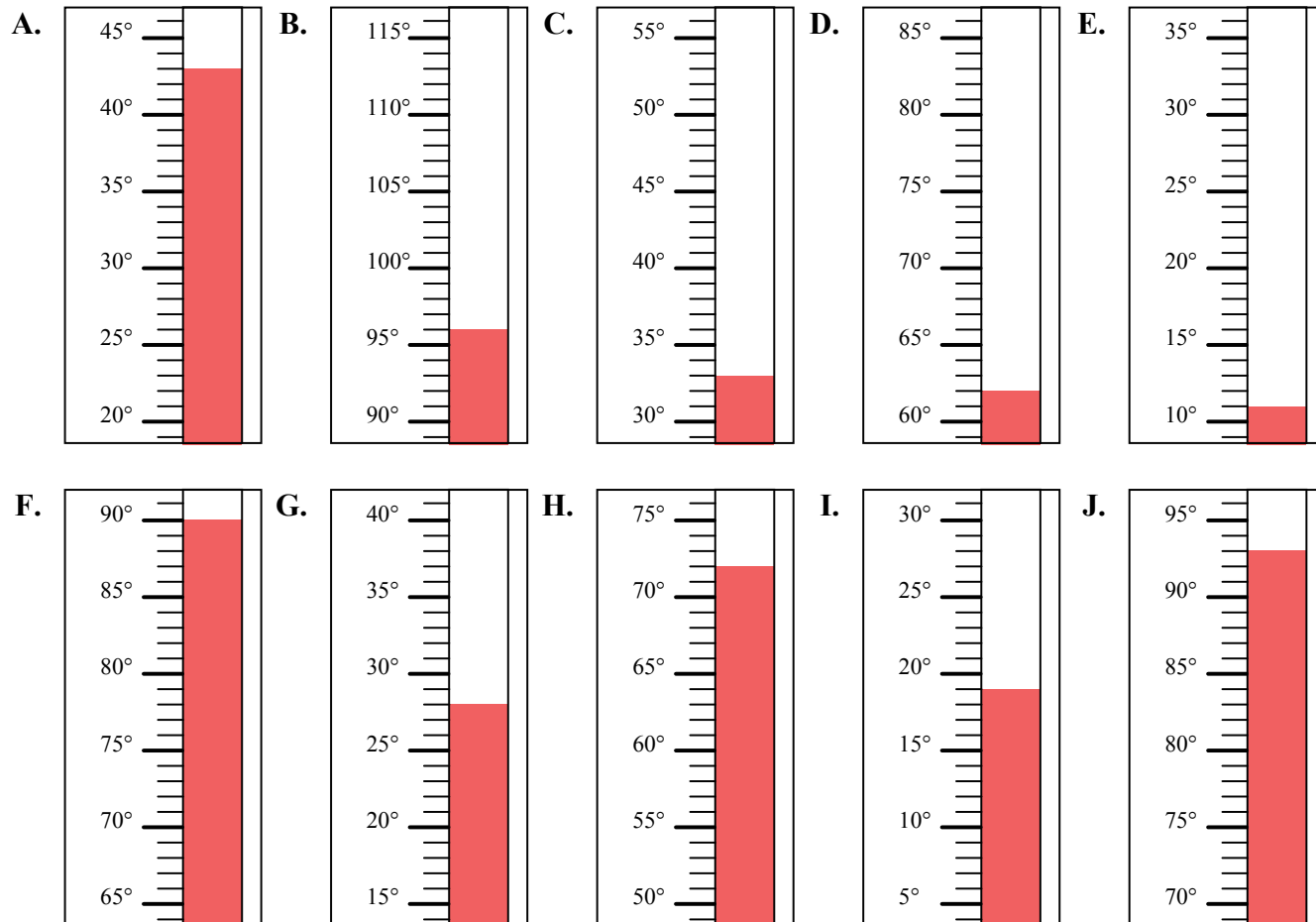
1. _____
2. _____
3. _____
4. _____
5. _____
6. _____
7. _____
8. _____
9. _____
10. _____





Определите под какой буквой находится правильный ответ.

- 1) Какой термометр наилучшим образом показывает температуру 62°?
- 2) Какой термометр наилучшим образом показывает температуру 43°?
- 3) Какой термометр наилучшим образом показывает температуру 72°?
- 4) Какой термометр наилучшим образом показывает температуру 33°?
- 5) Какой термометр наилучшим образом показывает температуру 11°?
- 6) Какой термометр наилучшим образом показывает температуру 93°?
- 7) Какой термометр наилучшим образом показывает температуру 96°?
- 8) Какой термометр наилучшим образом показывает температуру 19°?
- 9) Какой термометр наилучшим образом показывает температуру 28°?
- 10) Какой термометр наилучшим образом показывает температуру 90°?



ОТВЕТЫ

1. D
2. A
3. H
4. C
5. E
6. J
7. B
8. I
9. G
10. F

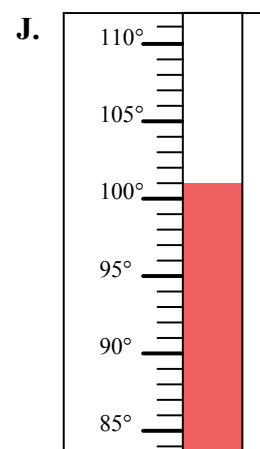
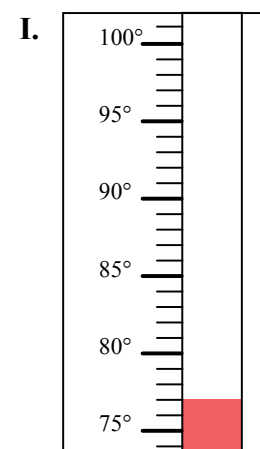

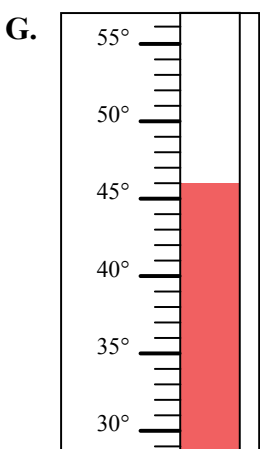
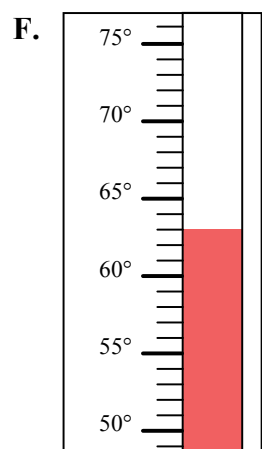
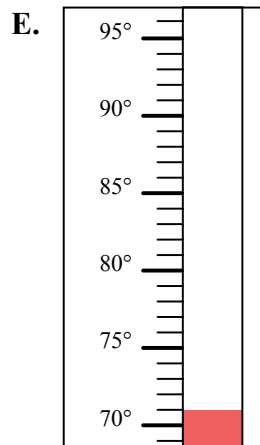
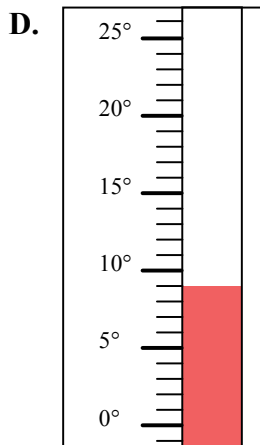
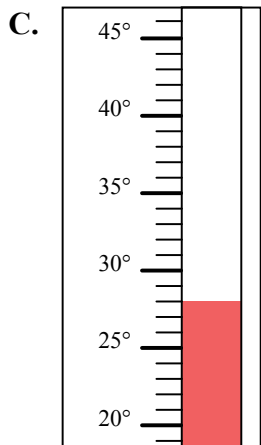
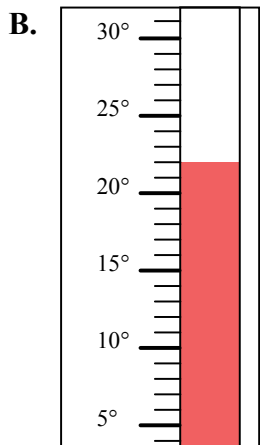
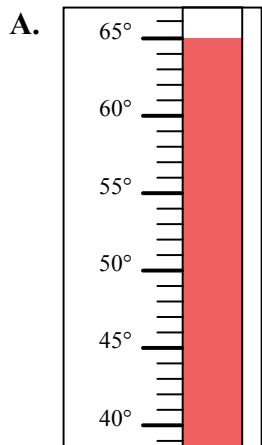


Определите под какой буквой находится правильный ответ.

ОТВЕТЫ

- 1) Какой термометр наилучшим образом показывает температуру 63° ?
- 2) Какой термометр наилучшим образом показывает температуру 46° ?
- 3) Какой термометр наилучшим образом показывает температуру 65° ?
- 4) Какой термометр наилучшим образом показывает температуру 110° ?
- 5) Какой термометр наилучшим образом показывает температуру 77° ?
- 6) Какой термометр наилучшим образом показывает температуру 22° ?
- 7) Какой термометр наилучшим образом показывает температуру 71° ?
- 8) Какой термометр наилучшим образом показывает температуру 28° ?
- 9) Какой термометр наилучшим образом показывает температуру 9° ?
- 10) Какой термометр наилучшим образом показывает температуру 101° ?

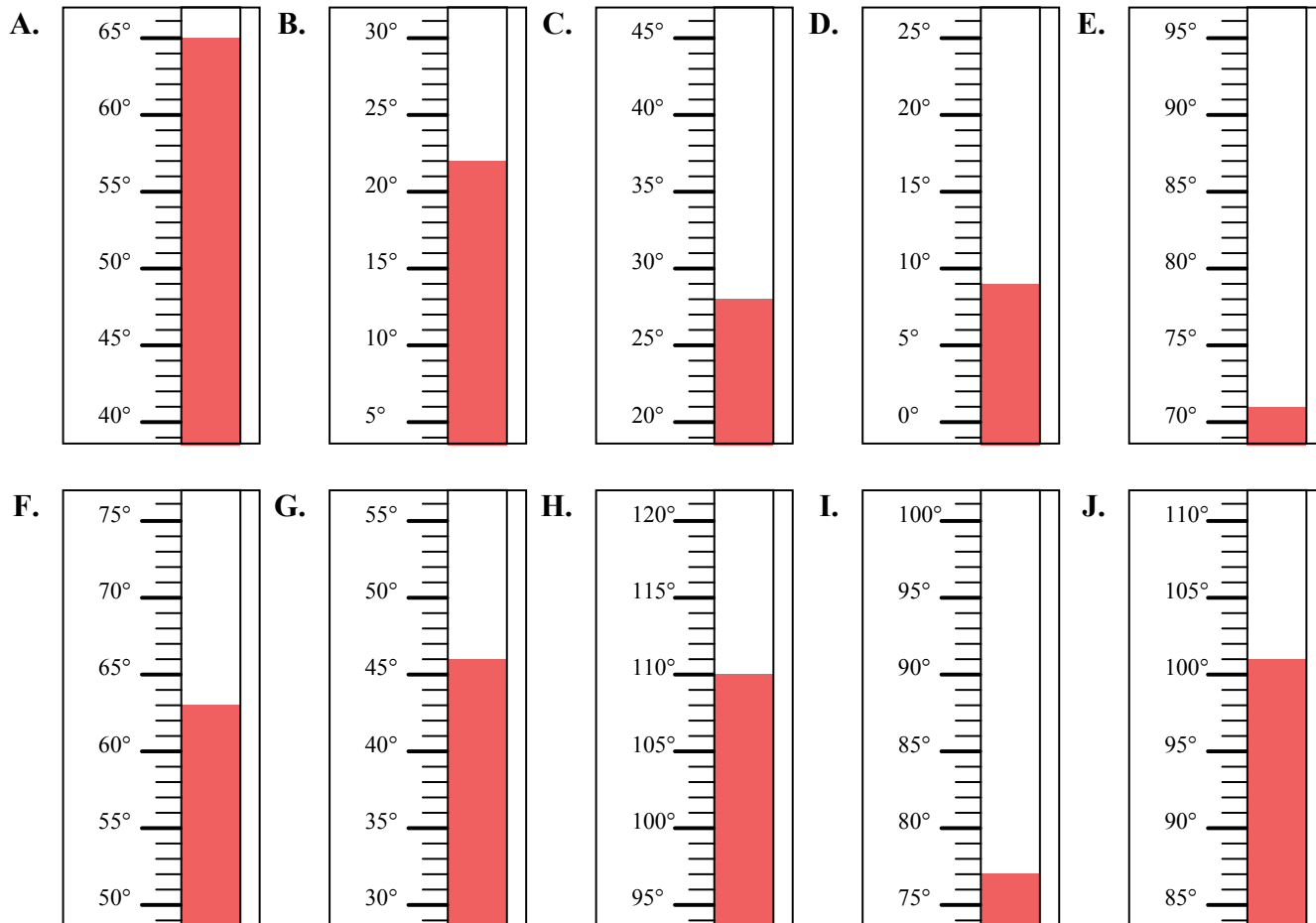
1. _____
2. _____
3. _____
4. _____
5. _____
6. _____
7. _____
8. _____
9. _____
10. _____





Определите под какой буквой находится правильный ответ.

- 1) Какой термометр наилучшим образом показывает температуру 63°?
- 2) Какой термометр наилучшим образом показывает температуру 46°?
- 3) Какой термометр наилучшим образом показывает температуру 65°?
- 4) Какой термометр наилучшим образом показывает температуру 110°?
- 5) Какой термометр наилучшим образом показывает температуру 77°?
- 6) Какой термометр наилучшим образом показывает температуру 22°?
- 7) Какой термометр наилучшим образом показывает температуру 71°?
- 8) Какой термометр наилучшим образом показывает температуру 28°?
- 9) Какой термометр наилучшим образом показывает температуру 9°?
- 10) Какой термометр наилучшим образом показывает температуру 101°?



ОТВЕТЫ

1. **F**
2. **G**
3. **A**
4. **H**
5. **I**
6. **B**
7. **E**
8. **C**
9. **D**
10. **J**

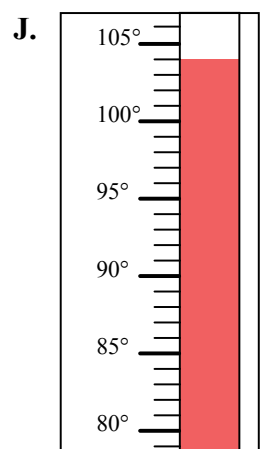
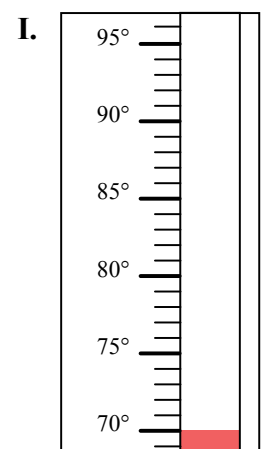
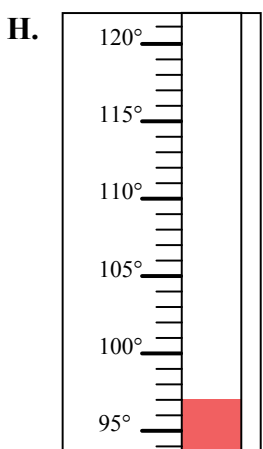
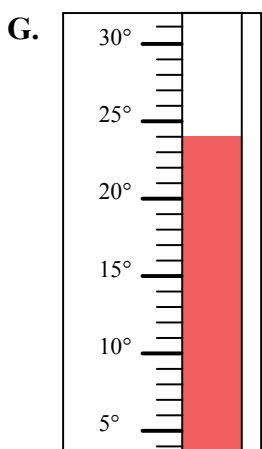
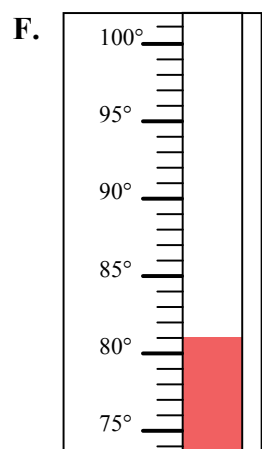
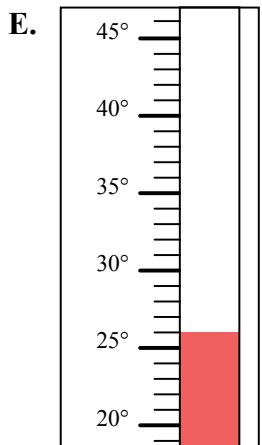
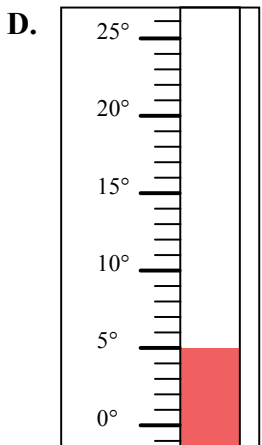
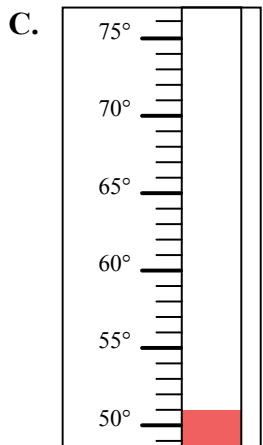
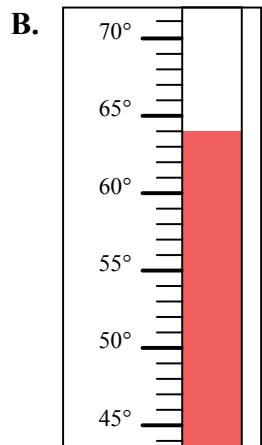
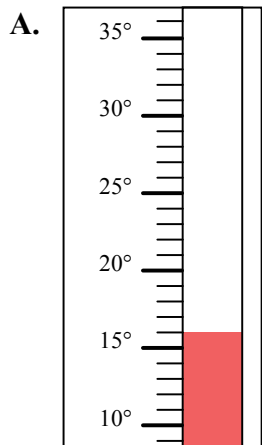


Определите под какой буквой находится правильный ответ.

ОТВЕТЫ

- 1) Какой термометр наилучшим образом показывает температуру 70°?
- 2) Какой термометр наилучшим образом показывает температуру 51°?
- 3) Какой термометр наилучшим образом показывает температуру 64°?
- 4) Какой термометр наилучшим образом показывает температуру 26°?
- 5) Какой термометр наилучшим образом показывает температуру 104°?
- 6) Какой термометр наилучшим образом показывает температуру 97°?
- 7) Какой термометр наилучшим образом показывает температуру 5°?
- 8) Какой термометр наилучшим образом показывает температуру 81°?
- 9) Какой термометр наилучшим образом показывает температуру 16°?
- 10) Какой термометр наилучшим образом показывает температуру 24°?

1. _____
2. _____
3. _____
4. _____
5. _____
6. _____
7. _____
8. _____
9. _____
10. _____



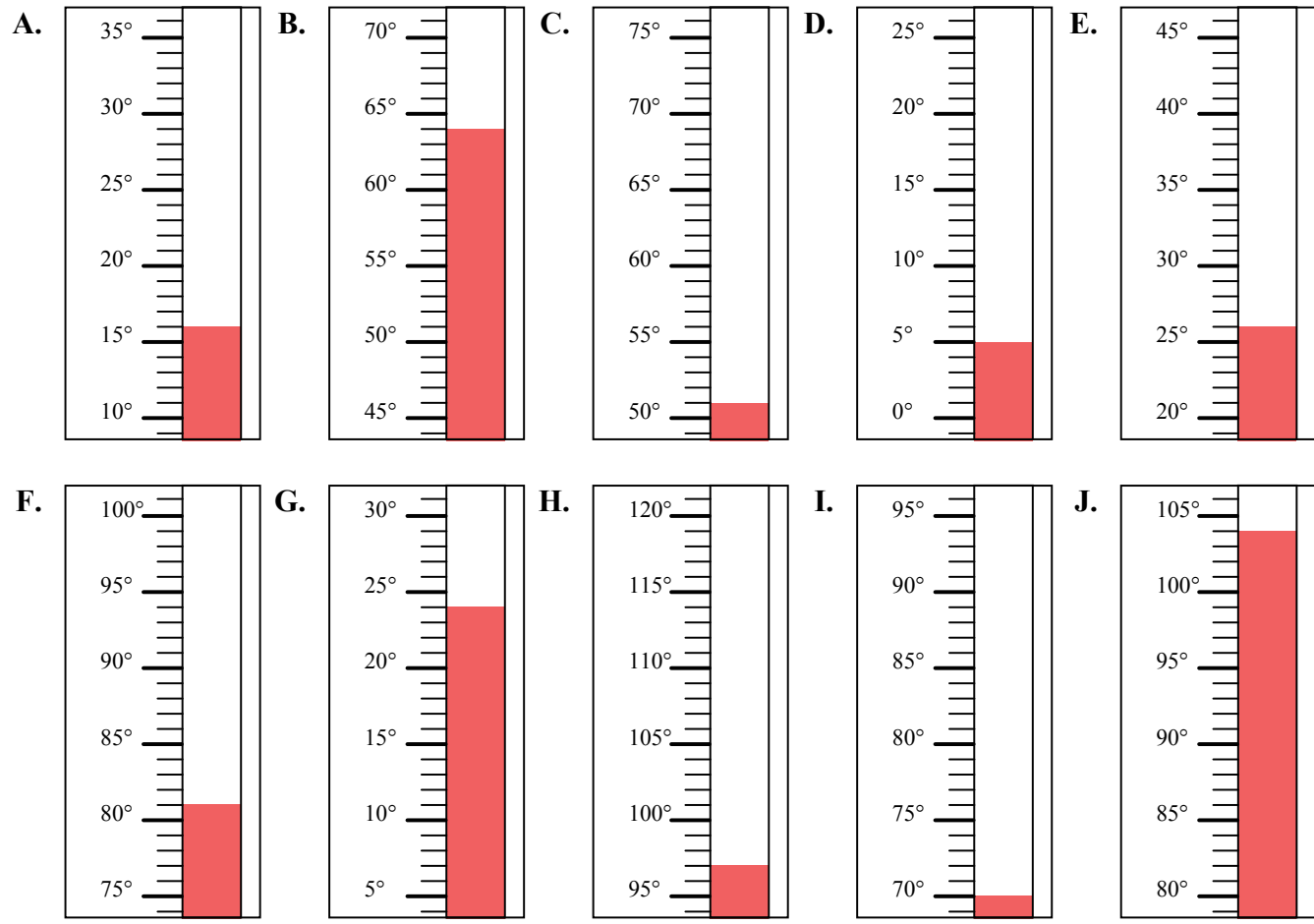


Определите под какой буквой находится правильный ответ.

ОТВЕТЫ

- 1) Какой термометр наилучшим образом показывает температуру 70°?
- 2) Какой термометр наилучшим образом показывает температуру 51°?
- 3) Какой термометр наилучшим образом показывает температуру 64°?
- 4) Какой термометр наилучшим образом показывает температуру 26°?
- 5) Какой термометр наилучшим образом показывает температуру 104°?
- 6) Какой термометр наилучшим образом показывает температуру 97°?
- 7) Какой термометр наилучшим образом показывает температуру 5°?
- 8) Какой термометр наилучшим образом показывает температуру 81°?
- 9) Какой термометр наилучшим образом показывает температуру 16°?
- 10) Какой термометр наилучшим образом показывает температуру 24°?

1. I
2. C
3. B
4. E
5. J
6. H
7. D
8. F
9. A
10. G



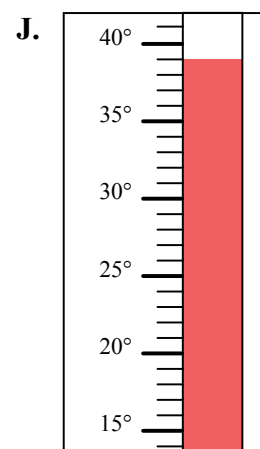
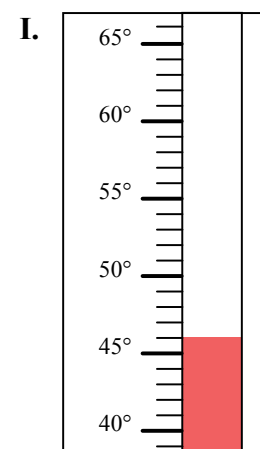
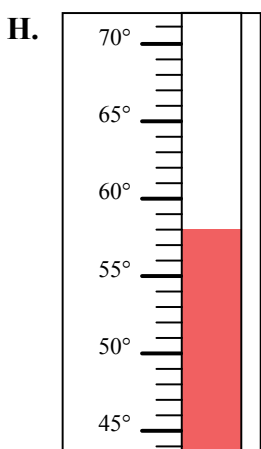
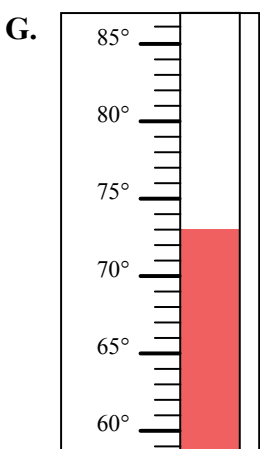
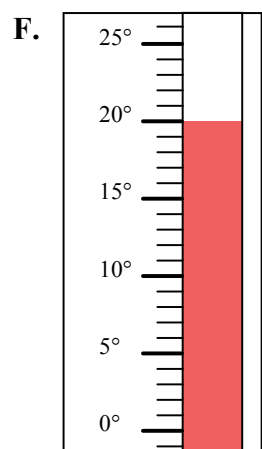
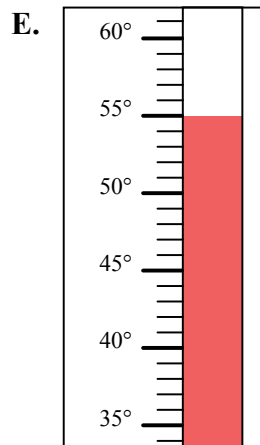
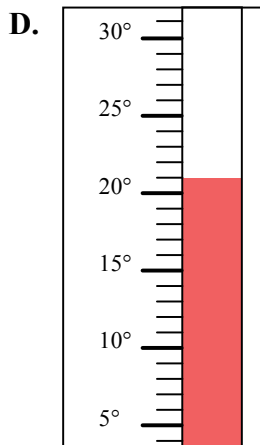
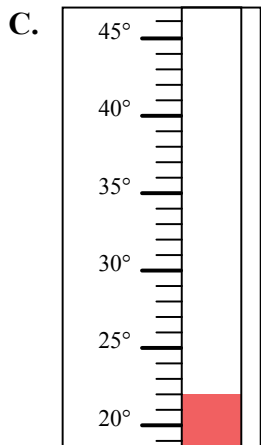
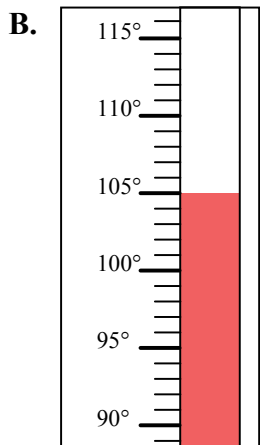
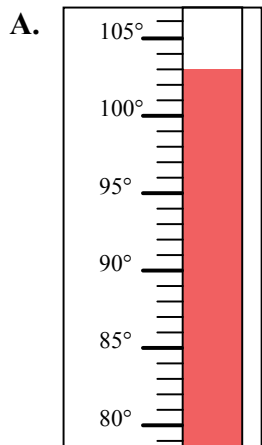


Определите под какой буквой находится правильный ответ.

ОТВЕТЫ

- 1) Какой термометр наилучшим образом показывает температуру 103° ?
- 2) Какой термометр наилучшим образом показывает температуру 73° ?
- 3) Какой термометр наилучшим образом показывает температуру 22° ?
- 4) Какой термометр наилучшим образом показывает температуру 21° ?
- 5) Какой термометр наилучшим образом показывает температуру 46° ?
- 6) Какой термометр наилучшим образом показывает температуру 20° ?
- 7) Какой термометр наилучшим образом показывает температуру 39° ?
- 8) Какой термометр наилучшим образом показывает температуру 55° ?
- 9) Какой термометр наилучшим образом показывает температуру 105° ?
- 10) Какой термометр наилучшим образом показывает температуру 58° ?

1. _____
2. _____
3. _____
4. _____
5. _____
6. _____
7. _____
8. _____
9. _____
10. _____





Определите под какой буквой находится правильный ответ.

- 1) Какой термометр наилучшим образом показывает температуру 103°?
- 2) Какой термометр наилучшим образом показывает температуру 73°?
- 3) Какой термометр наилучшим образом показывает температуру 22°?
- 4) Какой термометр наилучшим образом показывает температуру 21°?
- 5) Какой термометр наилучшим образом показывает температуру 46°?
- 6) Какой термометр наилучшим образом показывает температуру 20°?
- 7) Какой термометр наилучшим образом показывает температуру 39°?
- 8) Какой термометр наилучшим образом показывает температуру 55°?
- 9) Какой термометр наилучшим образом показывает температуру 105°?
- 10) Какой термометр наилучшим образом показывает температуру 58°?

ОТВЕТЫ

1. **A**

2. **G**

3. **C**

4. **D**

5. **I**

6. **F**

7. **J**

8. **E**

9. **B**

10. **H**

