



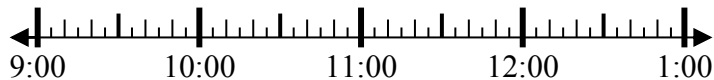
Решите каждую задачу.

**Ответы**

1) Начало: 9:20

истек: \_\_\_\_\_

Конец: 10:45



1. \_\_\_\_\_

2) Начало: 2:00

истек: \_\_\_\_\_

Конец: 4:55



2. \_\_\_\_\_

3) Начало: 7:40

истек: \_\_\_\_\_

Конец: 9:55



3. \_\_\_\_\_

4) Начало: 7:15

истек: \_\_\_\_\_

Конец: 8:25



4. \_\_\_\_\_

5) Начало: 11:15

истек: \_\_\_\_\_

Конец: 1:40



5. \_\_\_\_\_

6) Начало: 5:30

истек: \_\_\_\_\_

Конец: 6:55



6. \_\_\_\_\_

7) Начало: 12:00

истек: \_\_\_\_\_

Конец: 2:40



7. \_\_\_\_\_

8) Начало: 12:15

истек: \_\_\_\_\_

Конец: 1:35



8. \_\_\_\_\_

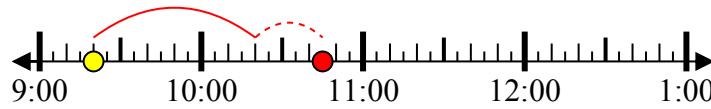


Решите каждую задачу.

1) Начало: 9:20

истек: **1 ч и 25 мин**

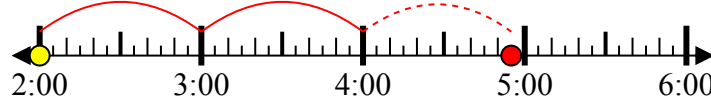
Конец: 10:45



2) Начало: 2:00

истек: **2 ч и 55 мин**

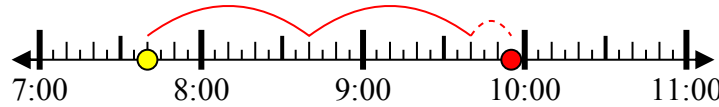
Конец: 4:55



3) Начало: 7:40

истек: **2 ч и 15 мин**

Конец: 9:55



4) Начало: 7:15

истек: **1 ч и 10 мин**

Конец: 8:25



5) Начало: 11:15

истек: **2 ч и 25 мин**

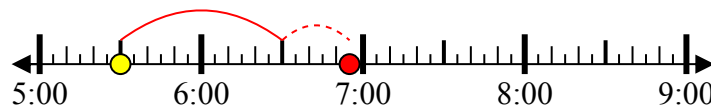
Конец: 1:40



6) Начало: 5:30

истек: **1 ч и 25 мин**

Конец: 6:55



7) Начало: 12:00

истек: **2 ч и 40 мин**

Конец: 2:40



8) Начало: 12:15

истек: **1 ч и 20 мин**

Конец: 1:35



**ОТВЕТЫ**

1. **1 ч и 25 мин**

2. **2 ч и 55 мин**

3. **2 ч и 15 мин**

4. **1 ч и 10 мин**

5. **2 ч и 25 мин**

6. **1 ч и 25 мин**

7. **2 ч и 40 мин**

8. **1 ч и 20 мин**