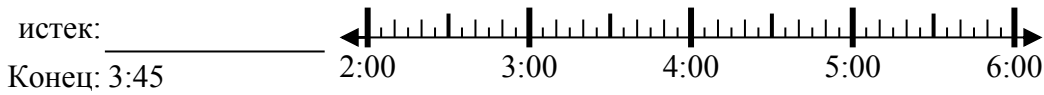




Решите каждую задачу.

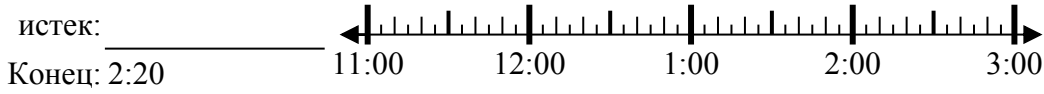
**Ответы**

1) Начало: 2:00



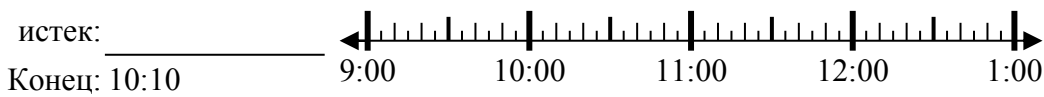
1. \_\_\_\_\_

2) Начало: 11:35



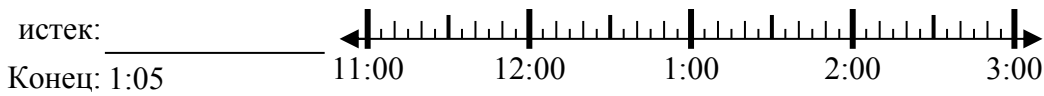
2. \_\_\_\_\_

3) Начало: 9:00



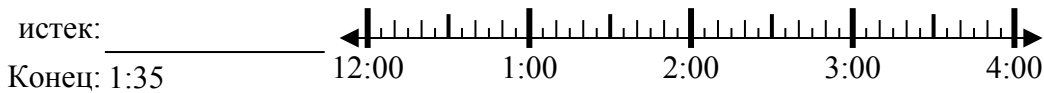
3. \_\_\_\_\_

4) Начало: 11:45



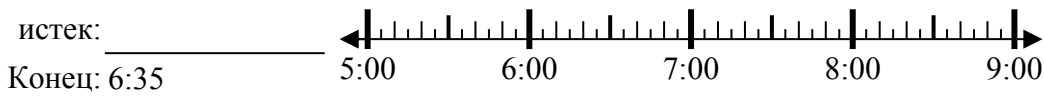
4. \_\_\_\_\_

5) Начало: 12:20



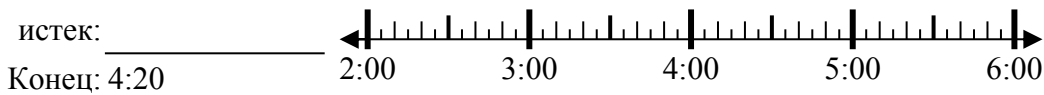
5. \_\_\_\_\_

6) Начало: 5:25



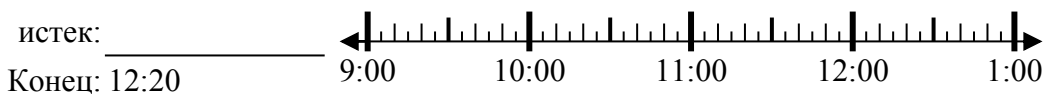
6. \_\_\_\_\_

7) Начало: 2:35



7. \_\_\_\_\_

8) Начало: 9:35



8. \_\_\_\_\_

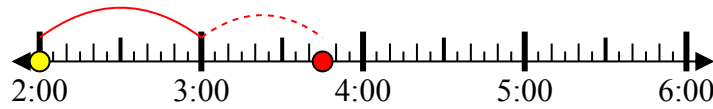


Решите каждую задачу.

1) Начало: 2:00

истек: **1 ч и 45 мин**

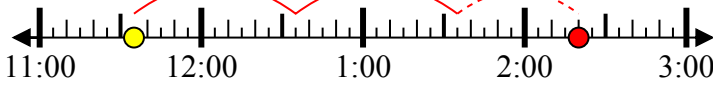
Конец: 3:45



2) Начало: 11:35

истек: **2 ч и 45 мин**

Конец: 2:20



3) Начало: 9:00

истек: **1 ч и 10 мин**

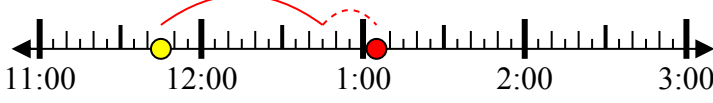
Конец: 10:10



4) Начало: 11:45

истек: **1 ч и 20 мин**

Конец: 1:05



5) Начало: 12:20

истек: **1 ч и 15 мин**

Конец: 1:35



6) Начало: 5:25

истек: **1 ч и 10 мин**

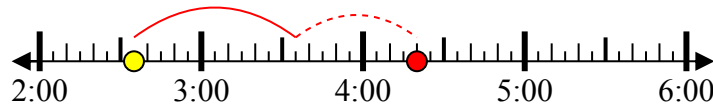
Конец: 6:35



7) Начало: 2:35

истек: **1 ч и 45 мин**

Конец: 4:20



8) Начало: 9:35

истек: **2 ч и 45 мин**

Конец: 12:20



**ОТВЕТЫ**

1. **1 ч и 45 мин**

2. **2 ч и 45 мин**

3. **1 ч и 10 мин**

4. **1 ч и 20 мин**

5. **1 ч и 15 мин**

6. **1 ч и 10 мин**

7. **1 ч и 45 мин**

8. **2 ч и 45 мин**