



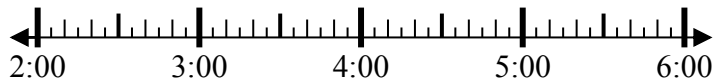
Решите каждую задачу.

**Ответы**

1) Начало: 2:50

истек: \_\_\_\_\_

Конец: 5:40

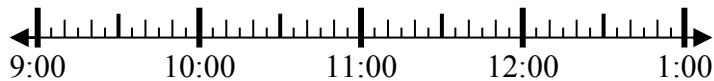


1. \_\_\_\_\_

2) Начало: 9:10

истек: \_\_\_\_\_

Конец: 10:20



2. \_\_\_\_\_

3) Начало: 7:05

истек: \_\_\_\_\_

Конец: 8:20

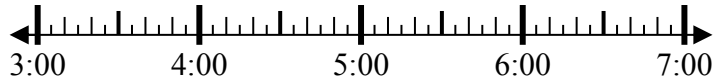


3. \_\_\_\_\_

4) Начало: 3:00

истек: \_\_\_\_\_

Конец: 4:15



4. \_\_\_\_\_

5) Начало: 7:15

истек: \_\_\_\_\_

Конец: 8:55



5. \_\_\_\_\_

6) Начало: 5:00

истек: \_\_\_\_\_

Конец: 7:15



6. \_\_\_\_\_

7) Начало: 1:00

истек: \_\_\_\_\_

Конец: 3:45

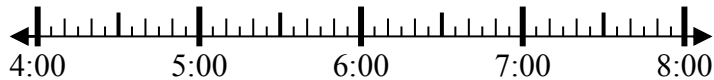


7. \_\_\_\_\_

8) Начало: 4:35

истек: \_\_\_\_\_

Конец: 5:55



8. \_\_\_\_\_

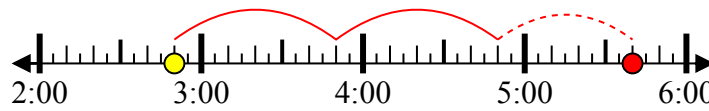


Решите каждую задачу.

1) Начало: 2:50

истек: **2 ч и 50 мин**

Конец: 5:40



2) Начало: 9:10

истек: **1 ч и 10 мин**

Конец: 10:20



3) Начало: 7:05

истек: **1 ч и 15 мин**

Конец: 8:20



4) Начало: 3:00

истек: **1 ч и 15 мин**

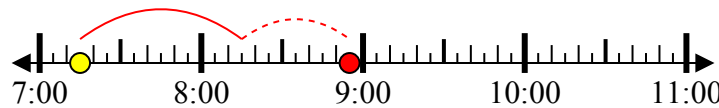
Конец: 4:15



5) Начало: 7:15

истек: **1 ч и 40 мин**

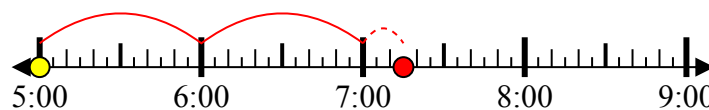
Конец: 8:55



6) Начало: 5:00

истек: **2 ч и 15 мин**

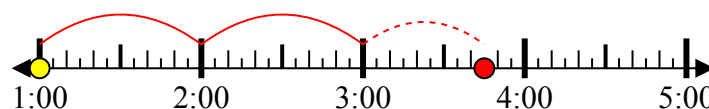
Конец: 7:15



7) Начало: 1:00

истек: **2 ч и 45 мин**

Конец: 3:45



8) Начало: 4:35

истек: **1 ч и 20 мин**

Конец: 5:55



**ОТВЕТЫ**

1. **2 ч и 50 мин**

2. **1 ч и 10 мин**

3. **1 ч и 15 мин**

4. **1 ч и 15 мин**

5. **1 ч и 40 мин**

6. **2 ч и 15 мин**

7. **2 ч и 45 мин**

8. **1 ч и 20 мин**