



Решите каждую задачу.

Ответы

1) Начало: 7:05

истек: _____

Конец: 9:25



1. _____

2) Начало: 5:25

истек: _____

Конец: 7:45



2. _____

3) Начало: 4:15

истек: _____

Конец: 5:50



3. _____

4) Начало: 12:05

истек: _____

Конец: 2:45

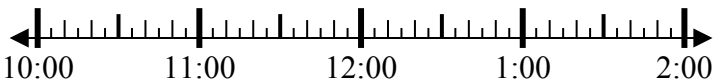


4. _____

5) Начало: 10:05

истек: _____

Конец: 11:50



5. _____

6) Начало: 11:45

истек: _____

Конец: 2:00



6. _____

7) Начало: 5:25

истек: _____

Конец: 7:05



7. _____

8) Начало: 1:25

истек: _____

Конец: 2:40



8. _____

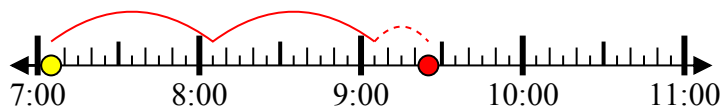


Решите каждую задачу.

1) Начало: 7:05

истек: 2 ч и 20 мин

Конец: 9:25



2) Начало: 5:25

истек: 2 ч и 20 мин

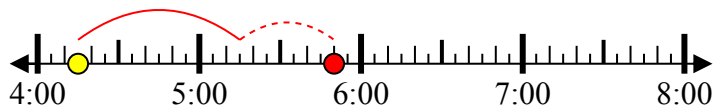
Конец: 7:45



3) Начало: 4:15

истек: 1 ч и 35 мин

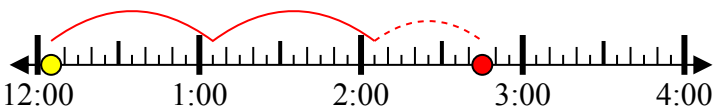
Конец: 5:50



4) Начало: 12:05

истек: 2 ч и 40 мин

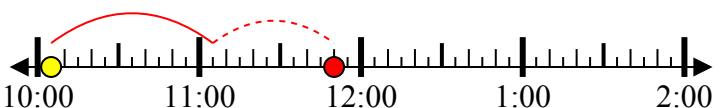
Конец: 2:45



5) Начало: 10:05

истек: 1 ч и 45 мин

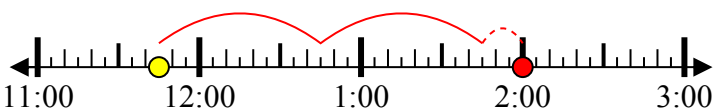
Конец: 11:50



6) Начало: 11:45

истек: 2 ч и 15 мин

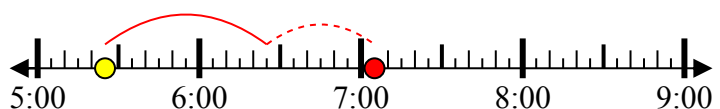
Конец: 2:00



7) Начало: 5:25

истек: 1 ч и 40 мин

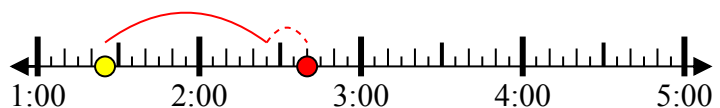
Конец: 7:05



8) Начало: 1:25

истек: 1 ч и 15 мин

Конец: 2:40



ОТВЕТЫ

1. 2 ч и 20 мин

2. 2 ч и 20 мин

3. 1 ч и 35 мин

4. 2 ч и 40 мин

5. 1 ч и 45 мин

6. 2 ч и 15 мин

7. 1 ч и 40 мин

8. 1 ч и 15 мин