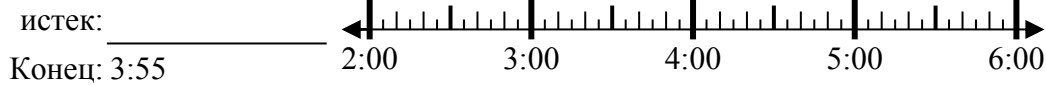




Решите каждую задачу.

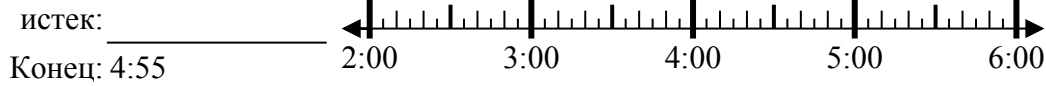
Ответы

1) Начало: 2:15



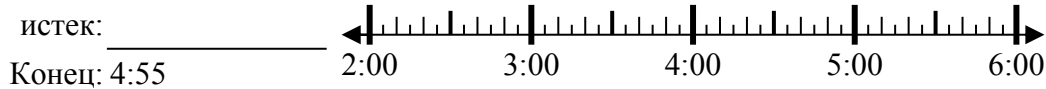
1. _____

2) Начало: 2:10



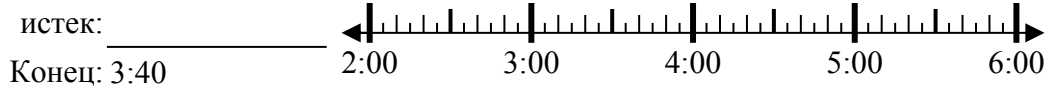
2. _____

3) Начало: 2:45



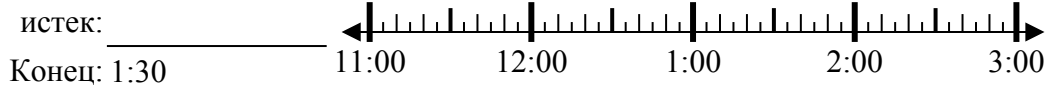
3. _____

4) Начало: 2:20



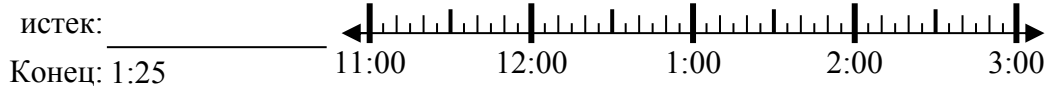
4. _____

5) Начало: 11:05



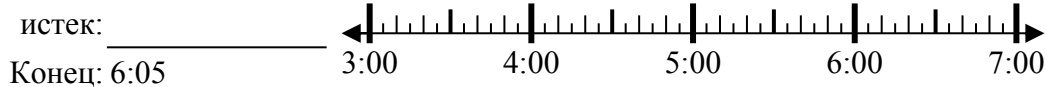
5. _____

6) Начало: 11:05



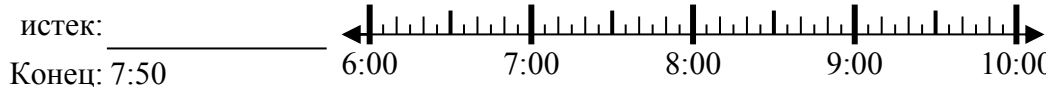
6. _____

7) Начало: 3:45



7. _____

8) Начало: 6:20



8. _____

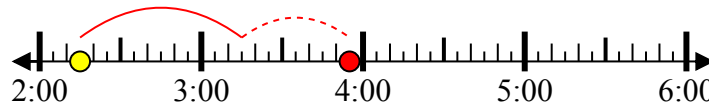


Решите каждую задачу.

1) Начало: 2:15

истек: **1 ч и 40 мин**

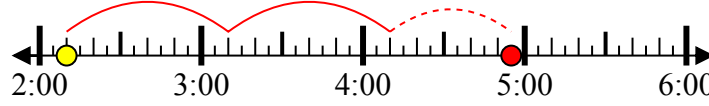
Конец: 3:55



2) Начало: 2:10

истек: **2 ч и 45 мин**

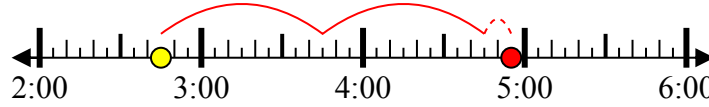
Конец: 4:55



3) Начало: 2:45

истек: **2 ч и 10 мин**

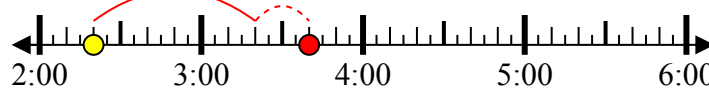
Конец: 4:55



4) Начало: 2:20

истек: **1 ч и 20 мин**

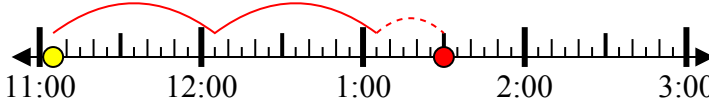
Конец: 3:40



5) Начало: 11:05

истек: **2 ч и 25 мин**

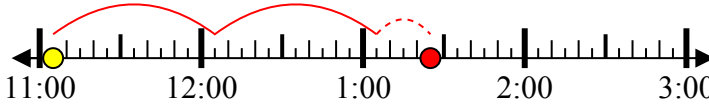
Конец: 1:30



6) Начало: 11:05

истек: **2 ч и 20 мин**

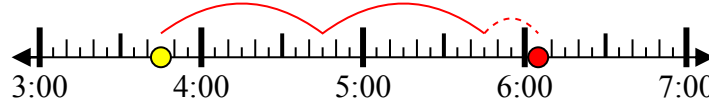
Конец: 1:25



7) Начало: 3:45

истек: **2 ч и 20 мин**

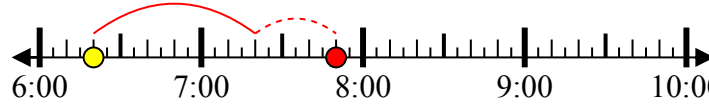
Конец: 6:05



8) Начало: 6:20

истек: **1 ч и 30 мин**

Конец: 7:50



ОТВЕТЫ

1. **1 ч и 40 мин**

2. **2 ч и 45 мин**

3. **2 ч и 10 мин**

4. **1 ч и 20 мин**

5. **2 ч и 25 мин**

6. **2 ч и 20 мин**

7. **2 ч и 20 мин**

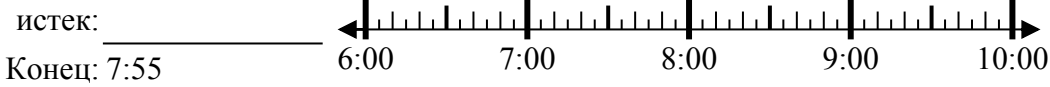
8. **1 ч и 30 мин**



Решите каждую задачу.

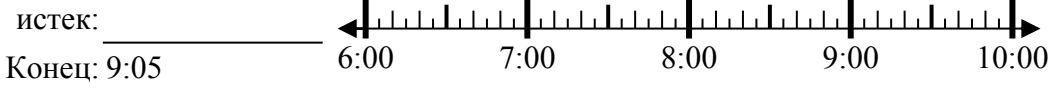
Ответы

1) Начало: 6:45



1. _____

2) Начало: 6:25



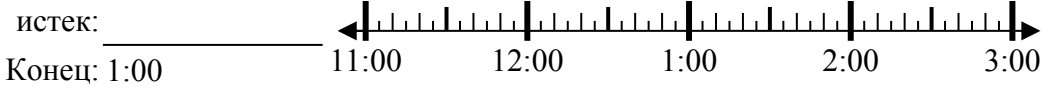
2. _____

3) Начало: 1:10



3. _____

4) Начало: 11:15



4. _____

5) Начало: 3:25



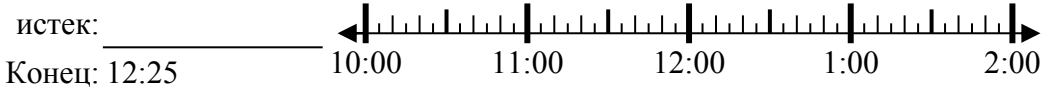
5. _____

6) Начало: 3:20



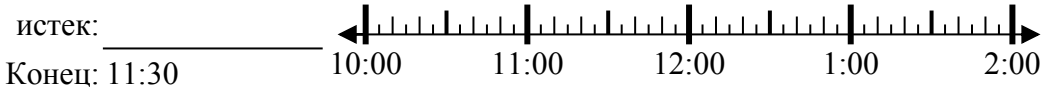
6. _____

7) Начало: 10:35



7. _____

8) Начало: 10:00



8. _____



Решите каждую задачу.

1) Начало: 6:45

истек: **1 ч и 10 мин**

Конец: 7:55



2) Начало: 6:25

истек: **2 ч и 40 мин**

Конец: 9:05



3) Начало: 1:10

истек: **1 ч и 50 мин**

Конец: 3:00



4) Начало: 11:15

истек: **1 ч и 45 мин**

Конец: 1:00



5) Начало: 3:25

истек: **2 ч и 10 мин**

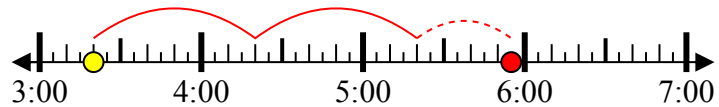
Конец: 5:35



6) Начало: 3:20

истек: **2 ч и 35 мин**

Конец: 5:55



7) Начало: 10:35

истек: **1 ч и 50 мин**

Конец: 12:25



8) Начало: 10:00

истек: **1 ч и 30 мин**

Конец: 11:30



ОТВЕТЫ

1. **1 ч и 10 мин**

2. **2 ч и 40 мин**

3. **1 ч и 50 мин**

4. **1 ч и 45 мин**

5. **2 ч и 10 мин**

6. **2 ч и 35 мин**

7. **1 ч и 50 мин**

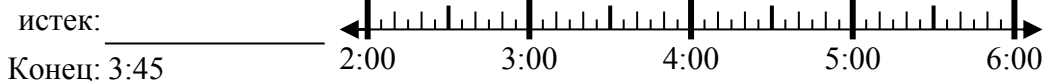
8. **1 ч и 30 мин**



Решите каждую задачу.

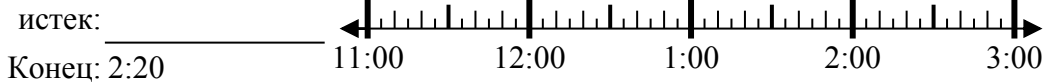
Ответы

1) Начало: 2:00



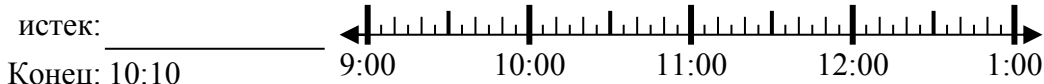
1. _____

2) Начало: 11:35



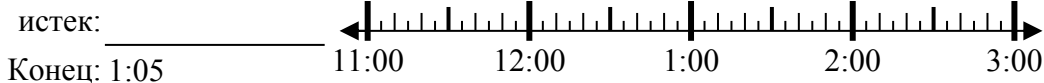
2. _____

3) Начало: 9:00



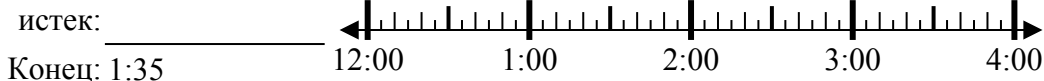
3. _____

4) Начало: 11:45



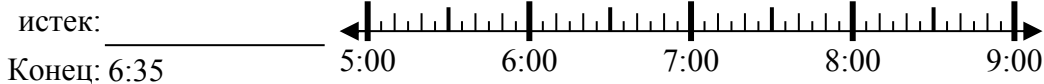
4. _____

5) Начало: 12:20



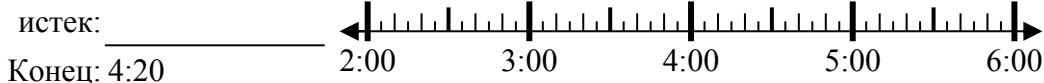
5. _____

6) Начало: 5:25



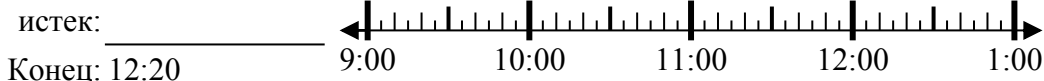
6. _____

7) Начало: 2:35



7. _____

8) Начало: 9:35



8. _____

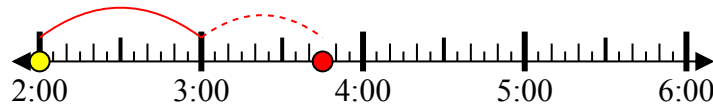


Решите каждую задачу.

1) Начало: 2:00

истек: **1 ч и 45 мин**

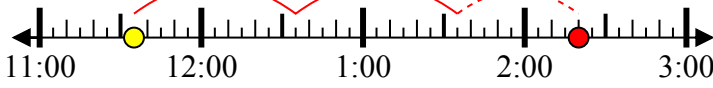
Конец: 3:45



2) Начало: 11:35

истек: **2 ч и 45 мин**

Конец: 2:20



3) Начало: 9:00

истек: **1 ч и 10 мин**

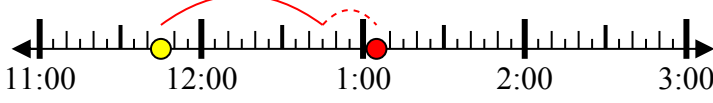
Конец: 10:10



4) Начало: 11:45

истек: **1 ч и 20 мин**

Конец: 1:05



5) Начало: 12:20

истек: **1 ч и 15 мин**

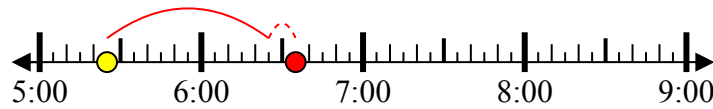
Конец: 1:35



6) Начало: 5:25

истек: **1 ч и 10 мин**

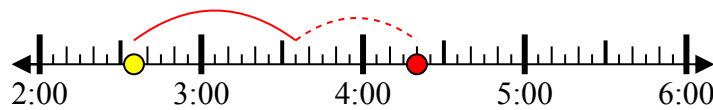
Конец: 6:35



7) Начало: 2:35

истек: **1 ч и 45 мин**

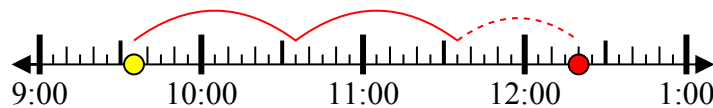
Конец: 4:20



8) Начало: 9:35

истек: **2 ч и 45 мин**

Конец: 12:20



ОТВЕТЫ

1. **1 ч и 45 мин**

2. **2 ч и 45 мин**

3. **1 ч и 10 мин**

4. **1 ч и 20 мин**

5. **1 ч и 15 мин**

6. **1 ч и 10 мин**

7. **1 ч и 45 мин**

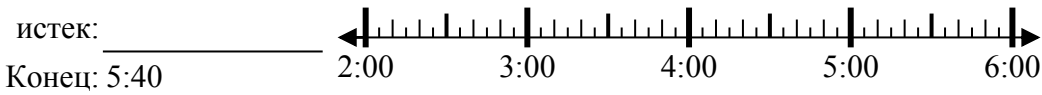
8. **2 ч и 45 мин**



Решите каждую задачу.

Ответы

1) Начало: 2:50



1. _____

2) Начало: 9:10



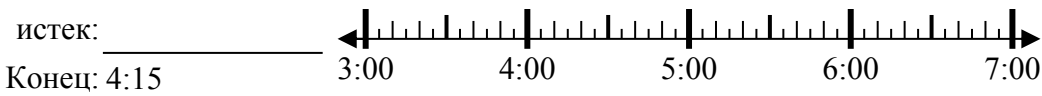
2. _____

3) Начало: 7:05



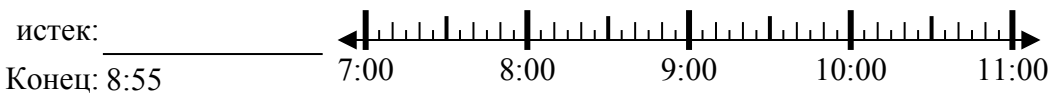
3. _____

4) Начало: 3:00



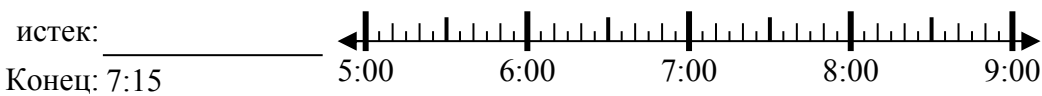
4. _____

5) Начало: 7:15



5. _____

6) Начало: 5:00



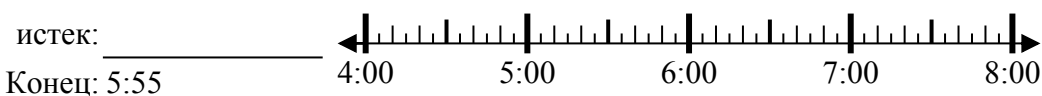
6. _____

7) Начало: 1:00



7. _____

8) Начало: 4:35



8. _____

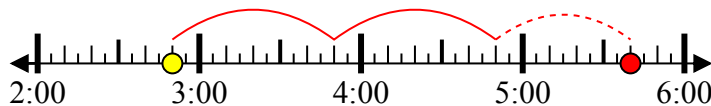


Решите каждую задачу.

1) Начало: 2:50

истек: **2 ч и 50 мин**

Конец: 5:40



2) Начало: 9:10

истек: **1 ч и 10 мин**

Конец: 10:20



3) Начало: 7:05

истек: **1 ч и 15 мин**

Конец: 8:20



4) Начало: 3:00

истек: **1 ч и 15 мин**

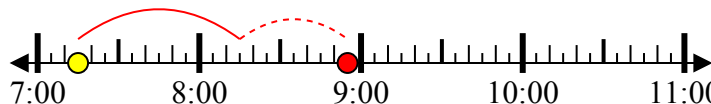
Конец: 4:15



5) Начало: 7:15

истек: **1 ч и 40 мин**

Конец: 8:55



6) Начало: 5:00

истек: **2 ч и 15 мин**

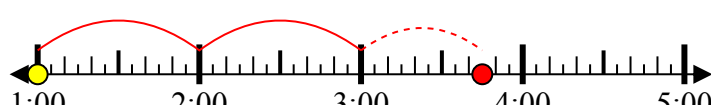
Конец: 7:15



7) Начало: 1:00

истек: **2 ч и 45 мин**

Конец: 3:45



8) Начало: 4:35

истек: **1 ч и 20 мин**

Конец: 5:55



ОТВЕТЫ

1. **2 ч и 50 мин**

2. **1 ч и 10 мин**

3. **1 ч и 15 мин**

4. **1 ч и 15 мин**

5. **1 ч и 40 мин**

6. **2 ч и 15 мин**

7. **2 ч и 45 мин**

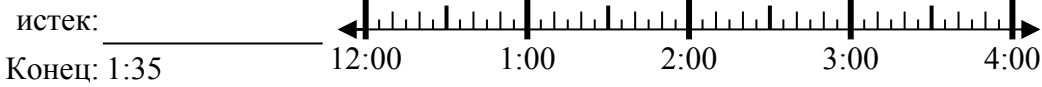
8. **1 ч и 20 мин**



Решите каждую задачу.

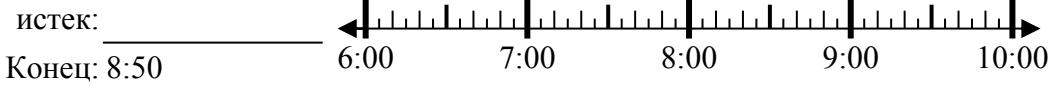
Ответы

1) Начало: 12:10



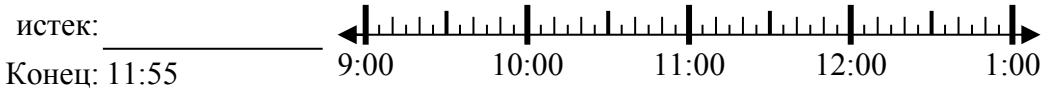
1. _____

2) Начало: 6:40



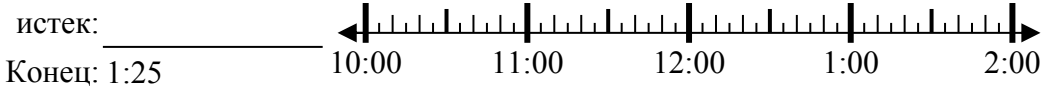
2. _____

3) Начало: 9:05



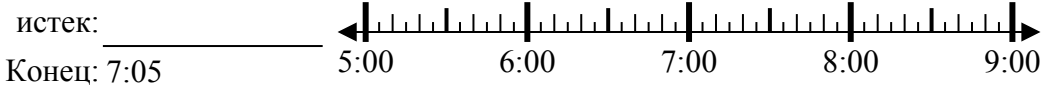
3. _____

4) Начало: 10:45



4. _____

5) Начало: 5:35



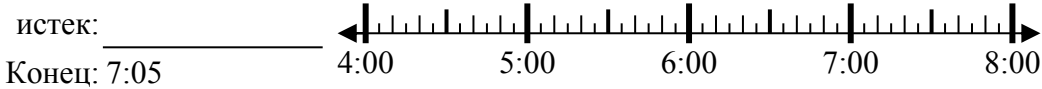
5. _____

6) Начало: 8:15



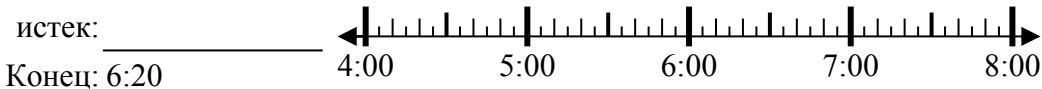
6. _____

7) Начало: 4:10



7. _____

8) Начало: 4:00



8. _____



Решите каждую задачу.

1) Начало: 12:10

истек: **1 ч и 25 мин**

Конец: 1:35



2) Начало: 6:40

истек: **2 ч и 10 мин**

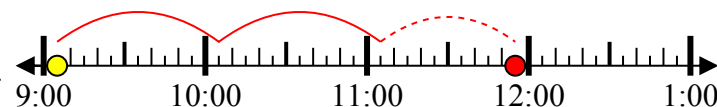
Конец: 8:50



3) Начало: 9:05

истек: **2 ч и 50 мин**

Конец: 11:55



4) Начало: 10:45

истек: **2 ч и 40 мин**

Конец: 1:25



5) Начало: 5:35

истек: **1 ч и 30 мин**

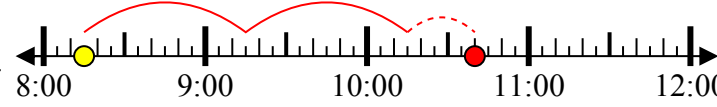
Конец: 7:05



6) Начало: 8:15

истек: **2 ч и 25 мин**

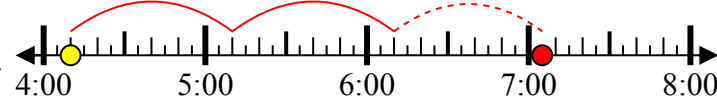
Конец: 10:40



7) Начало: 4:10

истек: **2 ч и 55 мин**

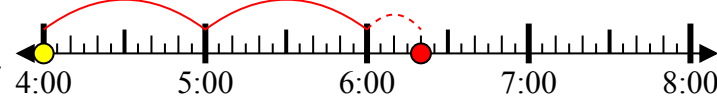
Конец: 7:05



8) Начало: 4:00

истек: **2 ч и 20 мин**

Конец: 6:20



ОТВЕТЫ

1. **1 ч и 25 мин**

2. **2 ч и 10 мин**

3. **2 ч и 50 мин**

4. **2 ч и 40 мин**

5. **1 ч и 30 мин**

6. **2 ч и 25 мин**

7. **2 ч и 55 мин**

8. **2 ч и 20 мин**



Решите каждую задачу.

Ответы

1) Начало: 9:35



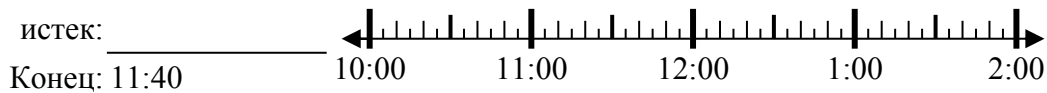
1. _____

2) Начало: 12:50



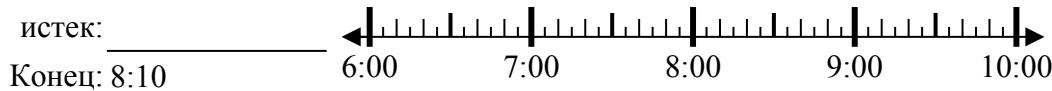
2. _____

3) Начало: 10:15



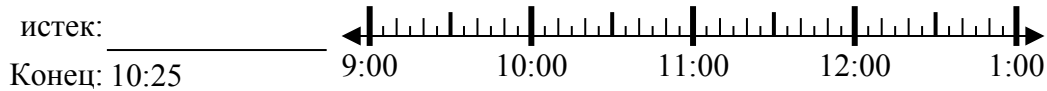
3. _____

4) Начало: 6:25



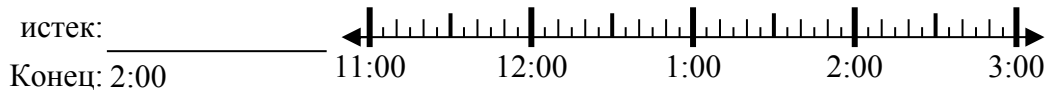
4. _____

5) Начало: 9:10



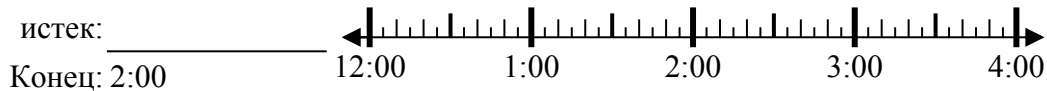
5. _____

6) Начало: 11:45



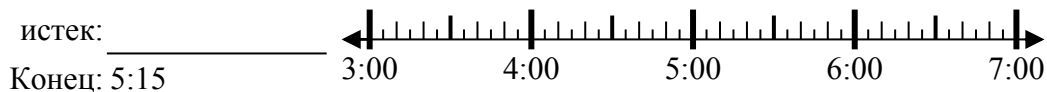
6. _____

7) Начало: 12:20



7. _____

8) Начало: 3:35



8. _____

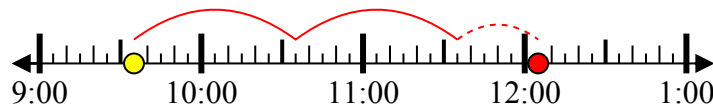


Решите каждую задачу.

1) Начало: 9:35

истек: 2 ч и 30 мин

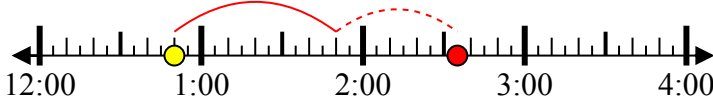
Конец: 12:05



2) Начало: 12:50

истек: 1 ч и 45 мин

Конец: 2:35



3) Начало: 10:15

истек: 1 ч и 25 мин

Конец: 11:40



4) Начало: 6:25

истек: 1 ч и 45 мин

Конец: 8:10



5) Начало: 9:10

истек: 1 ч и 15 мин

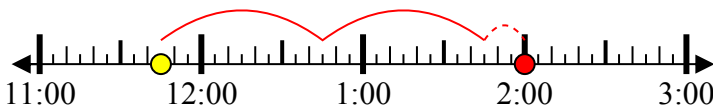
Конец: 10:25



6) Начало: 11:45

истек: 2 ч и 15 мин

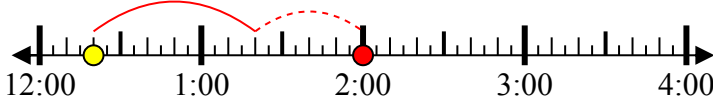
Конец: 2:00



7) Начало: 12:20

истек: 1 ч и 40 мин

Конец: 2:00



8) Начало: 3:35

истек: 1 ч и 40 мин

Конец: 5:15



ОТВЕТЫ

1. 2 ч и 30 мин

2. 1 ч и 45 мин

3. 1 ч и 25 мин

4. 1 ч и 45 мин

5. 1 ч и 15 мин

6. 2 ч и 15 мин

7. 1 ч и 40 мин

8. 1 ч и 40 мин



Решите каждую задачу.

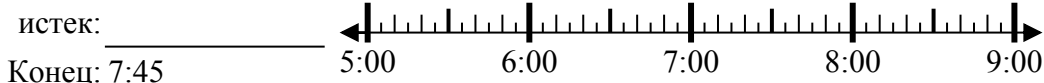
Ответы

1) Начало: 7:05



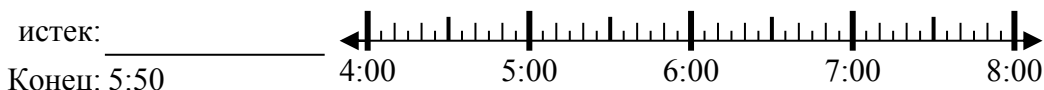
1. _____

2) Начало: 5:25



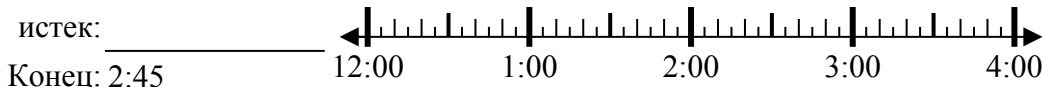
2. _____

3) Начало: 4:15



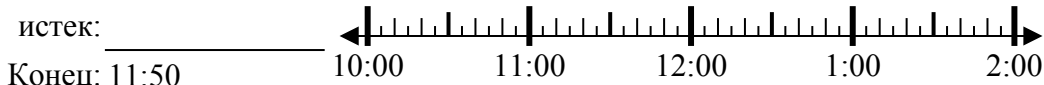
3. _____

4) Начало: 12:05



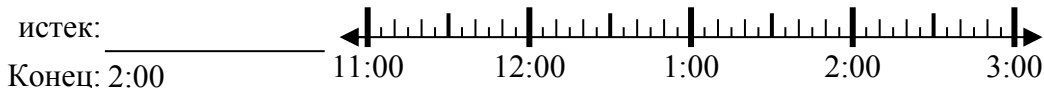
4. _____

5) Начало: 10:05



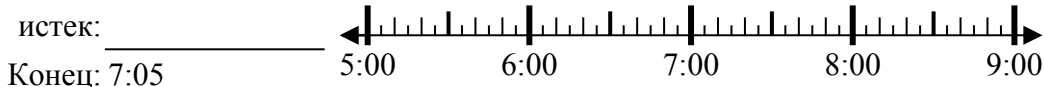
5. _____

6) Начало: 11:45



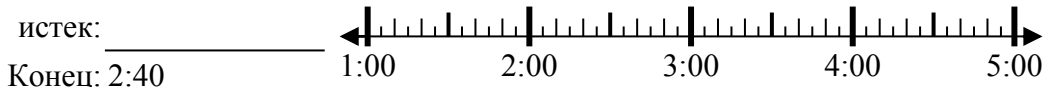
6. _____

7) Начало: 5:25



7. _____

8) Начало: 1:25



8. _____

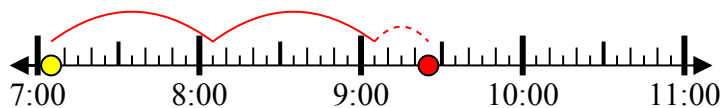


Решите каждую задачу.

1) Начало: 7:05

истек: 2 ч и 20 мин

Конец: 9:25



2) Начало: 5:25

истек: 2 ч и 20 мин

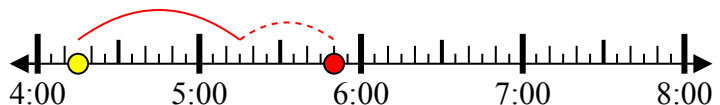
Конец: 7:45



3) Начало: 4:15

истек: 1 ч и 35 мин

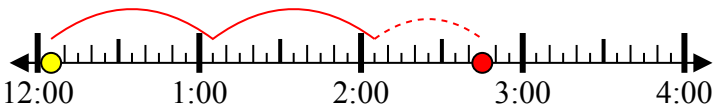
Конец: 5:50



4) Начало: 12:05

истек: 2 ч и 40 мин

Конец: 2:45



5) Начало: 10:05

истек: 1 ч и 45 мин

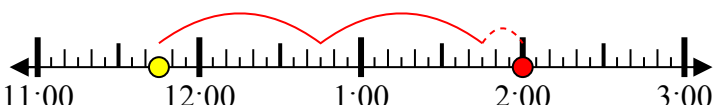
Конец: 11:50



6) Начало: 11:45

истек: 2 ч и 15 мин

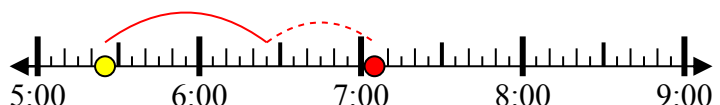
Конец: 2:00



7) Начало: 5:25

истек: 1 ч и 40 мин

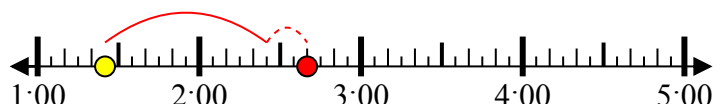
Конец: 7:05



8) Начало: 1:25

истек: 1 ч и 15 мин

Конец: 2:40



ОТВЕТЫ

1. 2 ч и 20 мин

2. 2 ч и 20 мин

3. 1 ч и 35 мин

4. 2 ч и 40 мин

5. 1 ч и 45 мин

6. 2 ч и 15 мин

7. 1 ч и 40 мин

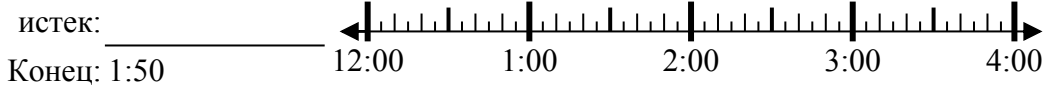
8. 1 ч и 15 мин



Решите каждую задачу.

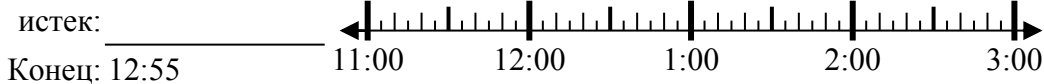
Ответы

1) Начало: 12:15



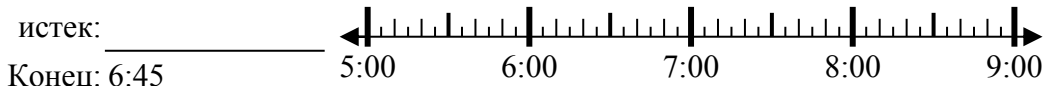
1. _____

2) Начало: 11:30



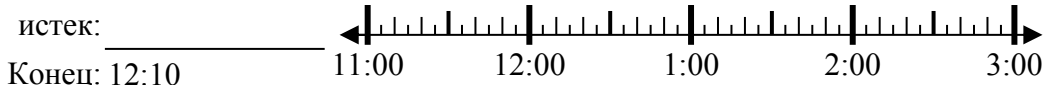
2. _____

3) Начало: 5:10



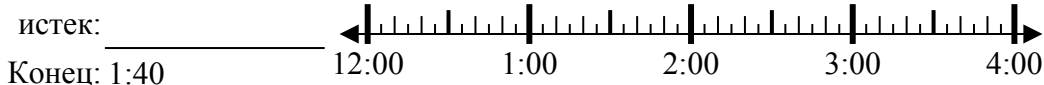
3. _____

4) Начало: 11:00



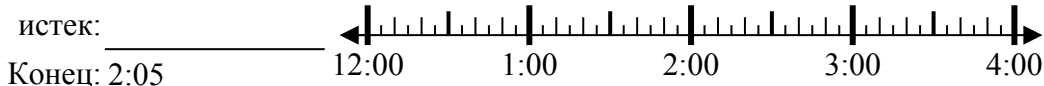
4. _____

5) Начало: 12:30



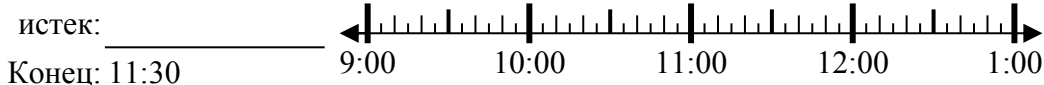
5. _____

6) Начало: 12:40



6. _____

7) Начало: 9:40



7. _____

8) Начало: 1:35



8. _____



Решите каждую задачу.

1) Начало: 12:15

истек: **1 ч и 35 мин**

Конец: 1:50



2) Начало: 11:30

истек: **1 ч и 25 мин**

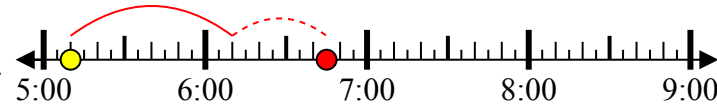
Конец: 12:55



3) Начало: 5:10

истек: **1 ч и 35 мин**

Конец: 6:45



4) Начало: 11:00

истек: **1 ч и 10 мин**

Конец: 12:10



5) Начало: 12:30

истек: **1 ч и 10 мин**

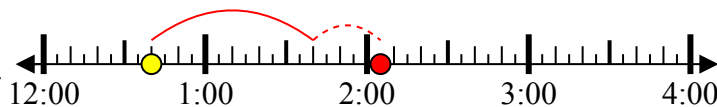
Конец: 1:40



6) Начало: 12:40

истек: **1 ч и 25 мин**

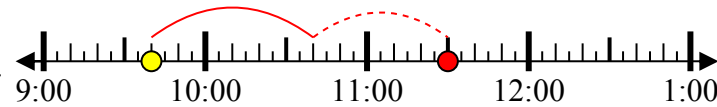
Конец: 2:05



7) Начало: 9:40

истек: **1 ч и 50 мин**

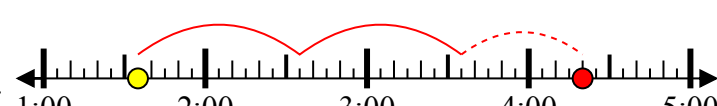
Конец: 11:30



8) Начало: 1:35

истек: **2 ч и 45 мин**

Конец: 4:20



ОТВЕТЫ

1. **1 ч и 35 мин**

2. **1 ч и 25 мин**

3. **1 ч и 35 мин**

4. **1 ч и 10 мин**

5. **1 ч и 10 мин**

6. **1 ч и 25 мин**

7. **1 ч и 50 мин**

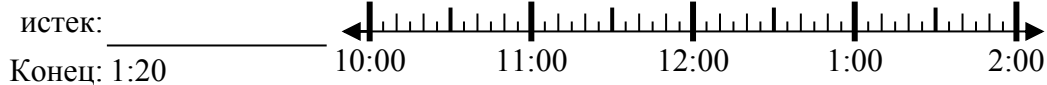
8. **2 ч и 45 мин**



Решите каждую задачу.

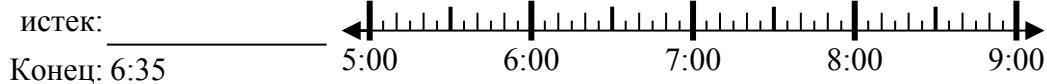
Ответы

1) Начало: 10:50



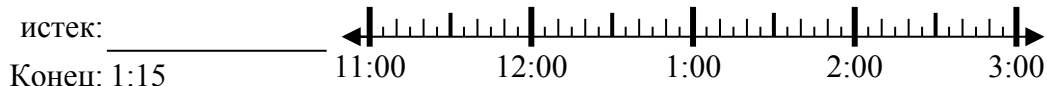
1. _____

2) Начало: 5:10



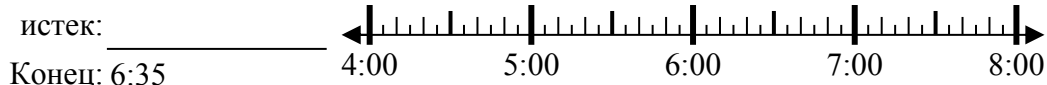
2. _____

3) Начало: 11:40



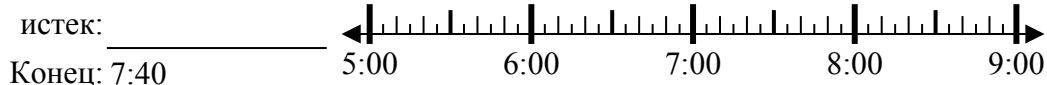
3. _____

4) Начало: 4:20



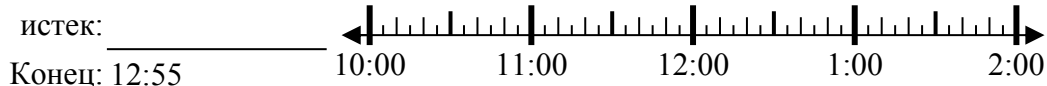
4. _____

5) Начало: 5:15



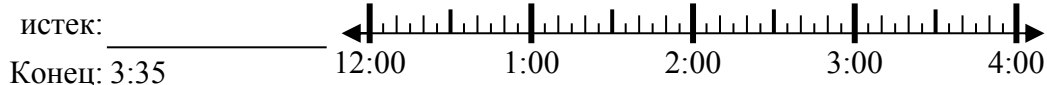
5. _____

6) Начало: 10:20



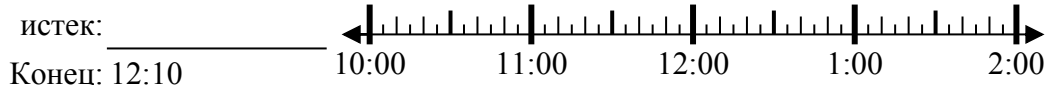
6. _____

7) Начало: 12:45



7. _____

8) Начало: 10:40



8. _____

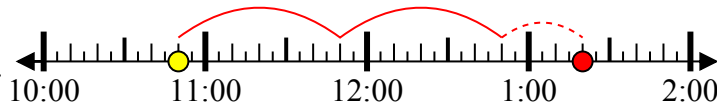


Решите каждую задачу.

1) Начало: 10:50

истек: **2 ч и 30 мин**

Конец: 1:20



2) Начало: 5:10

истек: **1 ч и 25 мин**

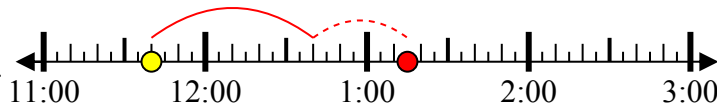
Конец: 6:35



3) Начало: 11:40

истек: **1 ч и 35 мин**

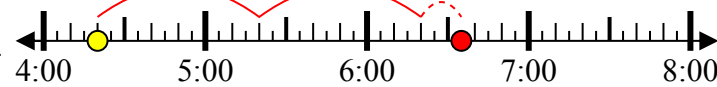
Конец: 1:15



4) Начало: 4:20

истек: **2 ч и 15 мин**

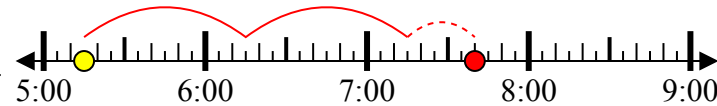
Конец: 6:35



5) Начало: 5:15

истек: **2 ч и 25 мин**

Конец: 7:40



6) Начало: 10:20

истек: **2 ч и 35 мин**

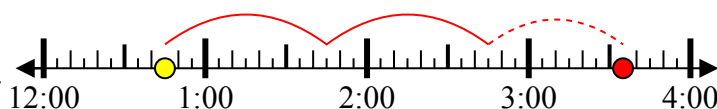
Конец: 12:55



7) Начало: 12:45

истек: **2 ч и 50 мин**

Конец: 3:35



8) Начало: 10:40

истек: **1 ч и 30 мин**

Конец: 12:10



ОТВЕТЫ

1. **2 ч и 30 мин**

2. **1 ч и 25 мин**

3. **1 ч и 35 мин**

4. **2 ч и 15 мин**

5. **2 ч и 25 мин**

6. **2 ч и 35 мин**

7. **2 ч и 50 мин**

8. **1 ч и 30 мин**



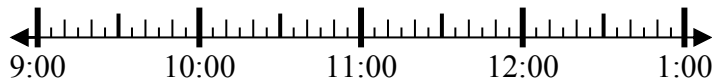
Решите каждую задачу.

Ответы

1) Начало: 9:20

истек: _____

Конец: 10:45



1. _____

2) Начало: 2:00

истек: _____

Конец: 4:55



2. _____

3) Начало: 7:40

истек: _____

Конец: 9:55



3. _____

4) Начало: 7:15

истек: _____

Конец: 8:25



4. _____

5) Начало: 11:15

истек: _____

Конец: 1:40

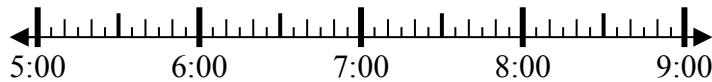


5. _____

6) Начало: 5:30

истек: _____

Конец: 6:55



6. _____

7) Начало: 12:00

истек: _____

Конец: 2:40



7. _____

8) Начало: 12:15

истек: _____

Конец: 1:35



8. _____



Решите каждую задачу.

1) Начало: 9:20

истек: **1 ч и 25 мин**

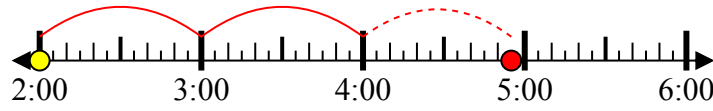
Конец: 10:45



2) Начало: 2:00

истек: **2 ч и 55 мин**

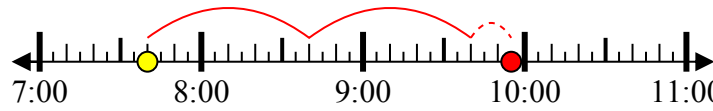
Конец: 4:55



3) Начало: 7:40

истек: **2 ч и 15 мин**

Конец: 9:55



4) Начало: 7:15

истек: **1 ч и 10 мин**

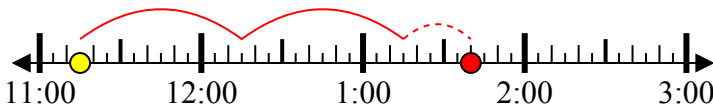
Конец: 8:25



5) Начало: 11:15

истек: **2 ч и 25 мин**

Конец: 1:40



6) Начало: 5:30

истек: **1 ч и 25 мин**

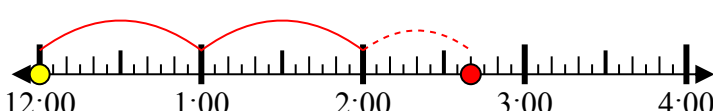
Конец: 6:55



7) Начало: 12:00

истек: **2 ч и 40 мин**

Конец: 2:40



8) Начало: 12:15

истек: **1 ч и 20 мин**

Конец: 1:35



ОТВЕТЫ

1. **1 ч и 25 мин**

2. **2 ч и 55 мин**

3. **2 ч и 15 мин**

4. **1 ч и 10 мин**

5. **2 ч и 25 мин**

6. **1 ч и 25 мин**

7. **2 ч и 40 мин**

8. **1 ч и 20 мин**