

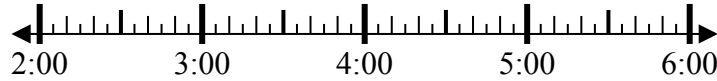


Решите каждую задачу.

1) Начало: 2:15

истек: 1 ч и 40 мин

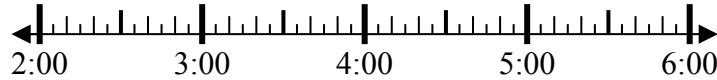
Конец: \_\_\_\_\_



2) Начало: 2:10

истек: 2 ч и 45 мин

Конец: \_\_\_\_\_



3) Начало: 2:45

истек: 2 ч и 10 мин

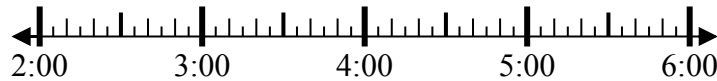
Конец: \_\_\_\_\_



4) Начало: 2:20

истек: 1 ч и 20 мин

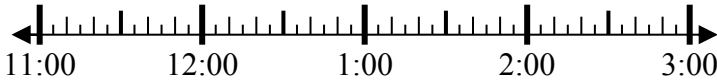
Конец: \_\_\_\_\_



5) Начало: 11:05

истек: 2 ч и 25 мин

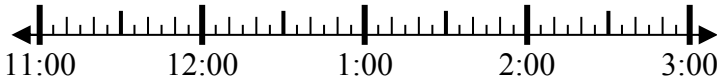
Конец: \_\_\_\_\_



6) Начало: 11:05

истек: 2 ч и 20 мин

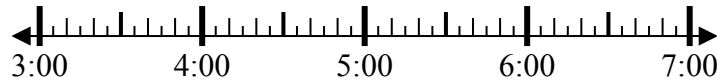
Конец: \_\_\_\_\_



7) Начало: 3:45

истек: 2 ч и 20 мин

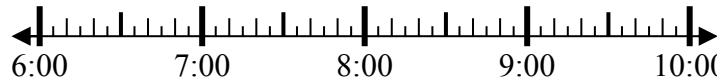
Конец: \_\_\_\_\_



8) Начало: 6:20

истек: 1 ч и 30 мин

Конец: \_\_\_\_\_



Ответы

1. \_\_\_\_\_
2. \_\_\_\_\_
3. \_\_\_\_\_
4. \_\_\_\_\_
5. \_\_\_\_\_
6. \_\_\_\_\_
7. \_\_\_\_\_
8. \_\_\_\_\_

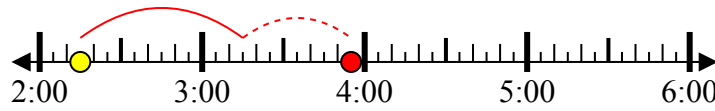


Решите каждую задачу.

1) Начало: 2:15

истек: 1 ч и 40 мин

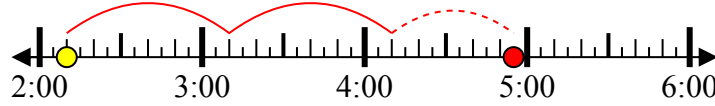
Конец: 3:55



2) Начало: 2:10

истек: 2 ч и 45 мин

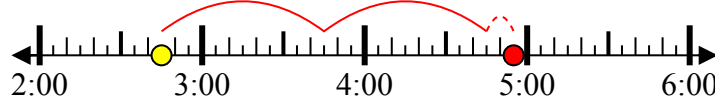
Конец: 4:55



3) Начало: 2:45

истек: 2 ч и 10 мин

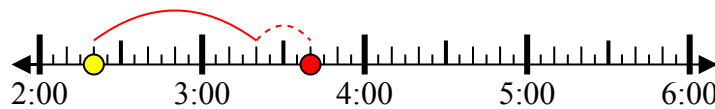
Конец: 4:55



4) Начало: 2:20

истек: 1 ч и 20 мин

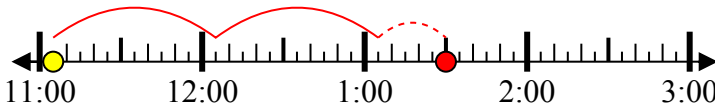
Конец: 3:40



5) Начало: 11:05

истек: 2 ч и 25 мин

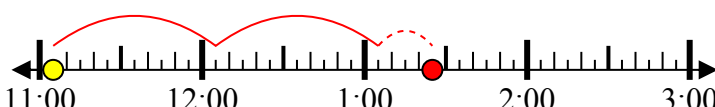
Конец: 1:30



6) Начало: 11:05

истек: 2 ч и 20 мин

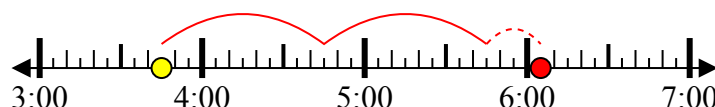
Конец: 1:25



7) Начало: 3:45

истек: 2 ч и 20 мин

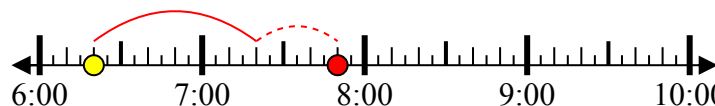
Конец: 6:05



8) Начало: 6:20

истек: 1 ч и 30 мин

Конец: 7:50



**Ответы**

1. 3:55

2. 4:55

3. 4:55

4. 3:40

5. 1:30

6. 1:25

7. 6:05

8. 7:50