



Решите каждую задачу.

1) Начало: 6:45

истек: 1 ч и 10 мин

Конец: _____



2) Начало: 6:25

истек: 2 ч и 40 мин

Конец: _____



3) Начало: 1:10

истек: 1 ч и 50 мин

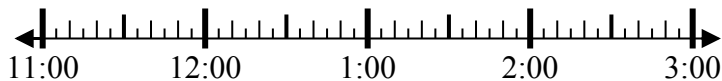
Конец: _____



4) Начало: 11:15

истек: 1 ч и 45 мин

Конец: _____



5) Начало: 3:25

истек: 2 ч и 10 мин

Конец: _____



6) Начало: 3:20

истек: 2 ч и 35 мин

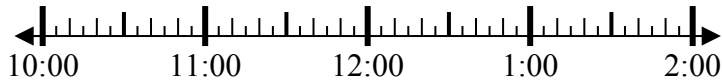
Конец: _____



7) Начало: 10:35

истек: 1 ч и 50 мин

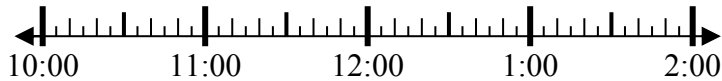
Конец: _____



8) Начало: 10:00

истек: 1 ч и 30 мин

Конец: _____



Ответы

1. _____
2. _____
3. _____
4. _____
5. _____
6. _____
7. _____
8. _____

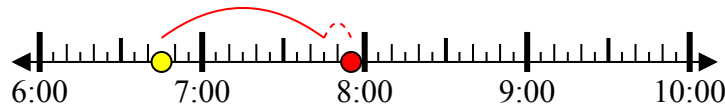


Решите каждую задачу.

1) Начало: 6:45

истек: 1 ч и 10 мин

Конец: 7:55



2) Начало: 6:25

истек: 2 ч и 40 мин

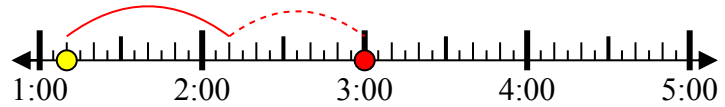
Конец: 9:05



3) Начало: 1:10

истек: 1 ч и 50 мин

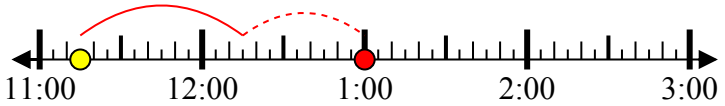
Конец: 3:00



4) Начало: 11:15

истек: 1 ч и 45 мин

Конец: 1:00



5) Начало: 3:25

истек: 2 ч и 10 мин

Конец: 5:35



6) Начало: 3:20

истек: 2 ч и 35 мин

Конец: 5:55



7) Начало: 10:35

истек: 1 ч и 50 мин

Конец: 12:25



8) Начало: 10:00

истек: 1 ч и 30 мин

Конец: 11:30



Ответы

1. 7:55

2. 9:05

3. 3:00

4. 1:00

5. 5:35

6. 5:55

7. 12:25

8. 11:30