



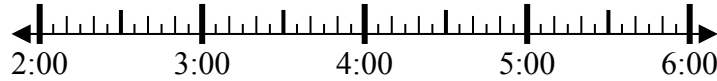
Решите каждую задачу.

Ответы

1) Начало: 2:50

истек: 2 ч и 50 мин

Конец: _____

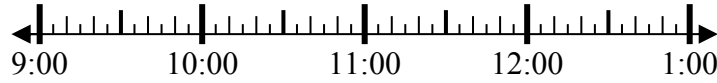


1. _____

2) Начало: 9:10

истек: 1 ч и 10 мин

Конец: _____



2. _____

3) Начало: 7:05

истек: 1 ч и 15 мин

Конец: _____

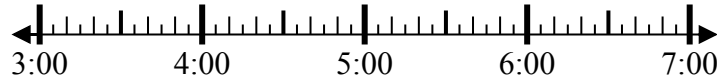


3. _____

4) Начало: 3:00

истек: 1 ч и 15 мин

Конец: _____

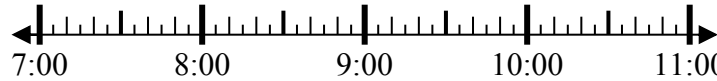


4. _____

5) Начало: 7:15

истек: 1 ч и 40 мин

Конец: _____

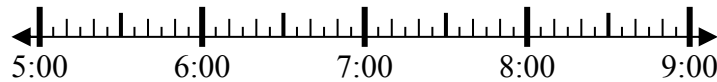


5. _____

6) Начало: 5:00

истек: 2 ч и 15 мин

Конец: _____

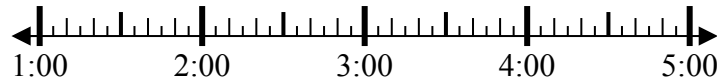


6. _____

7) Начало: 1:00

истек: 2 ч и 45 мин

Конец: _____

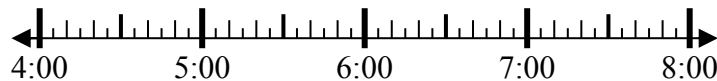


7. _____

8) Начало: 4:35

истек: 1 ч и 20 мин

Конец: _____



8. _____

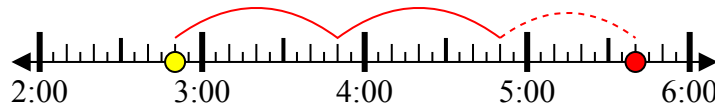


Решите каждую задачу.

1) Начало: 2:50

истек: 2 ч и 50 мин

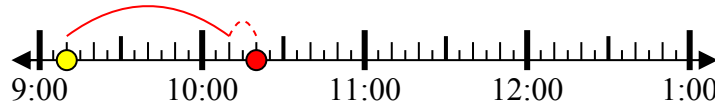
Конец: 5:40



2) Начало: 9:10

истек: 1 ч и 10 мин

Конец: 10:20



3) Начало: 7:05

истек: 1 ч и 15 мин

Конец: 8:20



4) Начало: 3:00

истек: 1 ч и 15 мин

Конец: 4:15



5) Начало: 7:15

истек: 1 ч и 40 мин

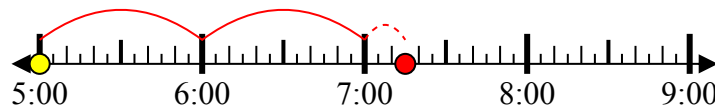
Конец: 8:55



6) Начало: 5:00

истек: 2 ч и 15 мин

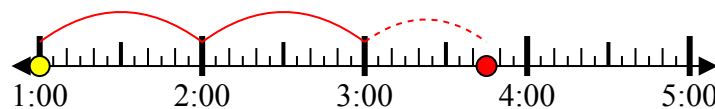
Конец: 7:15



7) Начало: 1:00

истек: 2 ч и 45 мин

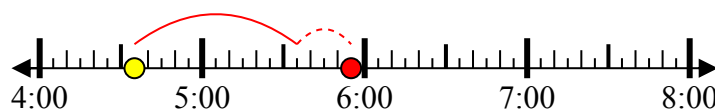
Конец: 3:45



8) Начало: 4:35

истек: 1 ч и 20 мин

Конец: 5:55



Отвeты

1. 5:40

2. 10:20

3. 8:20

4. 4:15

5. 8:55

6. 7:15

7. 3:45

8. 5:55