



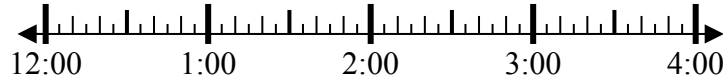
Решите каждую задачу.

Ответы

1) Начало: 12:10

истек: 1 ч и 25 мин

Конец: _____

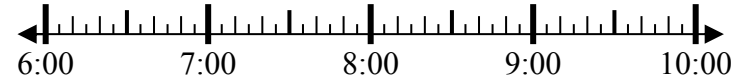


1. _____

2) Начало: 6:40

истек: 2 ч и 10 мин

Конец: _____

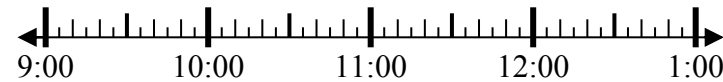


2. _____

3) Начало: 9:05

истек: 2 ч и 50 мин

Конец: _____

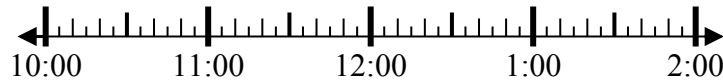


3. _____

4) Начало: 10:45

истек: 2 ч и 40 мин

Конец: _____

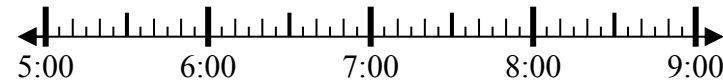


4. _____

5) Начало: 5:35

истек: 1 ч и 30 мин

Конец: _____

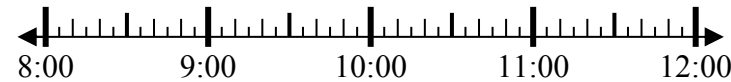


5. _____

6) Начало: 8:15

истек: 2 ч и 25 мин

Конец: _____



6. _____

7) Начало: 4:10

истек: 2 ч и 55 мин

Конец: _____

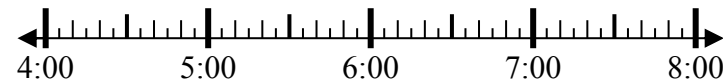


7. _____

8) Начало: 4:00

истек: 2 ч и 20 мин

Конец: _____



8. _____



Решите каждую задачу.

1) Начало: 12:10

истек: 1 ч и 25 мин

Конец: 1:35



2) Начало: 6:40

истек: 2 ч и 10 мин

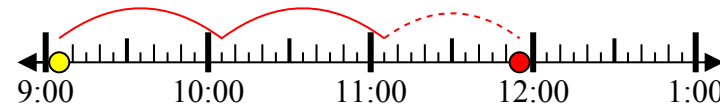
Конец: 8:50



3) Начало: 9:05

истек: 2 ч и 50 мин

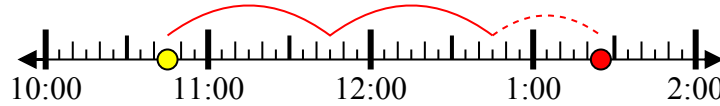
Конец: 11:55



4) Начало: 10:45

истек: 2 ч и 40 мин

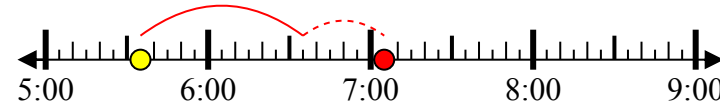
Конец: 1:25



5) Начало: 5:35

истек: 1 ч и 30 мин

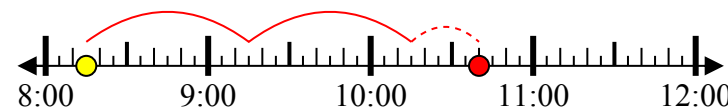
Конец: 7:05



6) Начало: 8:15

истек: 2 ч и 25 мин

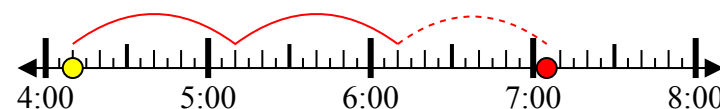
Конец: 10:40



7) Начало: 4:10

истек: 2 ч и 55 мин

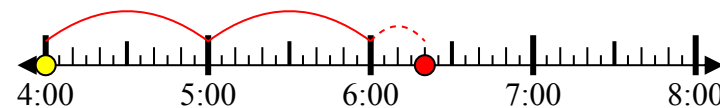
Конец: 7:05



8) Начало: 4:00

истек: 2 ч и 20 мин

Конец: 6:20



Ответы

1. 1:35

2. 8:50

3. 11:55

4. 1:25

5. 7:05

6. 10:40

7. 7:05

8. 6:20