



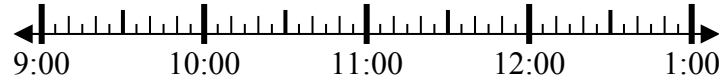
Решите каждую задачу.

Ответы

1) Начало: 9:35

истек: 2 ч и 30 мин

Конец: _____

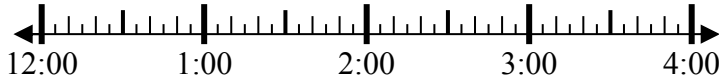


1. _____

2) Начало: 12:50

истек: 1 ч и 45 мин

Конец: _____

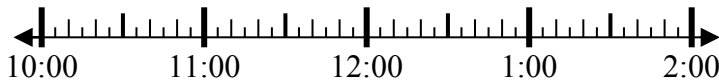


2. _____

3) Начало: 10:15

истек: 1 ч и 25 мин

Конец: _____

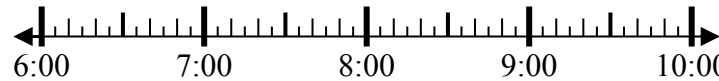


3. _____

4) Начало: 6:25

истек: 1 ч и 45 мин

Конец: _____

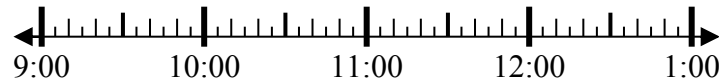


4. _____

5) Начало: 9:10

истек: 1 ч и 15 мин

Конец: _____

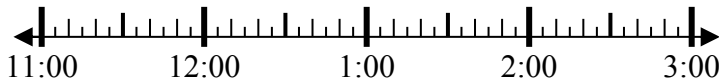


5. _____

6) Начало: 11:45

истек: 2 ч и 15 мин

Конец: _____

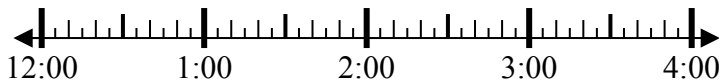


6. _____

7) Начало: 12:20

истек: 1 ч и 40 мин

Конец: _____

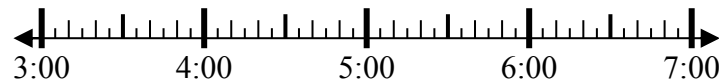


7. _____

8) Начало: 3:35

истек: 1 ч и 40 мин

Конец: _____



8. _____

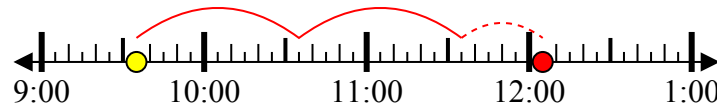


Решите каждую задачу.

1) Начало: 9:35

истек: 2 ч и 30 мин

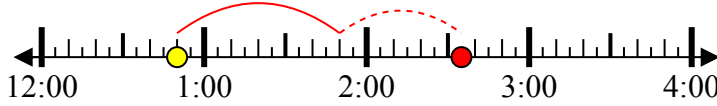
Конец: 12:05



2) Начало: 12:50

истек: 1 ч и 45 мин

Конец: 2:35



3) Начало: 10:15

истек: 1 ч и 25 мин

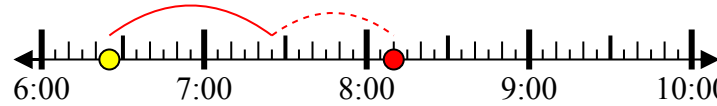
Конец: 11:40



4) Начало: 6:25

истек: 1 ч и 45 мин

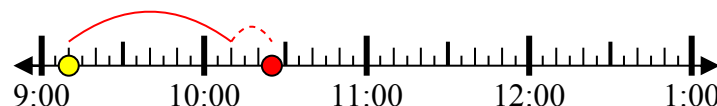
Конец: 8:10



5) Начало: 9:10

истек: 1 ч и 15 мин

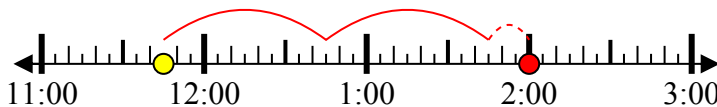
Конец: 10:25



6) Начало: 11:45

истек: 2 ч и 15 мин

Конец: 2:00



7) Начало: 12:20

истек: 1 ч и 40 мин

Конец: 2:00



8) Начало: 3:35

истек: 1 ч и 40 мин

Конец: 5:15



Ответы

1. 12:05

2. 2:35

3. 11:40

4. 8:10

5. 10:25

6. 2:00

7. 2:00

8. 5:15