

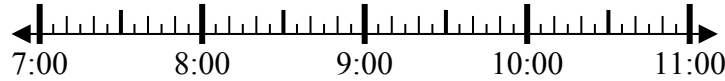


Решите каждую задачу.

1) Начало: 7:05

истек: 2 ч и 20 мин

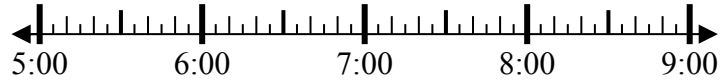
Конец: \_\_\_\_\_



2) Начало: 5:25

истек: 2 ч и 20 мин

Конец: \_\_\_\_\_



3) Начало: 4:15

истек: 1 ч и 35 мин

Конец: \_\_\_\_\_



4) Начало: 12:05

истек: 2 ч и 40 мин

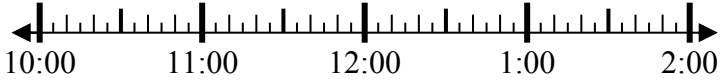
Конец: \_\_\_\_\_



5) Начало: 10:05

истек: 1 ч и 45 мин

Конец: \_\_\_\_\_



6) Начало: 11:45

истек: 2 ч и 15 мин

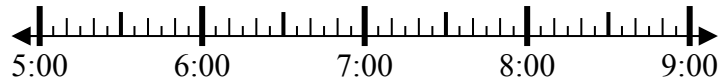
Конец: \_\_\_\_\_



7) Начало: 5:25

истек: 1 ч и 40 мин

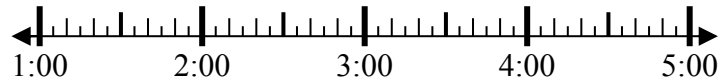
Конец: \_\_\_\_\_



8) Начало: 1:25

истек: 1 ч и 15 мин

Конец: \_\_\_\_\_



Ответы

1. \_\_\_\_\_

2. \_\_\_\_\_

3. \_\_\_\_\_

4. \_\_\_\_\_

5. \_\_\_\_\_

6. \_\_\_\_\_

7. \_\_\_\_\_

8. \_\_\_\_\_

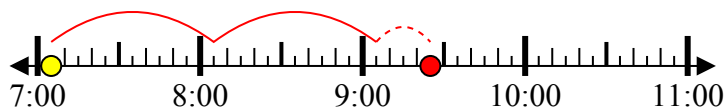


Решите каждую задачу.

1) Начало: 7:05

истек: 2 ч и 20 мин

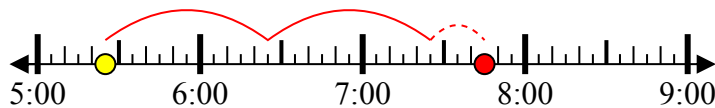
Конец: 9:25



2) Начало: 5:25

истек: 2 ч и 20 мин

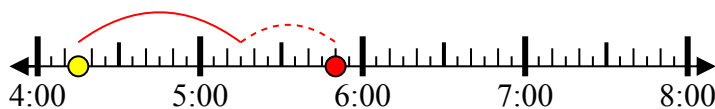
Конец: 7:45



3) Начало: 4:15

истек: 1 ч и 35 мин

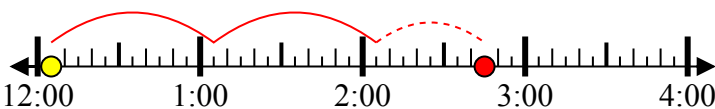
Конец: 5:50



4) Начало: 12:05

истек: 2 ч и 40 мин

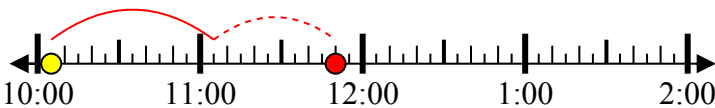
Конец: 2:45



5) Начало: 10:05

истек: 1 ч и 45 мин

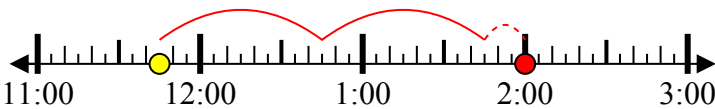
Конец: 11:50



6) Начало: 11:45

истек: 2 ч и 15 мин

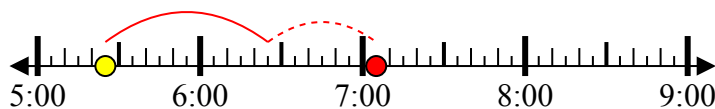
Конец: 2:00



7) Начало: 5:25

истек: 1 ч и 40 мин

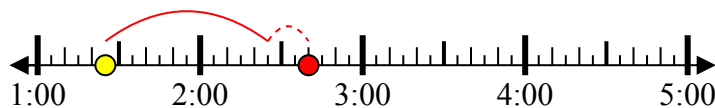
Конец: 7:05



8) Начало: 1:25

истек: 1 ч и 15 мин

Конец: 2:40



**Ответы**

1. 9:25

2. 7:45

3. 5:50

4. 2:45

5. 11:50

6. 2:00

7. 7:05

8. 2:40