



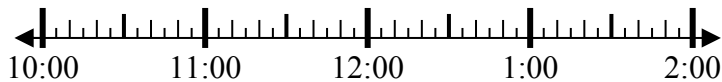
Решите каждую задачу.

Ответы

1) Начало: 10:50

истек: 2 ч и 30 мин

Конец: _____



1. _____

2) Начало: 5:10

истек: 1 ч и 25 мин

Конец: _____

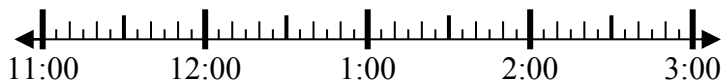


2. _____

3) Начало: 11:40

истек: 1 ч и 35 мин

Конец: _____



3. _____

4) Начало: 4:20

истек: 2 ч и 15 мин

Конец: _____



4. _____

5) Начало: 5:15

истек: 2 ч и 25 мин

Конец: _____

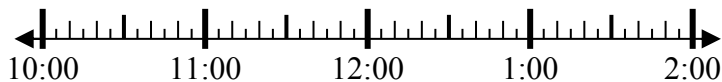


5. _____

6) Начало: 10:20

истек: 2 ч и 35 мин

Конец: _____



6. _____

7) Начало: 12:45

истек: 2 ч и 50 мин

Конец: _____

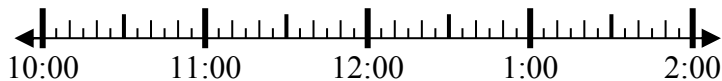


7. _____

8) Начало: 10:40

истек: 1 ч и 30 мин

Конец: _____



8. _____

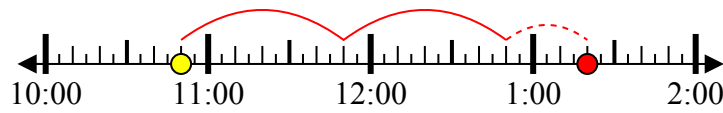


Решите каждую задачу.

1) Начало: 10:50

истек: 2 ч и 30 мин

Конец: 1:20



2) Начало: 5:10

истек: 1 ч и 25 мин

Конец: 6:35



3) Начало: 11:40

истек: 1 ч и 35 мин

Конец: 1:15



4) Начало: 4:20

истек: 2 ч и 15 мин

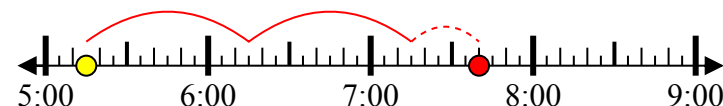
Конец: 6:35



5) Начало: 5:15

истек: 2 ч и 25 мин

Конец: 7:40



6) Начало: 10:20

истек: 2 ч и 35 мин

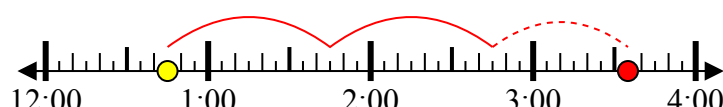
Конец: 12:55



7) Начало: 12:45

истек: 2 ч и 50 мин

Конец: 3:35



8) Начало: 10:40

истек: 1 ч и 30 мин

Конец: 12:10



Ответы

1. 1:20

2. 6:35

3. 1:15

4. 6:35

5. 7:40

6. 12:55

7. 3:35

8. 12:10