



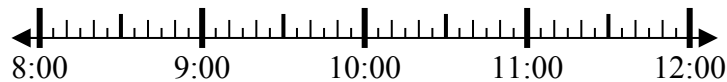
Решите каждую задачу.

Ответы

1) Начало: 8:30

истек: 2 ч и 20 мин

Конец: _____



1. _____

2) Начало: 8:00

истек: 2 ч и 55 мин

Конец: _____



2. _____

3) Начало: 12:20

истек: 2 ч и 35 мин

Конец: _____

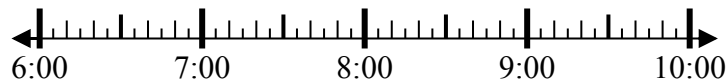


3. _____

4) Начало: 6:05

истек: 1 ч и 10 мин

Конец: _____

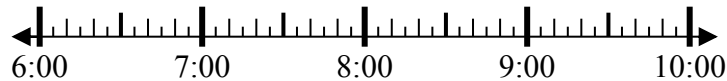


4. _____

5) Начало: 6:20

истек: 1 ч и 50 мин

Конец: _____

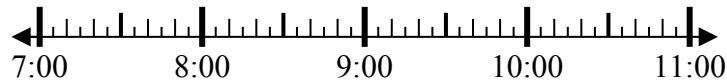


5. _____

6) Начало: 7:35

истек: 2 ч и 40 мин

Конец: _____



6. _____

7) Начало: 11:00

истек: 1 ч и 30 мин

Конец: _____



7. _____

8) Начало: 12:20

истек: 1 ч и 45 мин

Конец: _____



8. _____



Решите каждую задачу.

1) Начало: 8:30

истек: 2 ч и 20 мин

Конец: 10:50



2) Начало: 8:00

истек: 2 ч и 55 мин

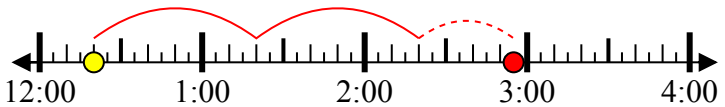
Конец: 10:55



3) Начало: 12:20

истек: 2 ч и 35 мин

Конец: 2:55



4) Начало: 6:05

истек: 1 ч и 10 мин

Конец: 7:15



5) Начало: 6:20

истек: 1 ч и 50 мин

Конец: 8:10



6) Начало: 7:35

истек: 2 ч и 40 мин

Конец: 10:15



7) Начало: 11:00

истек: 1 ч и 30 мин

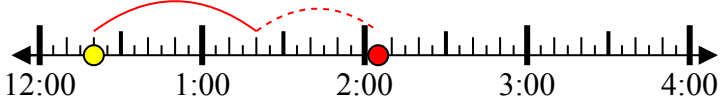
Конец: 12:30



8) Начало: 12:20

истек: 1 ч и 45 мин

Конец: 2:05



Ответы

1. 10:50

2. 10:55

3. 2:55

4. 7:15

5. 8:10

6. 10:15

7. 12:30

8. 2:05