



Решите каждую задачу.

Ответы

1) Начало: _____

истек: 1 ч и 40 мин

Конец: 3:55

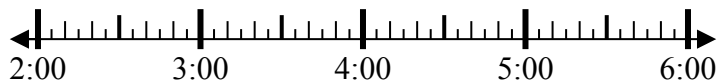


1. _____

2) Начало: _____

истек: 2 ч и 45 мин

Конец: 4:55

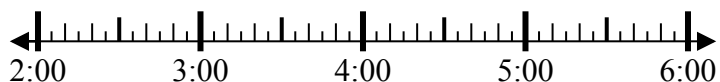


2. _____

3) Начало: _____

истек: 2 ч и 10 мин

Конец: 4:55

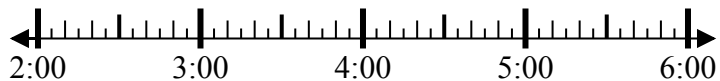


3. _____

4) Начало: _____

истек: 1 ч и 20 мин

Конец: 3:40



4. _____

5) Начало: _____

истек: 2 ч и 25 мин

Конец: 1:30

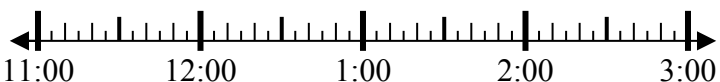


5. _____

6) Начало: _____

истек: 2 ч и 20 мин

Конец: 1:25

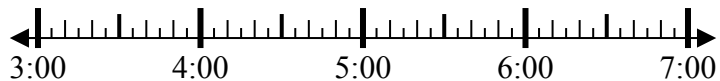


6. _____

7) Начало: _____

истек: 2 ч и 20 мин

Конец: 6:05



7. _____

8) Начало: _____

истек: 1 ч и 30 мин

Конец: 7:50

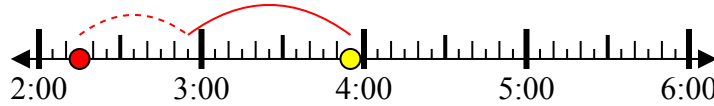


8. _____

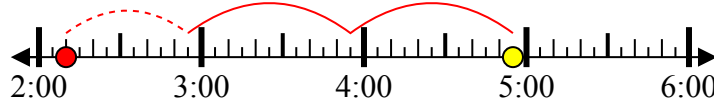


Решите каждую задачу.

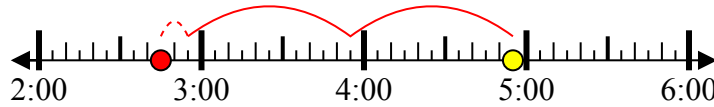
1) Начало: 2:15
 истек: 1 ч и 40 мин
 Конец: 3:55



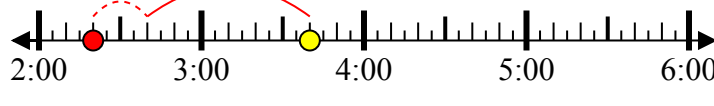
2) Начало: 2:10
 истек: 2 ч и 45 мин
 Конец: 4:55



3) Начало: 2:45
 истек: 2 ч и 10 мин
 Конец: 4:55



4) Начало: 2:20
 истек: 1 ч и 20 мин
 Конец: 3:40



5) Начало: 11:05
 истек: 2 ч и 25 мин
 Конец: 1:30



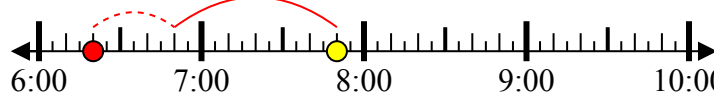
6) Начало: 11:05
 истек: 2 ч и 20 мин
 Конец: 1:25



7) Начало: 3:45
 истек: 2 ч и 20 мин
 Конец: 6:05



8) Начало: 6:20
 истек: 1 ч и 30 мин
 Конец: 7:50



Ответы

1. 2:15

2. 2:10

3. 2:45

4. 2:20

5. 11:05

6. 11:05

7. 3:45

8. 6:20