



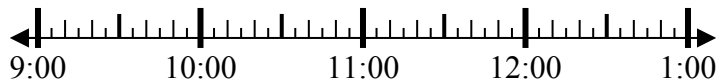
Решите каждую задачу.

Ответы

1) Начало: _____

истек: 1 ч и 25 мин

Конец: 10:45

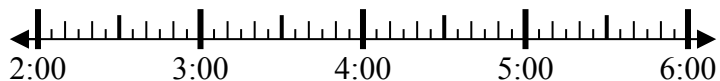


1. _____

2) Начало: _____

истек: 2 ч и 55 мин

Конец: 4:55



2. _____

3) Начало: _____

истек: 2 ч и 15 мин

Конец: 9:55



3. _____

4) Начало: _____

истек: 1 ч и 10 мин

Конец: 8:25



4. _____

5) Начало: _____

истек: 2 ч и 25 мин

Конец: 1:40



5. _____

6) Начало: _____

истек: 1 ч и 25 мин

Конец: 6:55



6. _____

7) Начало: _____

истек: 2 ч и 40 мин

Конец: 2:40



7. _____

8) Начало: _____

истек: 1 ч и 20 мин

Конец: 1:35

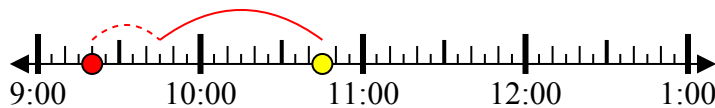


8. _____

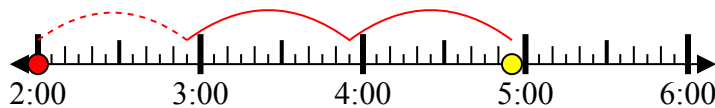


Решите каждую задачу.

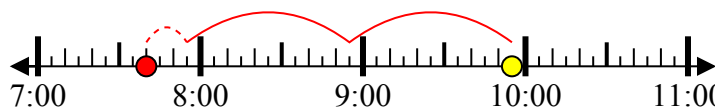
1) Начало: 9:20
 истек: 1 ч и 25 мин
 Конец: 10:45



2) Начало: 2:00
 истек: 2 ч и 55 мин
 Конец: 4:55



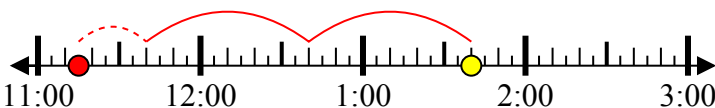
3) Начало: 7:40
 истек: 2 ч и 15 мин
 Конец: 9:55



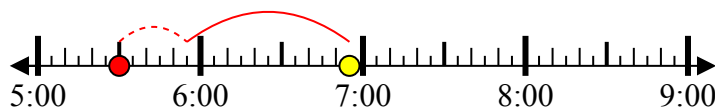
4) Начало: 7:15
 истек: 1 ч и 10 мин
 Конец: 8:25



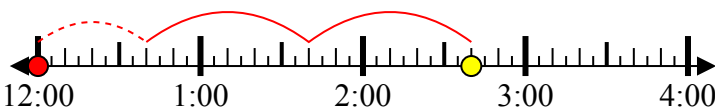
5) Начало: 11:15
 истек: 2 ч и 25 мин
 Конец: 1:40



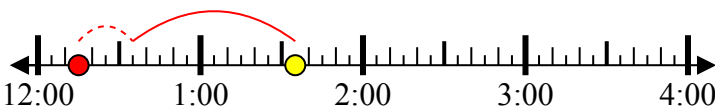
6) Начало: 5:30
 истек: 1 ч и 25 мин
 Конец: 6:55



7) Начало: 12:00
 истек: 2 ч и 40 мин
 Конец: 2:40



8) Начало: 12:15
 истек: 1 ч и 20 мин
 Конец: 1:35



Ответы

1. 9:20

2. 2:00

3. 7:40

4. 7:15

5. 11:15

6. 5:30

7. 12:00

8. 12:15