



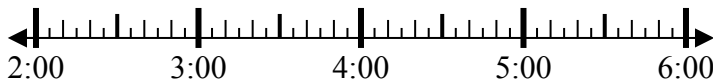
Решите каждую задачу.

Ответы

1) Начало: \_\_\_\_\_

истек: 2 ч и 50 мин

Конец: 5:40

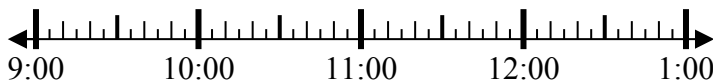


1. \_\_\_\_\_

2) Начало: \_\_\_\_\_

истек: 1 ч и 10 мин

Конец: 10:20



2. \_\_\_\_\_

3) Начало: \_\_\_\_\_

истек: 1 ч и 15 мин

Конец: 8:20



3. \_\_\_\_\_

4) Начало: \_\_\_\_\_

истек: 1 ч и 15 мин

Конец: 4:15



4. \_\_\_\_\_

5) Начало: \_\_\_\_\_

истек: 1 ч и 40 мин

Конец: 8:55



5. \_\_\_\_\_

6) Начало: \_\_\_\_\_

истек: 2 ч и 15 мин

Конец: 7:15

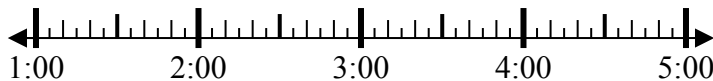


6. \_\_\_\_\_

7) Начало: \_\_\_\_\_

истек: 2 ч и 45 мин

Конец: 3:45



7. \_\_\_\_\_

8) Начало: \_\_\_\_\_

истек: 1 ч и 20 мин

Конец: 5:55

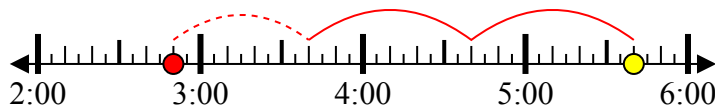


8. \_\_\_\_\_



Решите каждую задачу.

1) Начало: 2:50  
 истек: 2 ч и 50 мин  
 Конец: 5:40



2) Начало: 9:10  
 истек: 1 ч и 10 мин  
 Конец: 10:20



3) Начало: 7:05  
 истек: 1 ч и 15 мин  
 Конец: 8:20



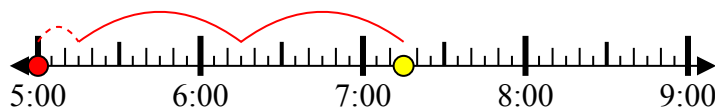
4) Начало: 3:00  
 истек: 1 ч и 15 мин  
 Конец: 4:15



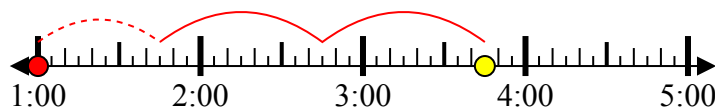
5) Начало: 7:15  
 истек: 1 ч и 40 мин  
 Конец: 8:55



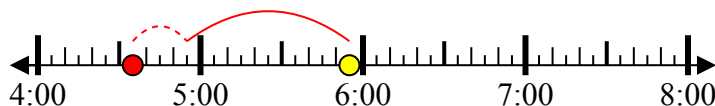
6) Начало: 5:00  
 истек: 2 ч и 15 мин  
 Конец: 7:15



7) Начало: 1:00  
 истек: 2 ч и 45 мин  
 Конец: 3:45



8) Начало: 4:35  
 истек: 1 ч и 20 мин  
 Конец: 5:55



**Ответы**

1. 2:50

2. 9:10

3. 7:05

4. 3:00

5. 7:15

6. 5:00

7. 1:00

8. 4:35