



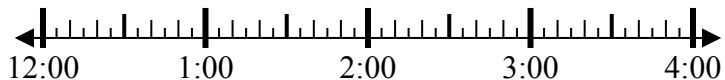
Решите каждую задачу.

Ответы

1) Начало: _____

истек: 1 ч и 25 мин

Конец: 1:35

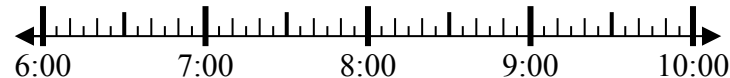


1. _____

2) Начало: _____

истек: 2 ч и 10 мин

Конец: 8:50

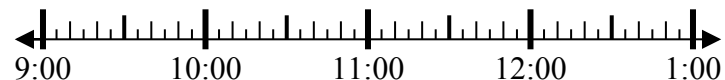


2. _____

3) Начало: _____

истек: 2 ч и 50 мин

Конец: 11:55

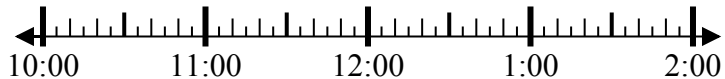


3. _____

4) Начало: _____

истек: 2 ч и 40 мин

Конец: 1:25

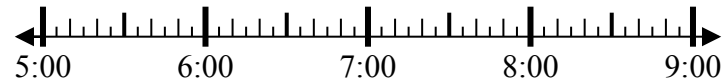


4. _____

5) Начало: _____

истек: 1 ч и 30 мин

Конец: 7:05

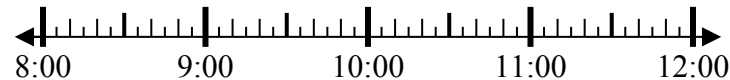


5. _____

6) Начало: _____

истек: 2 ч и 25 мин

Конец: 10:40

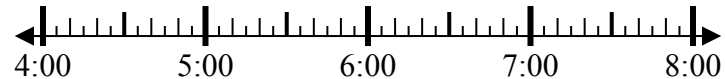


6. _____

7) Начало: _____

истек: 2 ч и 55 мин

Конец: 7:05

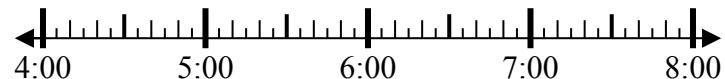


7. _____

8) Начало: _____

истек: 2 ч и 20 мин

Конец: 6:20



8. _____

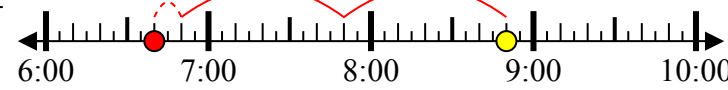


Решите каждую задачу.

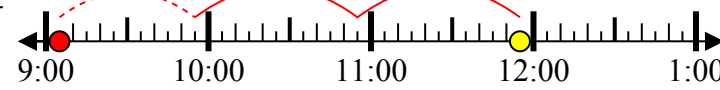
1) Начало: 12:10
 истек: 1 ч и 25 мин
 Конец: 1:35



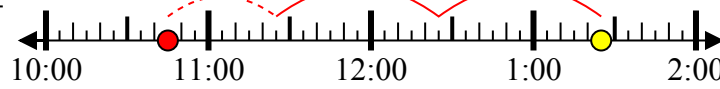
2) Начало: 6:40
 истек: 2 ч и 10 мин
 Конец: 8:50



3) Начало: 9:05
 истек: 2 ч и 50 мин
 Конец: 11:55



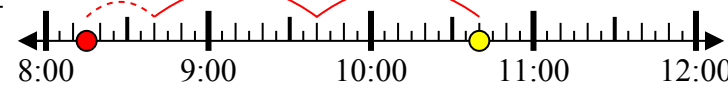
4) Начало: 10:45
 истек: 2 ч и 40 мин
 Конец: 1:25



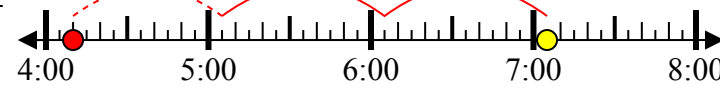
5) Начало: 5:35
 истек: 1 ч и 30 мин
 Конец: 7:05



6) Начало: 8:15
 истек: 2 ч и 25 мин
 Конец: 10:40



7) Начало: 4:10
 истек: 2 ч и 55 мин
 Конец: 7:05



8) Начало: 4:00
 истек: 2 ч и 20 мин
 Конец: 6:20



Ответы

1. 12:10

2. 6:40

3. 9:05

4. 10:45

5. 5:35

6. 8:15

7. 4:10

8. 4:00