



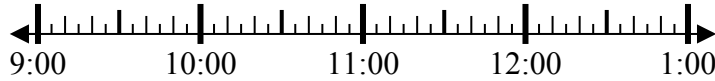
Решите каждую задачу.

Ответы

1) Начало: _____

истек: 2 ч и 30 мин

Конец: 12:05

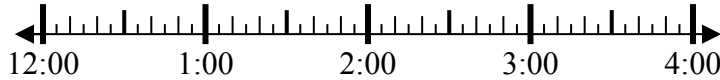


1. _____

2) Начало: _____

истек: 1 ч и 45 мин

Конец: 2:35



2. _____

3) Начало: _____

истек: 1 ч и 25 мин

Конец: 11:40



3. _____

4) Начало: _____

истек: 1 ч и 45 мин

Конец: 8:10

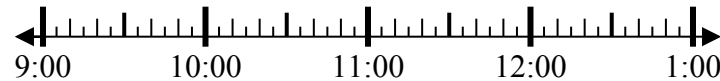


4. _____

5) Начало: _____

истек: 1 ч и 15 мин

Конец: 10:25



5. _____

6) Начало: _____

истек: 2 ч и 15 мин

Конец: 2:00



6. _____

7) Начало: _____

истек: 1 ч и 40 мин

Конец: 2:00

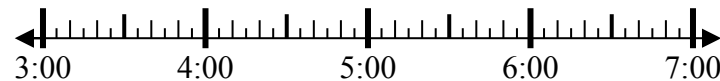


7. _____

8) Начало: _____

истек: 1 ч и 40 мин

Конец: 5:15



8. _____



Решите каждую задачу.

1) Начало: 9:35
 истек: 2 ч и 30 мин
 Конец: 12:05



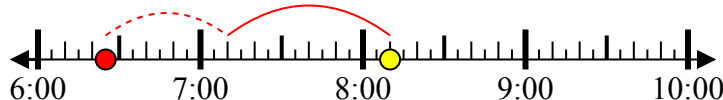
2) Начало: 12:50
 истек: 1 ч и 45 мин
 Конец: 2:35



3) Начало: 10:15
 истек: 1 ч и 25 мин
 Конец: 11:40



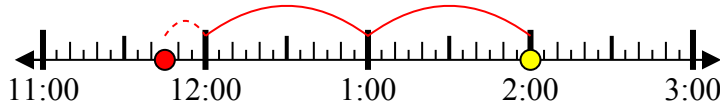
4) Начало: 6:25
 истек: 1 ч и 45 мин
 Конец: 8:10



5) Начало: 9:10
 истек: 1 ч и 15 мин
 Конец: 10:25



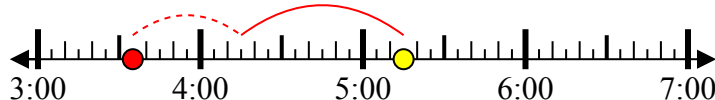
6) Начало: 11:45
 истек: 2 ч и 15 мин
 Конец: 2:00



7) Начало: 12:20
 истек: 1 ч и 40 мин
 Конец: 2:00



8) Начало: 3:35
 истек: 1 ч и 40 мин
 Конец: 5:15



Ответы

1. 9:35

2. 12:50

3. 10:15

4. 6:25

5. 9:10

6. 11:45

7. 12:20

8. 3:35