



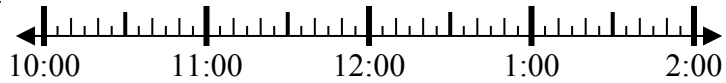
Решите каждую задачу.

ОТВЕТЫ

1) Начало: \_\_\_\_\_

истек: 2 ч и 30 мин

Конец: 1:20

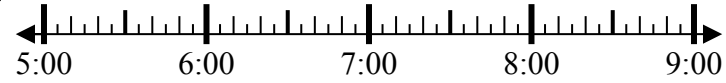


1. \_\_\_\_\_

2) Начало: \_\_\_\_\_

истек: 1 ч и 25 мин

Конец: 6:35

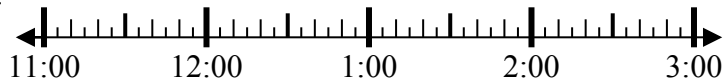


2. \_\_\_\_\_

3) Начало: \_\_\_\_\_

истек: 1 ч и 35 мин

Конец: 1:15

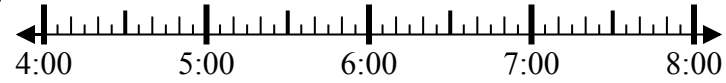


3. \_\_\_\_\_

4) Начало: \_\_\_\_\_

истек: 2 ч и 15 мин

Конец: 6:35

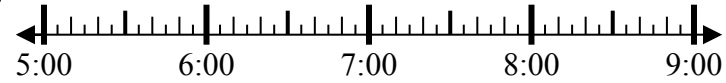


4. \_\_\_\_\_

5) Начало: \_\_\_\_\_

истек: 2 ч и 25 мин

Конец: 7:40

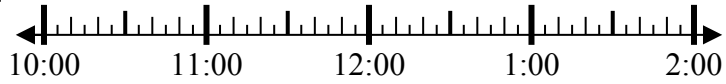


5. \_\_\_\_\_

6) Начало: \_\_\_\_\_

истек: 2 ч и 35 мин

Конец: 12:55

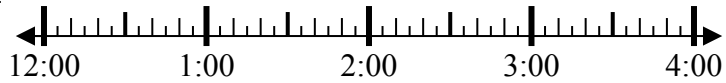


6. \_\_\_\_\_

7) Начало: \_\_\_\_\_

истек: 2 ч и 50 мин

Конец: 3:35

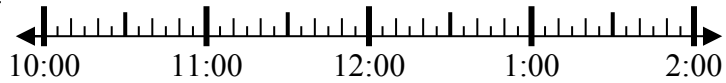


7. \_\_\_\_\_

8) Начало: \_\_\_\_\_

истек: 1 ч и 30 мин

Конец: 12:10



8. \_\_\_\_\_



Решите каждую задачу.

1) Начало: 10:50  
 истек: 2 ч и 30 мин  
 Конец: 1:20



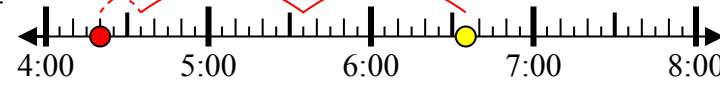
2) Начало: 5:10  
 истек: 1 ч и 25 мин  
 Конец: 6:35



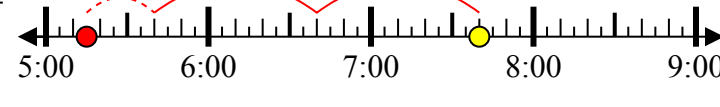
3) Начало: 11:40  
 истек: 1 ч и 35 мин  
 Конец: 1:15



4) Начало: 4:20  
 истек: 2 ч и 15 мин  
 Конец: 6:35



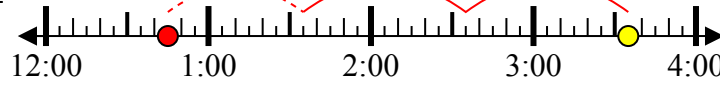
5) Начало: 5:15  
 истек: 2 ч и 25 мин  
 Конец: 7:40



6) Начало: 10:20  
 истек: 2 ч и 35 мин  
 Конец: 12:55



7) Начало: 12:45  
 истек: 2 ч и 50 мин  
 Конец: 3:35



8) Начало: 10:40  
 истек: 1 ч и 30 мин  
 Конец: 12:10



**Отвeты**

1. 10:50
2. 5:10
3. 11:40
4. 4:20
5. 5:15
6. 10:20
7. 12:45
8. 10:40