



Решите каждую задачу.

ОТВЕТЫ

1) Начало: \_\_\_\_\_

истек: 1 ч и 10 мин

Конец: 8:10



1. \_\_\_\_\_

2) Начало: \_\_\_\_\_

истек: 1 ч и 30 мин

Конец: 5:45

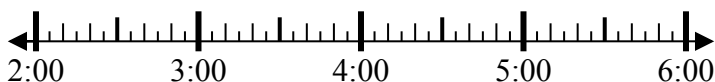


2. \_\_\_\_\_

3) Начало: \_\_\_\_\_

истек: 2 ч и 40 мин

Конец: 4:55



3. \_\_\_\_\_

4) Начало: \_\_\_\_\_

истек: 2 ч и 45 мин

Конец: 9:35

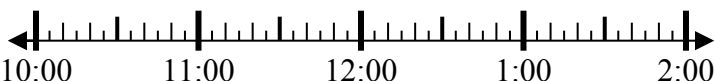


4. \_\_\_\_\_

5) Начало: \_\_\_\_\_

истек: 2 ч и 25 мин

Конец: 12:35

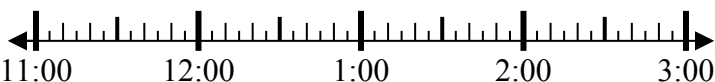


5. \_\_\_\_\_

6) Начало: \_\_\_\_\_

истек: 2 ч и 50 мин

Конец: 1:55

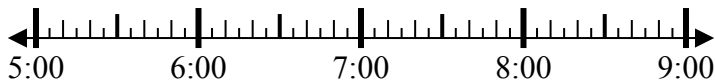


6. \_\_\_\_\_

7) Начало: \_\_\_\_\_

истек: 1 ч и 45 мин

Конец: 6:50



7. \_\_\_\_\_

8) Начало: \_\_\_\_\_

истек: 2 ч и 35 мин

Конец: 9:20



8. \_\_\_\_\_



Решите каждую задачу.

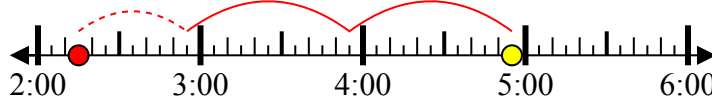
1) Начало: 7:00  
 истек: 1 ч и 10 мин  
 Конец: 8:10



2) Начало: 4:15  
 истек: 1 ч и 30 мин  
 Конец: 5:45



3) Начало: 2:15  
 истек: 2 ч и 40 мин  
 Конец: 4:55



4) Начало: 6:50  
 истек: 2 ч и 45 мин  
 Конец: 9:35



5) Начало: 10:10  
 истек: 2 ч и 25 мин  
 Конец: 12:35



6) Начало: 11:05  
 истек: 2 ч и 50 мин  
 Конец: 1:55



7) Начало: 5:05  
 истек: 1 ч и 45 мин  
 Конец: 6:50



8) Начало: 6:45  
 истек: 2 ч и 35 мин  
 Конец: 9:20



**Ответы**

1. 7:00

2. 4:15

3. 2:15

4. 6:50

5. 10:10

6. 11:05

7. 5:05

8. 6:45