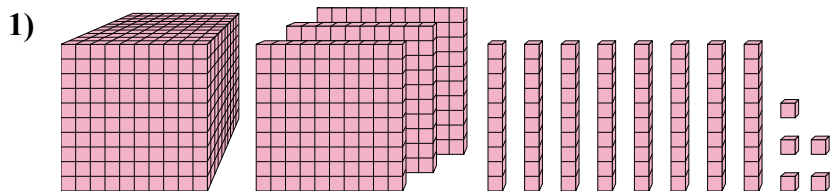


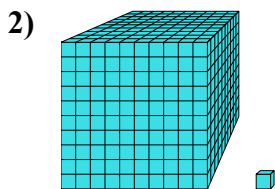




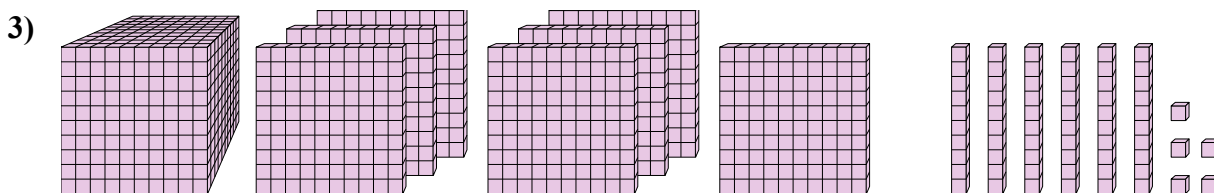
Решите каждую задачу.



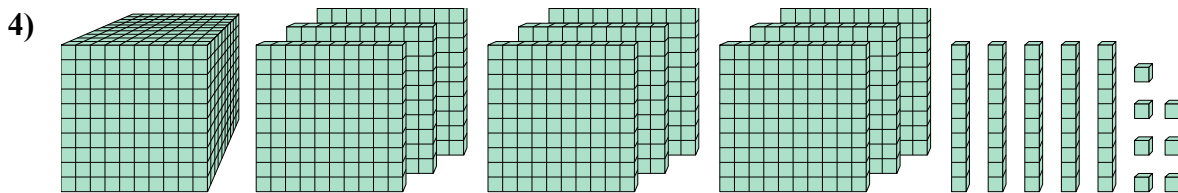
Какая цифра на месте единицами в данном числе?



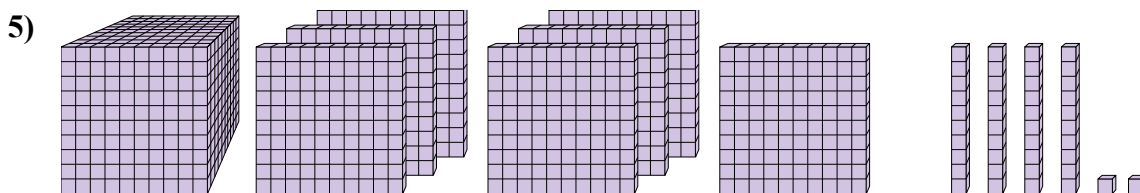
Какая цифра на месте десятками в данном числе?



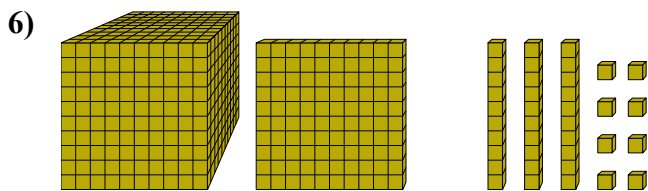
Какая цифра на месте единицами в данном числе?



Какая цифра на месте сотнями в данном числе?



Какая цифра на месте миллиарды в данном числе?



Какая цифра на месте десятками в данном числе?

**ОТВЕТЫ**

1. 5

2. 0

3. 5

4. 1

5. 7

6. 3