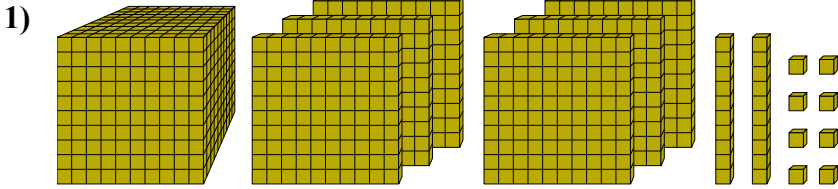




Решите каждую задачу.

ОТВЕТЫ

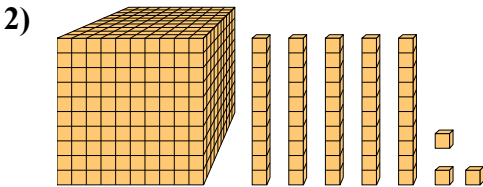


Какая цифра на месте десятками в данном числе?

1. _____

2. _____

3. _____

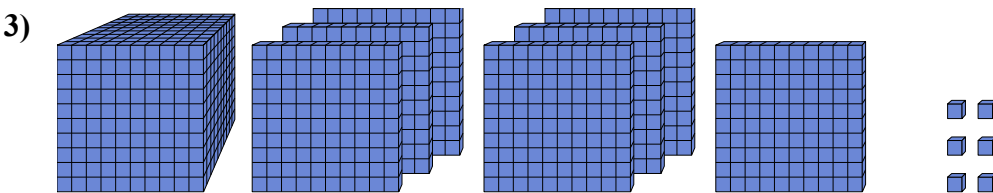


Какая цифра на месте десятками в данном числе?

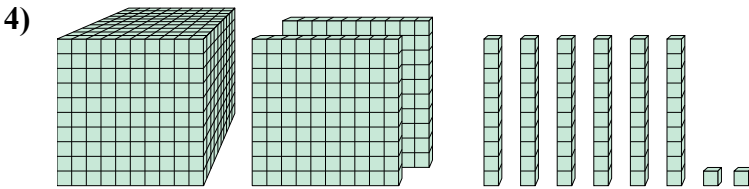
4. _____

5. _____

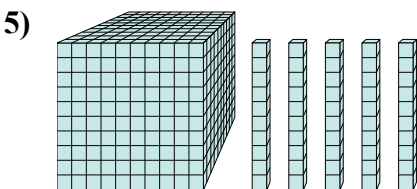
6. _____



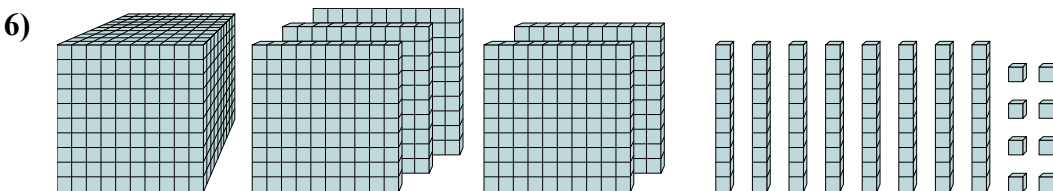
Какая цифра на месте миллиарды в данном числе?



Какая цифра на месте сотнями в данном числе?



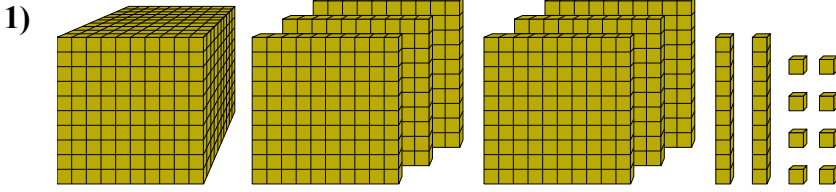
Какая цифра на месте единицами в данном числе?



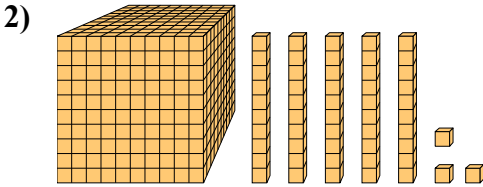
Какая цифра на месте миллиарды в данном числе?



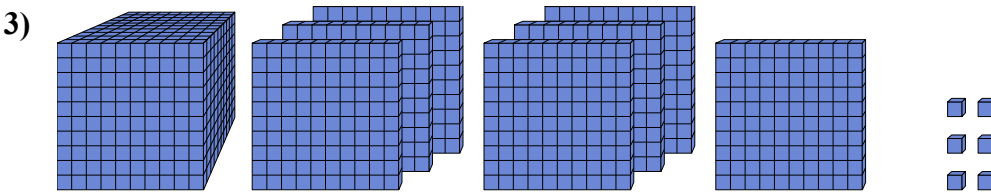
Решите каждую задачу.



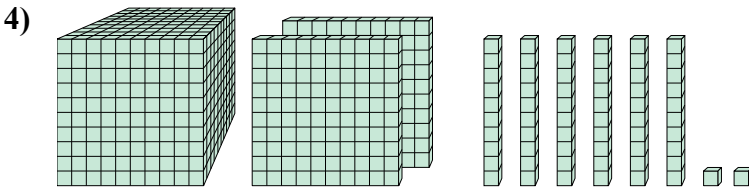
Какая цифра на месте десятками в данном числе?



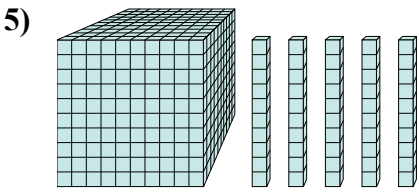
Какая цифра на месте десятками в данном числе?



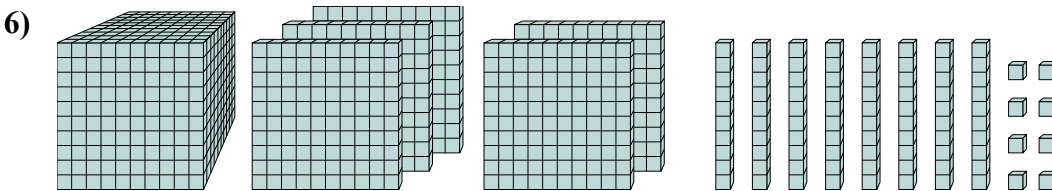
Какая цифра на месте миллиарды в данном числе?



Какая цифра на месте сотнями в данном числе?



Какая цифра на месте единицами в данном числе?



Какая цифра на месте миллиарды в данном числе?

ОТВЕТЫ

1. 2

2. 5

3. 7

4. 1

5. 0

6. 5