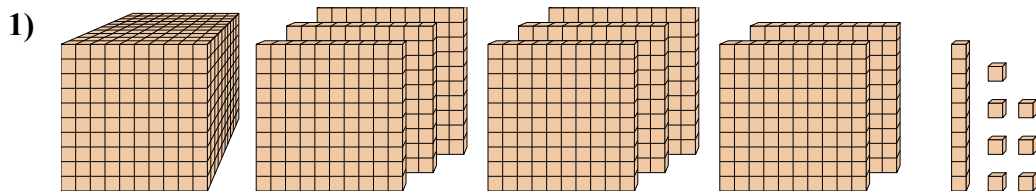




Решите каждую задачу.

**ОТВЕТЫ**

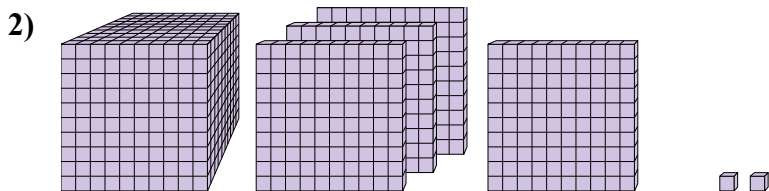


Какая цифра на месте десятками в данном числе?

1. \_\_\_\_\_

2. \_\_\_\_\_

3. \_\_\_\_\_

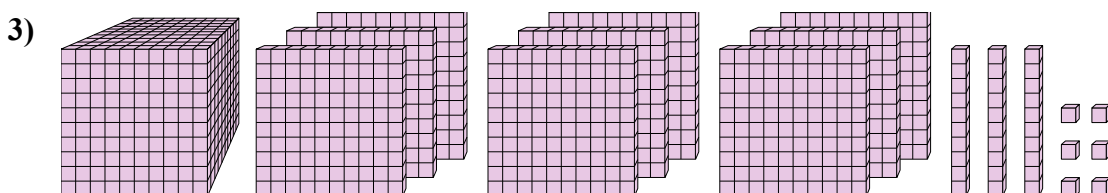


Какая цифра на месте сотнями в данном числе?

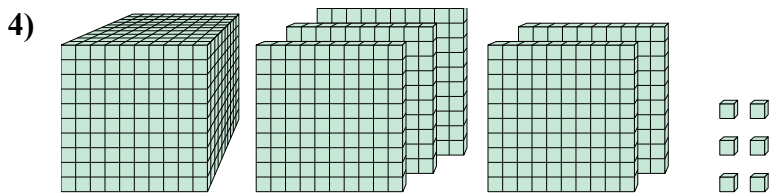
4. \_\_\_\_\_

5. \_\_\_\_\_

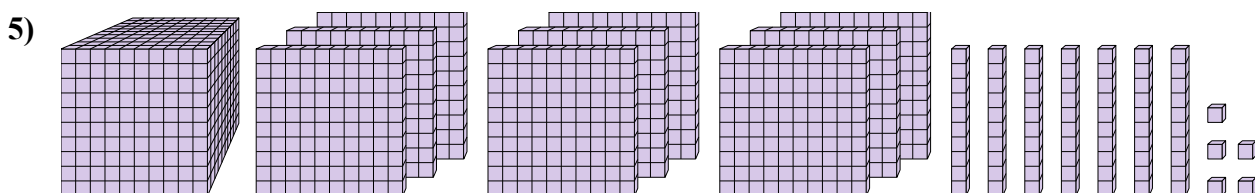
6. \_\_\_\_\_



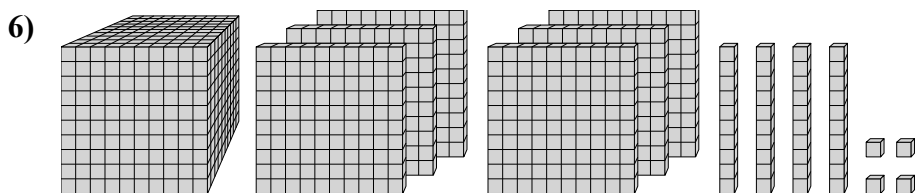
Какая цифра на месте сотнями в данном числе?



Какая цифра на месте сотнями в данном числе?



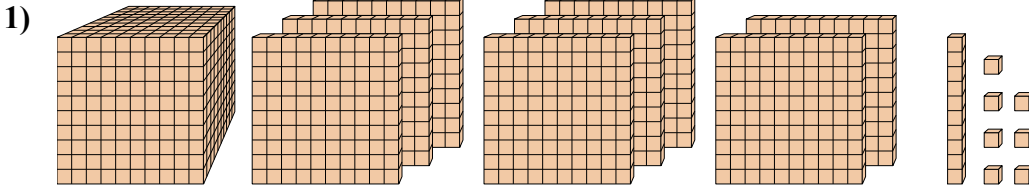
Какая цифра на месте миллиарды в данном числе?



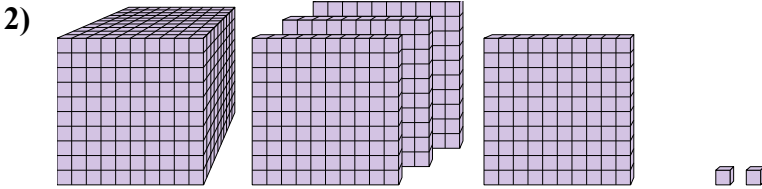
Какая цифра на месте единицами в данном числе?



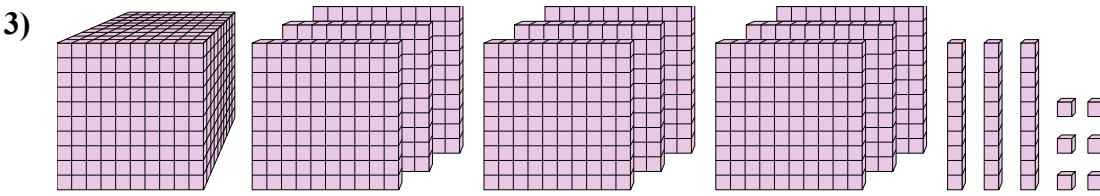
Решите каждую задачу.



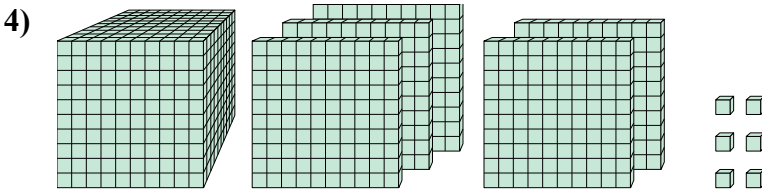
Какая цифра на месте десятками в данном числе?



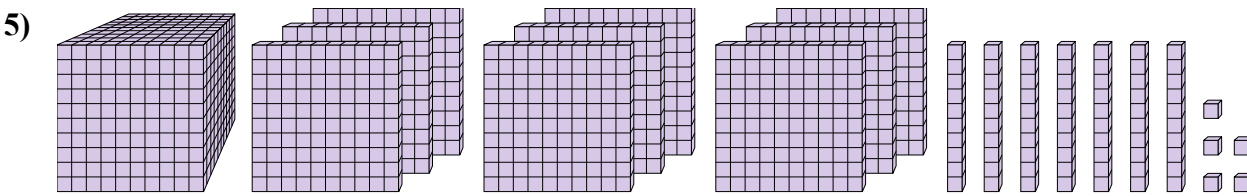
Какая цифра на месте сотнями в данном числе?



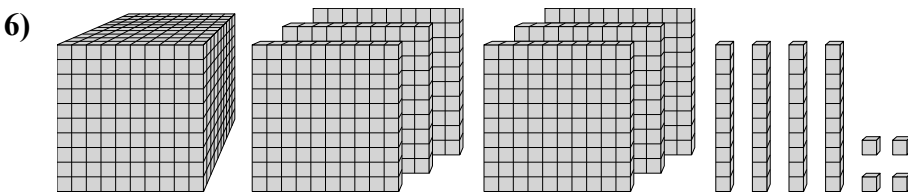
Какая цифра на месте сотнями в данном числе?



Какая цифра на месте сотнями в данном числе?



Какая цифра на месте миллиарды в данном числе?



Какая цифра на месте единицами в данном числе?

**ОТВЕТЫ**

1. 1

2. 1

3. 1

4. 1

5. 9

6. 4