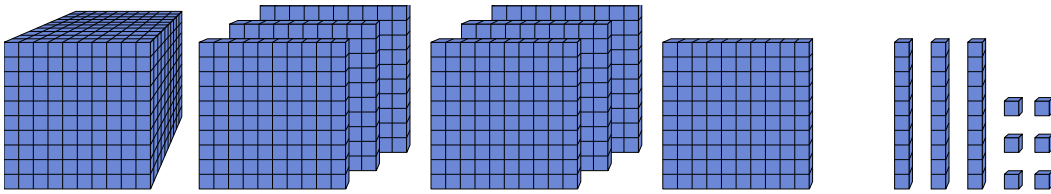




Решите каждую задачу.

ОТВЕТЫ

1)

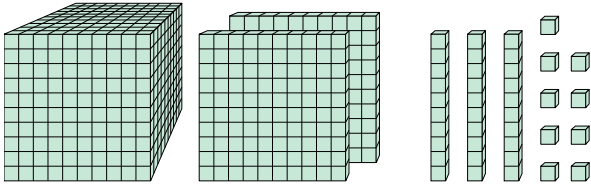


Какая цифра на месте единицами в данном числе?

1. _____

2. _____

2)



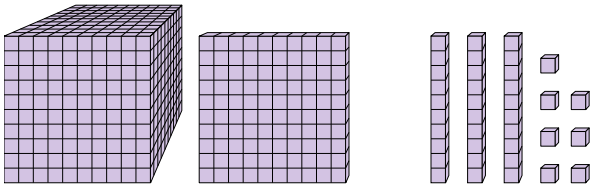
Какая цифра на месте десятками в данном числе?

3. _____

4. _____

5. _____

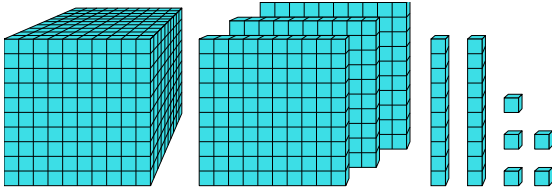
3)



Какая цифра на месте миллиарды в данном числе?

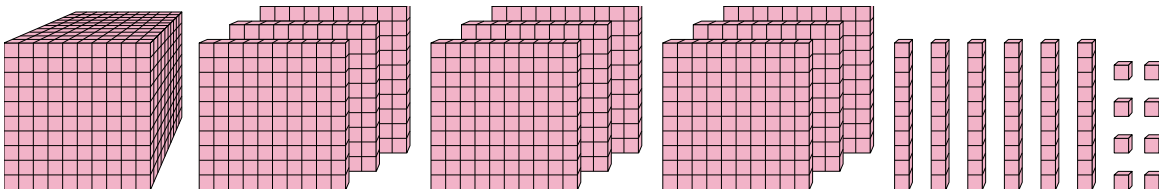
6. _____

4)



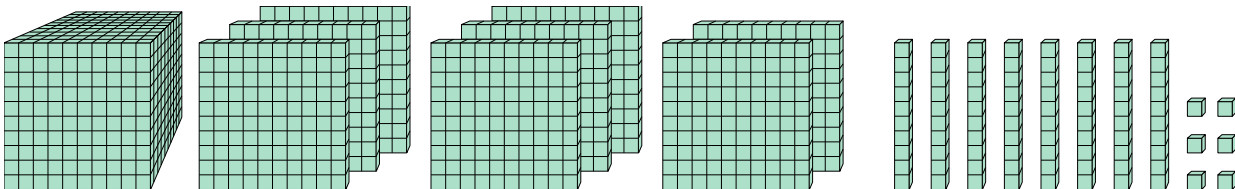
Какая цифра на месте миллиарды в данном числе?

5)



Какая цифра на месте миллиарды в данном числе?

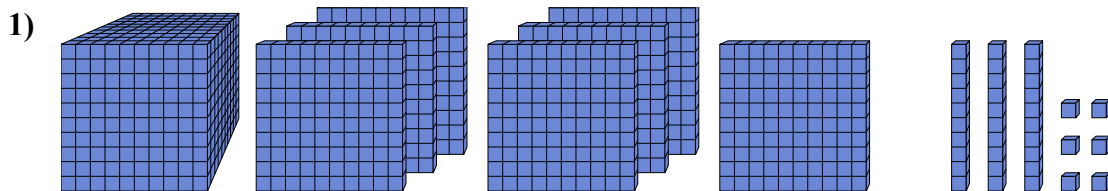
6)



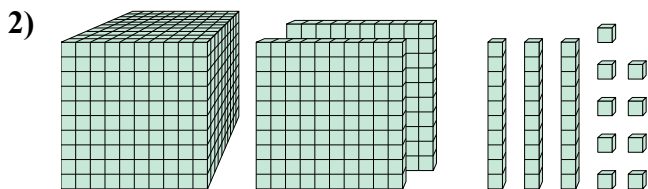
Какая цифра на месте сотнями в данном числе?



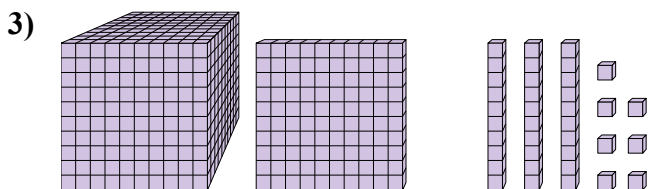
Решите каждую задачу.



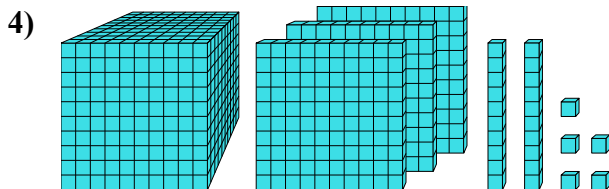
Какая цифра на месте единицами в данном числе?



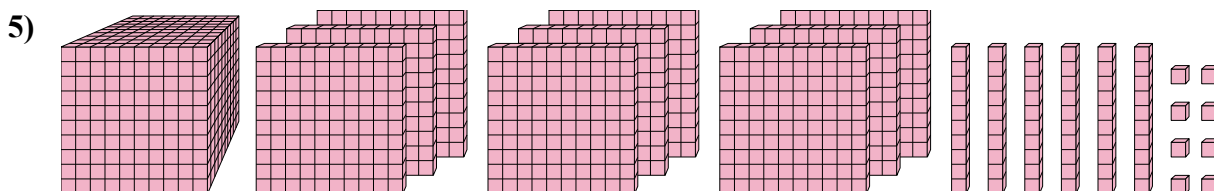
Какая цифра на месте десятками в данном числе?



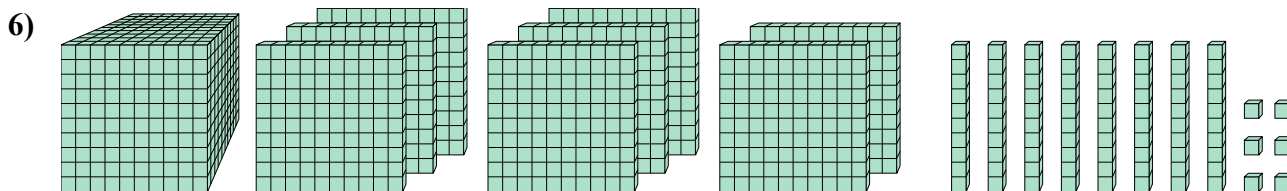
Какая цифра на месте миллиарды в данном числе?



Какая цифра на месте миллиарды в данном числе?



Какая цифра на месте миллиарды в данном числе?



Какая цифра на месте сотнями в данном числе?

ОТВЕТЫ

1. 6

2. 3

3. 1

4. 3

5. 9

6. 1