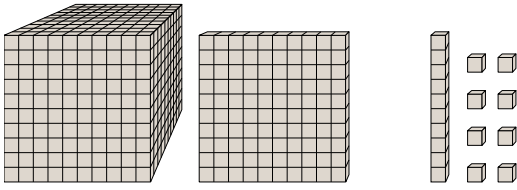




Решите каждую задачу.

ОТВЕТЫ

1)



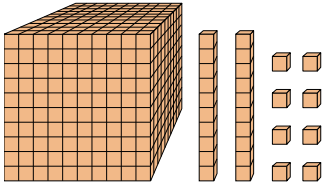
Какая цифра на месте сотнями в данном числе?

1. _____

2. _____

3. _____

2)



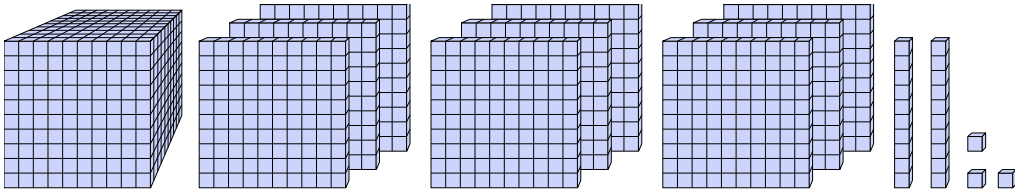
Какая цифра на месте миллиарды в данном числе?

4. _____

5. _____

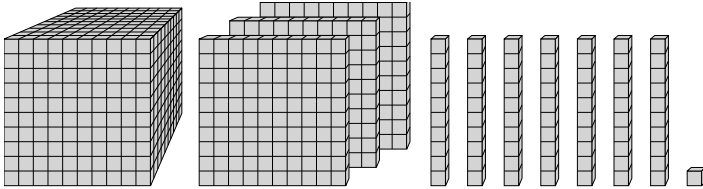
6. _____

3)



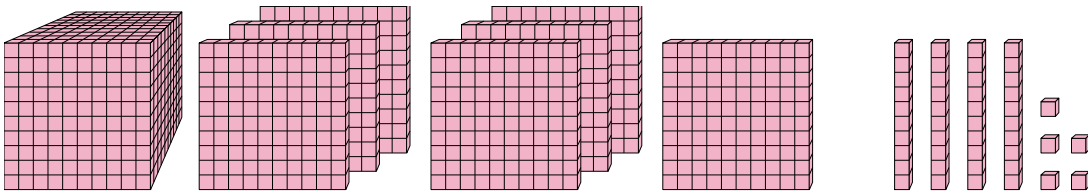
Какая цифра на месте десятками в данном числе?

4)



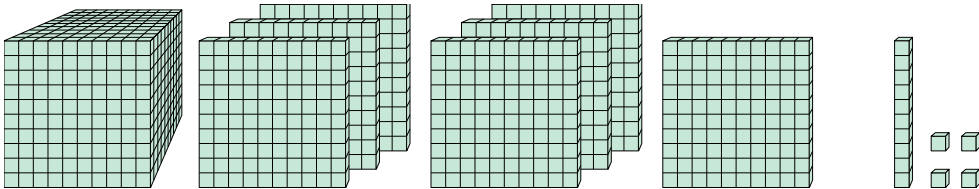
Какая цифра на месте единицами в данном числе?

5)



Какая цифра на месте сотнями в данном числе?

6)

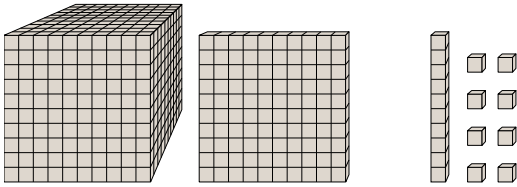


Какая цифра на месте миллиарды в данном числе?



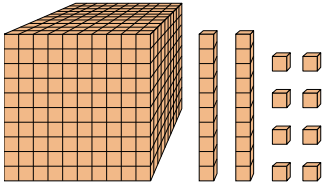
Решите каждую задачу.

1)



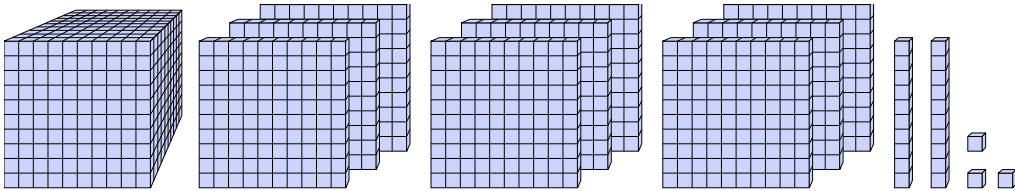
Какая цифра на месте сотнями в данном числе?

2)



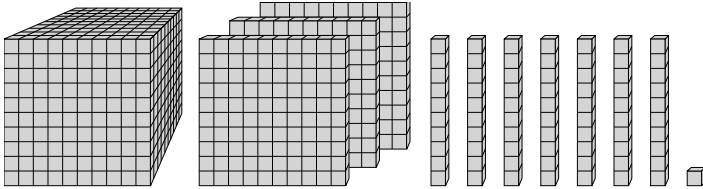
Какая цифра на месте миллиарды в данном числе?

3)



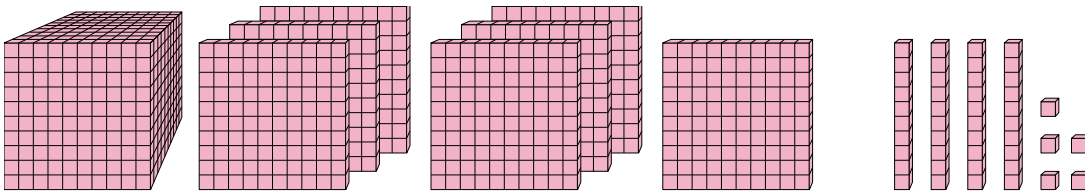
Какая цифра на месте десятками в данном числе?

4)



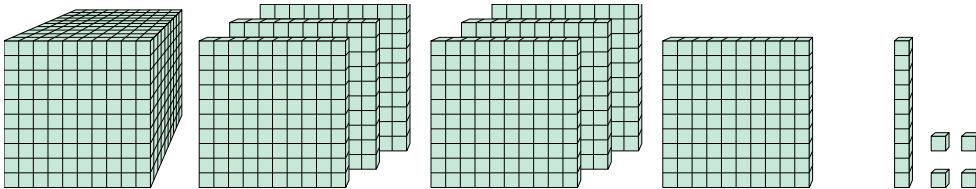
Какая цифра на месте единицами в данном числе?

5)



Какая цифра на месте сотнями в данном числе?

6)



Какая цифра на месте миллиарды в данном числе?

ОТВЕТЫ

1. 1

2. 0

3. 2

4. 1

5. 1

6. 7